

1. ( ) 清末以來，革命黨人為團結力量，陸續成立興中會、同盟會，並多次策動推翻清廷的行動，最後趁機在湖北防務空虛之際起事，得到各省響應，揭開革命成功的序幕。此次的起義行動是指下列何者？ (A) 二次革命 (B) 武昌起義 (C) 誓師北伐 (D) 義和團事件

《答案》B

2. ( ) 一篇文章中提到：「他是民國初年組建國民黨的實際負責人，因國民黨在首屆國會選舉中獲得絕對多數，當他從上海赴北京準備依法組織責任內閣時，在上海火車站遭槍手暗殺。」文中被暗殺的應該是下列何人？ (A) 袁世凱 (B) 梁啟超 (C) 宋教仁 (D) 段祺瑞

《答案》C

3. ( ) 受到清末甲午戰敗的刺激，部分人士希望透過制度的改革來挽救晚清的危局，但亦有人主張用武力手段推翻清廷，建立共和體制。當時進行革命推翻清廷，以下列何人為代表？ (A) 袁世凱 (B) 梁啟超 (C) 孫中山 (D) 康有為

《答案》C

4. ( ) 清末以來，隨著報刊雜誌的刊印流行，帶動了知識的傳播，成為改革的一股重要助力。有一份民國初年發行的雜誌，以鼓吹民主、科學觀念，提倡新文學為其主要內容，曾刊載魯迅的短篇白話小說。由上述可知此份雜誌應該是何者？ (A) 新青年 (B) 萬國公報 (C) 新民叢報 (D) 臺灣民報

《答案》A

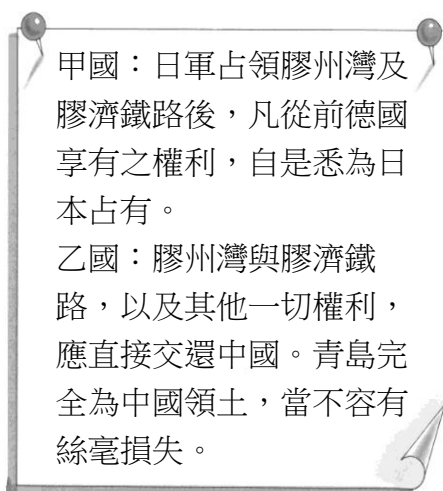
5. ( ) 下列哪一個地理區位於中國與日本之間，東、西、南三面環海？ (A) 澎湖群島 (B) 琉球群島 (C) 朝鮮半島 (D) 山東半島。

《答案》C

6. ( ) 每年 5 月 5 日是日本的兒童節。為慶祝男孩茁壯長大，處處可見到鯉魚旗隨風飄揚的景象。若以日本夏季盛行風判斷，此時旗幟多朝哪一方向飄去？ (A) 東北方 (B) 東南方 (C) 西南方 (D) 西北方。

《答案》D

7. ( ) 下列是兩國代表在一場會議中所發表的言論內容：



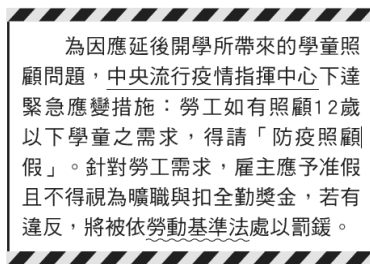
由兩國代表的發言內容來判斷，此會議召開的背景應該為何？ (A) 甲午戰爭結束 (B) 日本出兵濟南 (C) 辛亥革命成功 (D) 第一次世界大戰結束

《答案》D

8. ( ) 下列何者為朝鮮半島地形分布的特徵？ (A) 半島南部高原地形廣布 (B) 主要平原分布於半島西南側 (C) 脊梁山脈分布於半島西側，主要河川向東流入東海 (D) 山地與河川皆源自中國，且成一山一河間雜排列的地形。



《答案》B

9. ( ) 新型冠狀病毒(COVID-19)疫情延燒，為避免群聚感染，我國政府指示各級學校延後開學。有關下圖報導中的緊急應變措施，下列敘述何者正確？ (A) 其屬於狹義的法律 (B) 須基於法律而訂定 (C) 由立法機關所制定 (D) 僅作原則性的規定。



《答案》B

10. ( ) 老師在課堂上帶領同學們討論「兒童及少年為什麼應該學習法律」？並請同學踴躍發表自己的意見。下列 4 位同學的見解，何者是由「維護權益」的角度來回答？



《答案》B

11. ( ) 《勞動基準法》是依據我國《憲法》第 153 條：「國家為改良勞工及農民之生活，增進其生產技能，應制定保護勞工及農民之法律，實施保護勞工及農民

之政策。」而制定，適用《勞動基準法》的勞工權益將獲得最基本的保障。請從上述內容判斷，憲法存在得以實現下列何項目的？ (A)維護社會秩序 (B)保障人民權利 (C)約束政府權力 (D)促進社會進步。

《答案》B


12. ( ) 一份文件中的部分內容如下：「中國允許日本繼承德國在山東的一切利益；山東省內及其沿海土地島嶼不得讓與或租與他國，煙臺或龍口至膠州鐵路，由日本建造……。」由文件的內容判斷，此份文件應該是指下列何者？ (A)馬關條約 (B)南京條約 (C)臨時約法 (D)「二十一條」要求

《答案》D

13. ( ) 「國際貿易是日本的經濟命脈。」這句話最主要在形容日本經濟發展的哪一項特徵？ (A)日本產品價廉質優，在國際市場極具競爭力 (B)日本的陸運以鐵路為主，客貨運輸極為繁忙 (C)日本主要工、礦原料均賴進口，製成工業產品運銷全球 (D)日本海岸線曲折多良港，世界各港口均有日本輪船進出。

《答案》C

14. ( ) 公民老師在課堂上進行分組討論，各組同學必須解讀下圖資料，判斷張釋之這段話的意義與何種概念相同。下列各組的回答何者正確？ (A)亂世必用重典 (B)罪刑法定原則 (C)天子犯法與庶民同罪 (D)以牙還牙、以眼還眼。



《答案》B

15. ( ) 針對公民教育政策的方向，許多學者專家、教師及家長代表均提出自己的見解。請根據下圖討論內容推論，與會者希望將什麼教學目標納入教育政策？ (A)讓學生熟悉青少年諮商輔導機制 (B)讓學生了解家庭暴力防治的方法 (C)讓學生認識兒童及少年保護措施 (D)讓學生增進兒童及少年法律常識。



《答案》D

16. ( ) 現代法治社會，若人民不遵守法律的規定，就必須負擔法律責任。小夫用私人物品長期占用門口道路，被依竊佔罪移送法辦，其所須負擔的法律責任與下列何者相同？ (A)小櫻騎機車出門買東西沒有戴安全帽 (B)阿強為了購買新款手機，向同學勒索取財 (C)胖虎深夜在社區中庭唱歌，妨礙安寧 (D)花媽怕兒子學壞，不讓他受國民義務教育。

《答案》B

17. ( ) 小賢在校園中看到宣導某國際法的海報如下圖，請判斷其所宣導的法規最有可能為下列何者？ (A)《兒童權利公約》 (B)《少年事件處理法》 (C)《兒童及少年性剝削防制條例》 (D)《兒童及少年福利與權益保障法》。



《答案》A

18. ( ) 中華人民共和國有一個時期流行的順口溜如下：「生活集體化，食堂如我家」、「吃飯不花錢，努力搞生產」、「人人進入新樂園，吃喝穿用不要錢；雞鴨魚肉味道鮮，頓頓可吃四個盤；天天可以吃水果，各樣衣服穿不完。」這些順口溜的內容是指下列何者？ (A)外資到上海建設的大型遊樂園 (B)共產主義社會實施的人民公社 (C)臺商在中國所投資設立的工廠 (D)中國創辦的新式綜合型大賣場

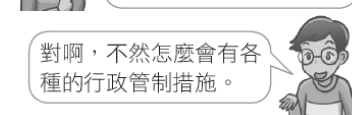
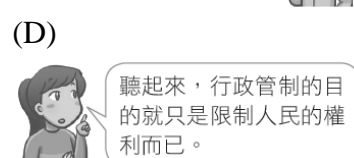
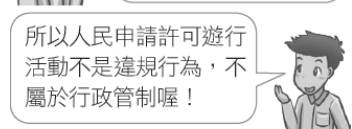
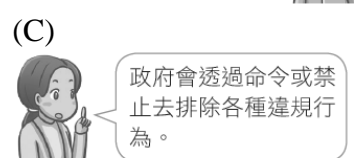
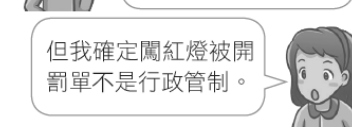
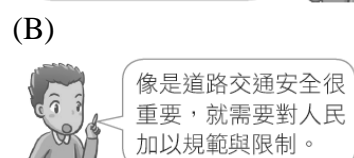
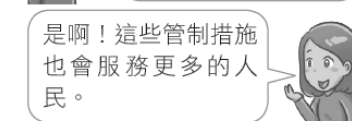
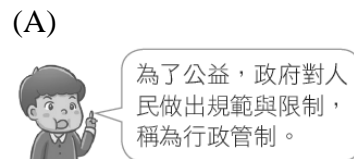
《答案》B

19. ( ) 李文無照駕駛、違規闖紅燈並撞傷學童，警察隨即到場並開單處罰，事後學童家長告上法院。附表是他此次事故所支出的費用，其中屬於行政責任的部分是多少元？ (A)7,500 (B)58,500 (C)80,000 (D)87,500。

項目	金額(元)
判決敗訴後賠償給學童家長的律師費	80,000
違反交通規則的罰鍰	7,500
賠償被害人(學童)受傷的醫療費	51,000

《答案》A

20. ( ) 班上同學在下課時討論行政管制的相關內容，請問下列哪組同學的敘述完全正確？



《答案》A

21. ( ) 一九三〇年代日本的軍國主義昂揚，促使該國積極以軍事力量展開對外擴張行動。下列何者可能是造成日本軍國主義高漲的原因之一？ (A)全球性經

濟危機，使日本經濟面臨嚴重困境 (B)中國日益強大，威脅日本在東亞的領導地位 (C)日本國內軍人勢力減弱，政府得以積極改革 (D)共產主義興盛，日本朝野一致投入共產革命

《答案》A

22. ( ) 自民國 18 年美國發生金融風暴以來，經濟的恐慌瀰漫全世界，各國相繼修訂貨幣政策，企圖解決經濟困境。中華民國亦捲入這場國際經濟動盪的漩渦中，財政部於是積極思考改進的方法，一方面因應世界的趨勢，另一方面則配合國內的情況，規畫新貨幣政策，並於民國 24 年 11 月 3 日公布實施。上述的政策應為何項？ (A)推動專賣，增加政府財政收入 (B)銀銅並用，因應國際匯率變化 (C)發行新臺幣，停止與法幣兌換 (D)發行法幣，解決幣制混亂情況

《答案》D

23. ( ) 亞洲為世界七大洲面積最大的一洲，習慣上會依所在位置區分為：(甲)東亞 (乙)東南亞 (丙)南亞 (丁)西亞 (戊)中亞 (己)北亞等不同的區域。請問：這些分區中哪些地區受季風氣候影響？ (A)甲乙丙丁 (B)甲乙丙己 (C)乙丙丁戊 (D)丙丁戊己。

《答案》B

24. ( ) 「日本火山活躍，其活火山數量約占全球活火山總數的十分之一，且地震頻繁。」以上內容與日本何種地理特徵有關？ (A)以溫帶季風氣候為主 (B)位居在板塊接觸地帶 (C)河川較短小，缺乏航運價值 (D)山多田少，山地為主體地形。

《答案》B

25. ( ) 泡菜為南韓傳統食物，近年來，南韓推出專門存放泡菜的「泡菜冰箱」以供日常食用，可見泡菜對南韓人生活飲食的重要性。請問：南韓盛行泡菜最可能受到下列何種環境因素的影響？ (A)梅雨季長，食物容易發霉 (B)冬季少雨，無法種植蔬菜 (C)夏季酷熱，食物容易發酵 (D)冬季嚴寒，新鮮蔬菜不足。

《答案》D