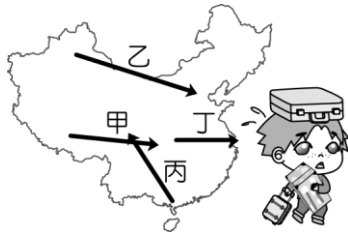
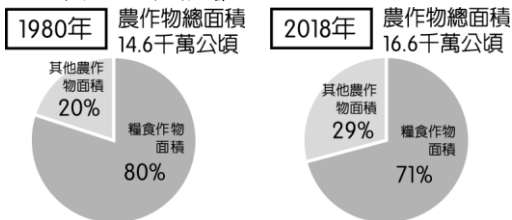


一、單一選擇題

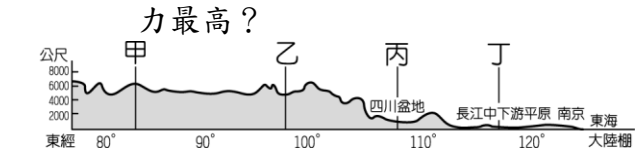
- (B)中國面積廣大，受到地理位置的影響，因此氣候類型相當多樣化。請問：下列何種氣候類型的分布和中國所在緯度位置的關係最小？ (A)熱帶季風氣候 (B)高地氣候 (C)副熱帶季風氣候 (D)溫帶季風氣候。
- (C)每年接近農曆新年時，中國返鄉團圓的春運人潮都再一次湧現，預計高達30億人次的遷移，將對交通造成嚴重的考驗。請問：中國春運的返鄉人潮主要移動路線應為附圖中何者？



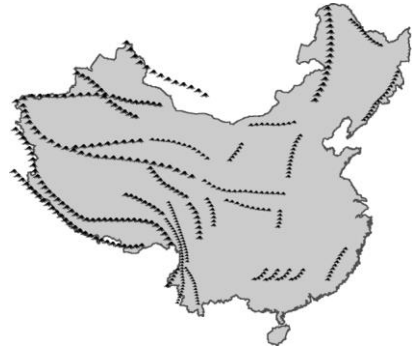
- (A)甲 (B)乙 (C)丙 (D)丁。
- ( )中國的西部地區以牧業活動為主，至於農業活動能否發展主要和下列哪一項因素關係最大？ (A)施肥工程 (B)水源灌溉 (C)交通工程 (D)排水工程。
  - ( )中國黑河、騰衝一線以西的西半部人口分布受到自然環境的影響。請問：西半部人口密集區的分布主要和下列哪一種資源有關？ (A)石油 (B)水源 (C)牲畜 (D)林木。
  - ( )附圖為中國糧食作物栽種面積比例變化圖，由圖判斷，此種轉變主要受到何種因素影響？



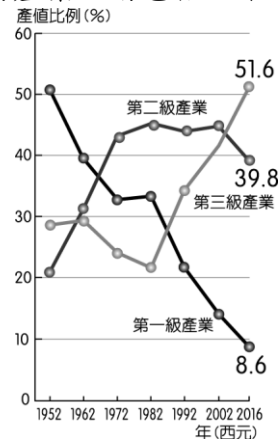
- (A)工業進步 (B)機械化高 (C)農業技術進步 (D)市場需求改變。
- ( )附圖為中國地形剖面圖，請由圖中資料加以判斷，哪一個地區的環境負載



- (A)甲 (B)乙 (C)丙 (D)丁。
- ( )中國境內的山地面積比例高達33%，居各種地形之冠。附圖為中國山脈的分布圖，請問：影響其走向的主要原因為何？




- (A)板塊擠壓方向 (B)岩層種類軟硬 (C)主要河川流向 (D)盛行季風風向。
- ( )附圖為中國三級產業變化圖，請由圖中資料判斷，1980年代當時中國最主要的產業活動包括以下哪一項？



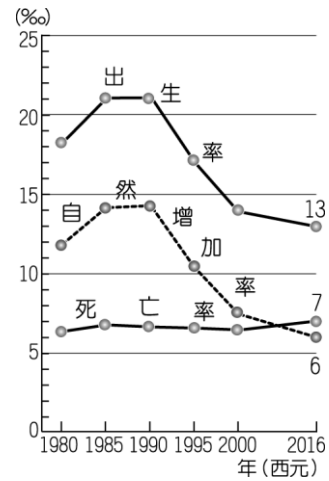
- (A)稻米生產 (B)茶葉出口 (C)成衣加工 (D)金融服務。
- ( )中國的人口分布不均已成為重要的社會問題，其疏密的分界線，大致呈現下列哪一個方向？ (A)東—西方向 (B)南—北方向 (C)東北—西南方向 (D)西北—東南方向。
  - ( )中國地勢起伏大，山地面積廣，且散布各地。請問：中國東半部山脈以何種走向為主？ (A)東西向 (B)南

北向 (C)東北往西南 (D)西北往東南。

11. ( ) 中國的西半部地區為高地氣候的主要分布區，此種氣候區的分類指標通常以地表高度超過海拔多少公尺為基準？ (A) 500 公尺 (B) 1,000 公尺 (C) 3,000 公尺 (D) 4,000 公尺。
12. ( ) 2020 年新冠病毒疫情重創全球經濟，最早發生疫情的中國首當其衝，然而國際投資機構對於當地的都市有這樣的評價：「紮實的發展潛力將讓這些地區得以保有競爭力。」下列相關敘述，何者最為正確？ (A) 北京為水運中樞，交通地位重要 (B) 上海發展最早，為政治及經濟中心所在 (C) 廣州位於海岸線中點，有利商品出口 (D) 深圳鄰近香港，兩地間可相輔相成。
13. ( ) 附圖為中國某都市在冬季時出現的奇特景觀，在結冰的湖面上滑冰，成為當地的特色。請問：這種現象最可能出現在下列哪一個都市？



- (A) 北京 (B) 上海 (C) 海口 (D) 廣州。
14. ( ) 附圖為中國近年來的人口出生率、死亡率、自然增加率統計圖，由圖中資料判斷，下列相關敘述何者正確？



- (A) 出生率下降、人口數減少 (B) 死亡率下降、人口數增加 (C) 出生率下降、人口數增加 (D) 死亡率上升、人口數減少。
15. ( ) 氣溫的分布和太陽照射的影響最大，中國在哪一個季節南北之間的溫差最大，差距近  $50^{\circ}\text{C}$ ？ (A) 春季 (B) 夏季 (C) 秋季 (D) 冬季。

參考答案:BCBBD DACCC CDACD