


屏東縣立大同高級中學 110 學年度第 1 學期 9 年級地理科補考考試卷

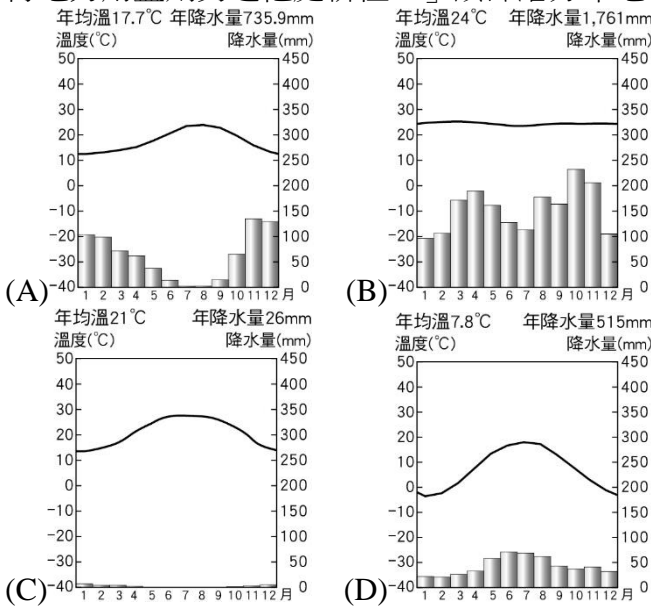
___年 ___班 座號：___ 姓名：_____

一、選擇：

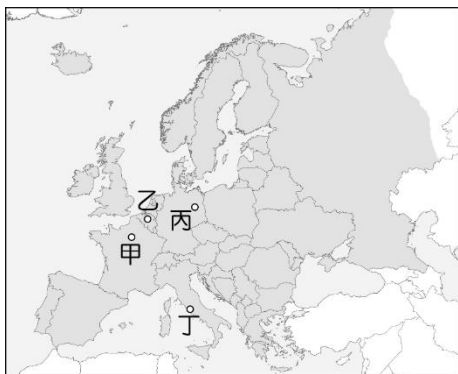
1. () 美國 好萊塢是世界重要的電影工業地帶，許多知名電影公司聚集於此。請問：好萊塢位於美國哪一個都市？ (A)紐約 (B)華盛頓 (C)西雅圖 (D)洛杉磯
2. () 歐洲有句俗諺：「上帝造海，荷蘭人造陸。」是形容荷蘭人在沿海低窪地區興築堤防，填海造陸，以增加可以使用的國土面積。由於填海而來的土地較為低溼、含鹽分較高，無法直接用於種植穀類等作物，為了充分利用這些土地，近年荷蘭利用其區位優勢，在這些土地上發展下列何項產業？ (A)園藝農業 (B)汽車製造業 (C)熱帶栽培業 (D)高科技工業
3. () 附圖為南美洲某國國旗，圓形為天球儀，白色綬帶上書以葡萄牙文「秩序與進步」。請問：這是哪一個國家的國旗？ (A)智利 (B)巴西 (C)祕魯 (D)阿根廷



4. () 某部落的主要維生方式如下：「焚燒草木以闢地耕種，將灰燼充作肥料以利作物生長，待地力用盡則另遷他處耕種。」該部落分布地區的氣候圖最接近下列何者？



5. () 「這裡位居南美洲的南端，非常寒冷荒涼。由於氣候乾燥，牧場面積必須很大，才有足夠的草料飼養羊群；遠處的山麓地帶，有美麗的湖泊和冰河。」以上這段文字所描述的地方，最可能位於下列哪一個國家境內？ (A)巴西 (B)阿根廷 (C)哥倫比亞 (D)玻利維亞
6. () 歐盟的前身是由西歐與南歐的六個國家所組成，至今共有 27 個會員國，影響擴及歐洲各部。請問：歐盟的總部設立於附圖中何處？ (A)甲 (B)乙 (C)丙 (D)丁



7. () 二次大戰後，英國的經濟與產業快速復甦，但因資金不足及工業區老化的問題，使產業發展遇到瓶頸。一九六〇年代，英國在其周圍海域探勘石油，其後因油田的開採而帶來豐沛資金，成為推動產業升級的重要基礎。請問：英國開採石油的海域為何？ (A)英吉利海峽 (B)北極海 (C)大西洋 (D)北海
8. () 賣座電影北海小英雄的主角小威，為了找到解除魔咒的方法救回自己的母親，努力成為一名維京戰士，並登上父親的維京船，一同前往受冰河侵蝕而形成的洛基峽灣探險。上述片中的場景，最可能是以附圖何地的海岸為背景？ (A)甲 (B)乙 (C)丙 (D)丁



9. () 附圖是瑞士某知名品牌的巧克力，其外型係以當地且維諾峰(馬特峰)的山峰為靈感設計而成。請問：該商品的原料作物種植，最可能來自下列哪一個地區？ (A)非洲西部 (B)西亞地區 (C)中國東部 (D)紐西蘭北島



10. () 「該國橫跨兩大洋，且擁有全球已探明黃金儲量的 51.2%，年產量一直居世界第一位，產區以約翰尼斯堡為中心，向東南和西南延伸形成一條總長約 500 公里、寬 110 公里的『金弧』。」上述所指的漠南非洲國家為何？ (A)迦納 (B)南非 (C)肯亞 (D)奈及利亞
11. () 漠南非洲多數居民所從事的維生活動，在部分人眼中，似乎是「落後且產量低」，但從漠南非洲的自然環境來看，卻是合乎生態平衡的原則。下列漠南非洲的經濟活動中，哪些對自然環境的干擾最小，最符合「生態平衡」？ (甲)採集 (乙)漁獵 (丙)採礦業 (丁)熱帶栽培業 (A)甲乙 (B)甲丙 (C)乙丙 (D)丙丁
12. () 在法國留學的弈宇，為自己的假期規畫了一趟旅行，他從學校附近的車站搭車，一路往東欣賞沿途的美景，幾天的旅程中，經過了比利時、荷蘭，最後到達波蘭的首都華沙。請問：弈宇沿途所看到的景色中，多屬於哪一種地形景觀？ (A)平原 (B)山地 (C)盆地 (D)高原
13. () 歐洲三面環海，南歐及北歐兩個分區多半島，因為海洋與陸地交錯分布，使海灣得以深入內陸地區，而有利於航運與貿易的發展。請問：下列哪一個半島所在的分區，與其它三者不同？ (A)伊比利半島 (B)義大利半島 (C)巴爾幹半島 (D)斯堪地那維亞半島
14. () 受到自然環境的影響，歐洲的酪農業以哪些地區較為發達？ (甲)地中海沿岸 (乙)北極海

- 沿岸 (丙)阿爾卑斯山區 (丁)北海沿岸 (A)甲乙 (B)甲丙 (C)乙丙 (D)丙丁
15. ()美國的礦產資源豐富，除了阿拉斯加盛產石油之外，哪一地區亦為石化產業重鎮？ (A)五大湖區 (B)墨西哥灣沿岸 (C)大西洋沿岸 (D)加州矽谷一帶

《9 年級地理補考試題答案》

1. D 2. A 3. B 4. B 5. B 6. B 7. D 8. A 9. A 10. B 11. A 12. A 13. D 14. D 15. B