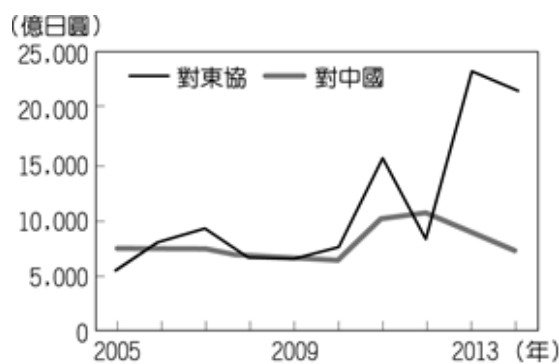


1. () 下表是某一作物三大品種在全球及中國分布的比較。根據表中資訊判斷，該作物最可能為下列何者？(A) 咖啡 (B) 玉米 (C) 棉花 (D) 葡萄。

品種分布	甲	乙	丙
原產地	衣索比亞	剛果	賴比瑞亞
全球分布範圍	28°N~38°S 間的海拔 1300 至 1900 公尺地區，其中以巴西、哥倫比亞最多	10°N~10°S 間的低海拔地區，東南亞、印度及非洲中部和東部為主要栽種區	宜於低海拔地區種植，僅分布於賴比瑞亞、馬來西亞、印度、印尼等國
中國產區	在雲南、廣西、福建、廣東的南部	主要在海南島	栽種較少

2. () 右圖為日本近年來對於中國和東協國家的投資金額統計，對兩者投資金額差距擴大與下列何者關係最為密切？(A) 東南亞



天災日益頻繁 (B) 東協的生產成本較低 (C) 中國實施全面開放二胎 (D) 東協反日意識漸趨高漲。

3. () 「飛行釀酒師」是一個特別的行業，他們搭乘飛機穿梭在全球各地的葡萄園提供技術指導，尤其是在秋季葡萄採收時最為忙碌。某一釀酒師在澳洲葡萄採收的季節前往該國協助，則他在澳洲停留的月分最可能為下列何者？(A) 1、2 月 (B) 6、7 月 (C) 3、4 月 (D) 9、10 月。

4. () 2018 年的「世界音樂節@臺灣」邀請了世界各地的音樂團體來臺演出，其中來自厄瓜多的樂團帶來安地斯山風情的音樂，讓我們可以藉此欣賞該國的文化特色。上述文化特色最可能為下列何者？(A) 中東新樂曲 (B) 愛爾蘭踢踏舞樂 (C) 寶萊塢歌舞劇 (D) 印加傳統音樂。

5. () 濁水溪近年來因中、下游河床裸露地面積增加，加上許多自然及人為因素的影響，使得沿岸居民飽受河床揚塵風沙之苦，特別是在每年枯水期時更為嚴重。文中揚塵更為嚴重時期常見的氣候特徵為何？(A) 東北季風盛行 (B) 西南季風吹襲 (C) 常有鋒面滯留 (D) 熱帶低壓通過。

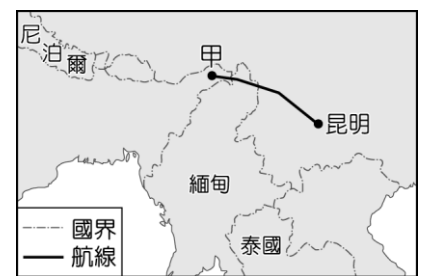
【9 年級-901-909-地理-共 4 頁-第 1 頁】

12. () 歐洲兩大河流藉由某一運河相互連結，以提升河流的航運價值。甲港口為該運河上重要的轉運樞紐，

6. () 下列是不同月分到某地旅遊應注意的事項：「一月溫度較低且降雨機率高，記得準備厚外套、手套、圍巾和雨具；四月時山花漸開，下雨的機率漸減；七、八月氣候偏乾且日照強烈，需注意防曬；十月起天氣漸涼，早晚溫差大，且雨水漸多，可帶件薄外套。」該地最可能是下列何種氣候類型？(A) 熱帶莽原氣候 (B) 溫帶地中海型氣候 (C) 夏雨型暖溫帶氣候 (D) 溫帶大陸性氣候。


7. () 為促進太陽能產業的發展，印度與法國於 2015 年宣布推動國際太陽能聯盟，計畫讓 121 個擁有豐富太陽能資源的國家加入，提供資金協助成員國發展乾淨且負擔得起的太陽能發電。上述 121 個國家最不可能位於下列何地？(A) 阿拉伯半島 (B) 玻里尼西亞 (C) 斯堪地那維亞半島 (D) 加勒比海地區。

8. () 1942 年，中國的對外陸上交通被日軍阻斷，所以開闢了一條空中通道，由甲地運送戰略物資至雲南昆明，如右圖所示。該航線因受限於當時螺旋槳飛機的性能，僅能順著山峰與谷地飛行，軌跡高低起伏狀似駝峰而被稱為「駝峰航線」。根據上文，該航線應是越過下列何者？(A) 天山山脈 (B) 青藏高原 (C) 內蒙古高原 (D) 橫斷山脈。



9. () 臺灣因山林面積廣大、巡查不易，出現許多違法開發山林資源的事件。政府機關若要快速比對不同時間的地表狀況，找出可能遭到大範圍違法伐林的地點，使用下列哪一種地圖最為適合？(A) 衛星影像圖 (B) 地形剖面圖 (C) 分層設色圖 (D) 等高線地形圖。

10. () 下圖為 2010 年世界各國都市化程度示意圖，圖中圓圈大小代表該國的都市人口數，圓圈顏色深淺代表該國的都市化程度。其中都市化程度最高的圖例應為下列何者？(A) ● (B) ○ (C) ● (D) ●



11. () 小玲的奶奶看到電視上播出一部描述臺灣女工生活的電視劇，奶奶回想起民國 50 年代，從家鄉到高雄加工出口區工廠工作的情景，當時廠區的產品主要出口至國外，以賺取外匯，自己也曾是創造「臺灣經濟奇蹟」的一份子。小玲的奶奶當時負責的工作，最可能是下列何者？(A) 研發製作晶圓半導體 (B) 監控煉製石油的機器 (C) 操作縫紉機車縫褲子拉鍊 (D) 清理製糖機器的甘蔗渣。

補考答案

1. ABCDA

6. BCDAB

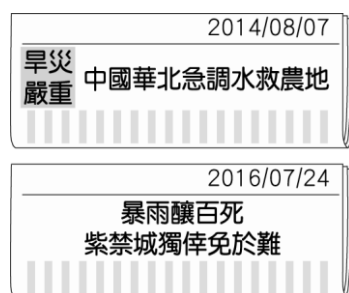
11. CDABC

12. () 附表為 2016 年兩條河流流域內各國與甲港口之間的船舶貨運量。由表中資訊判斷，可推論出其中一條河流的貨運量較大，該河流應是注入哪個海域？(A) 波羅的海 (B) 黑海 (C) 地中海 (D) 北海。

國家	船舶貨運量 (公噸)
荷蘭	100,488
德國	68,520
比利時	50,813
奧地利	34,498
匈牙利	8,891
法國	5,552
斯洛伐克	4,094
羅馬尼亞	854
總計	273,710

註：船舶貨運量為各國以船舶運抵甲港口及從甲港口運至各國的貨運量總和。

13. () 右圖是關於中國某地區 2014 年與 2016 年的新聞標題，該地同一季節在不同年分卻發生不同的氣象災害。上述現象與下列何者的關係最為密切？(A) 年降水 (雨) 量變率大 (B) 降水 (雨) 強度大 (C) 夏熱冬寒，年溫差大 (D) 降水 (雨) 主要集中在夏季。



14. () 佩芬利用暑假前往位於大洋洲的關島度假。回國後，她告訴同學：「當地午後常會突然下大雨，但雨來得快，也去得快，下雨過後則會一掃悶熱而感到特別舒適。」佩芬描述的降雨類型最可能為下列何者？(A) 暖空氣和冷空氣相遇造成的雨 (B) 持續高溫而蒸發旺盛所下的雨 (C) 溼空氣經過起伏地表而下的雨 (D) 強烈熱帶低氣壓過境所帶來的雨。

15. () 下圖是小敏在部落格中與網友分享她旅遊各地的圖文資料，其中哪兩張照片最可能是她在冰島旅行時所拍攝的？(A) 乙和丁 (B) 甲和丙 (C) 甲和乙 (D) 丙和丁。

