

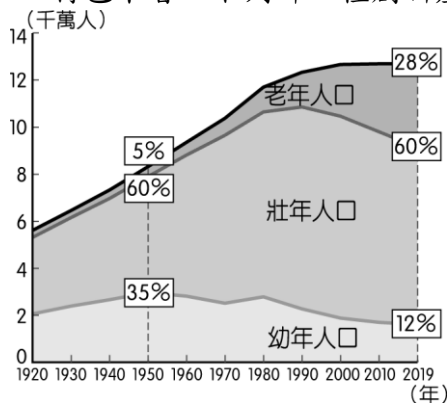
# 屏東縣立大同高級中學 110 學年度第 2 學期國中 8 年級地理科補考題庫

## 一、單一選擇題



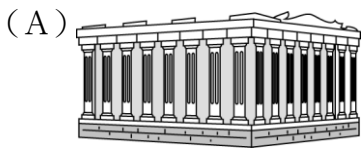
- ( ) 小俊暑假想到日本東京迪士尼樂園遊玩，他想先在旅遊網站找尋相關的旅遊資料，應該搜尋亞洲哪一個地區？  
(A)東北亞 (B)東南亞 (C)東亞 (D)北亞。
- ( ) 氣候的形成因素通常受到該地區的地理位置及自然環境條件的影響，其中位於南亞的印度半島，主要的氣候類型為熱帶季風氣候。請問：下列有關該地區的區域特色中，何者和熱帶季風氣候的關係最小？  
(A)位於低緯地區 (B)世界最高山脈 (C)乾溼季節分明 (D)海陸交會位置。
- ( ) 附圖是日本的蛋包飯及日文發音，由圖可見日本文化具有何種特色？



- (A)單一性 (B)多元性 (C)傳統性 (D)專業性。
- ( ) 印度哪一個都市因為軟體工業相當發達，因此被稱為「印度矽谷」？  
(A)孟買 (B)新德里 (C)邦加羅爾 (D)加爾各答。
- ( ) 附圖是日本人口結構統計圖，由日本人口特色來看，下列哪一種創新產業會越來越夯，需求量日增？



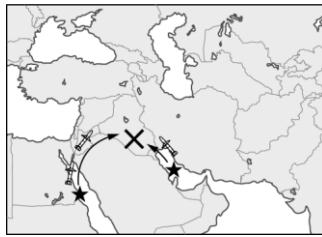
- (A)動漫產業 (B)大金冷氣 (C)太陽能產業 (D)外骨骼輔具。
- ( ) 佩貞到世界各地旅遊，拍下許多照片給親友共賞。以下的四張照片，何者是尼羅河流域的古蹟？



- ( ) 巴基斯坦位於印度半島的西北部，和印度之間因為宗教等諸多因素而紛爭不斷。請問：巴基斯坦的宗教信仰主要為下列何者？ (A)佛教 (B)印度教 (C)基督教 (D)伊斯蘭教。
- ( ) 「傳統的游牧生活鍛鍊他們堅毅的性格，禁食豬肉及喝酒戒律讓他們更加自律，作為伊斯蘭教的信徒，宗教戒律是唯一的生活規範。」請問：上文所敘述的是哪一個地區居民的生活特徵？ (A)東亞 (B)北亞 (C)南亞 (D)西亞。
- ( ) 附圖為東北亞板塊分布圖，下列哪一個國家位在圖中歐亞、北美、太平洋、菲律賓海板塊交會處，地震頻繁，甚至容易引起海嘯等災害？ (A)南韓 (B)北韓 (C)日本 (D)蒙古。



- ( ) 日本文化產業產值日益增加，是日本極具競爭力的產業，如：日本動漫產業。下列哪一個是著名的日本動漫？  
(A)小蜜蜂 (B)哆啦A夢 (C)小豬佩奇 (D)海綿寶寶。
- ( ) 鄭和奉命下西洋時，由中國沿海出發，順風而下來到了東南亞地區，並在當地留下了許多遺跡。請問：當時他最可能在什麼季節出發，並順風來到了東南亞？ (A)春季 (B)夏季 (C)秋季 (D)冬季。
- ( ) 導遊向遊客介紹某國：「它位於朝鮮半島，其娛樂產業蓬勃發展，電影、電視劇、偶像團體在各國熱賣，吸引許多外國觀光客來影劇拍攝場景朝聖。」導遊敘述的國家為下列何者？ (A)北韓 (B)日本 (C)中國 (D)南韓。
- ( ) 東協國家近年的經濟發展相當迅速。請問：東協國家發展工業的優勢為何？甲、便宜的勞動力；乙、豐富的資源；丙、完善的交通；丁、高科技技術 (A)甲乙 (B)乙丙 (C)丙丁 (D)甲丁。
- ( ) 位於恆河口的孟加拉及其比鄰的印度阿薩姆邦，兩區的降水量皆相當豐沛，但經濟作物卻不同，孟加拉以黃麻為主，阿薩姆邦則以茶葉為重。造成兩地區作物差異的主因為何？ (A)地形 (B)交通 (C)勞工 (D)資金。
- ( ) 20 世紀末期的伊拉克戰爭，以美國為首的聯軍利用各種先進武器，發射導彈摧毀伊拉克的軍事設備及地面部隊後。由附圖可知，★處的美國海軍艦隊主要由下列哪兩個海域發射導彈？



(A)地中海、大西洋 (B)印度洋、阿拉伯海 (C)波斯灣、地中海 (D)紅海、波斯灣。

1. 答案：(A)
2. 答案：(B)
3. 答案：(B)
4. 答案：(C)
5. 答案：(D)
6. 答案：(D)
7. 答案：(D)
8. 答案：(D)
9. 答案：(C)
10. 答案：(B)
11. 答案：(D)
12. 答案：(D)
13. 答案：(A)
14. 答案：(A)
15. 答案：(D)