


110-2-7 社會補考題庫-公民

- () 臺灣新住民子女人數已超過 40 萬人，財團法人臺北市賽珍珠基金會為認養扶助跨國婚姻子女的社福組織，至今已陪伴千餘名經濟弱勢新住民子女成長。請問：該基金會在協助改善社會中哪一方面的不公平？ (A) 需求滿足 (B) 貢獻程度 (C) 責任負擔 (D) 利益分配。
- () 日常生活中，個人行為經常受到內在良心與外在環境影響，其中有些規範具有強制力，下列何者符合這樣的特性？ (A) 在選舉投票時返鄉投票 (B) 基督教徒到教堂做禮拜 (C) 在速食店內將手機關靜音 (D) 登革熱疫情熱區住戶配合噴藥作業。
- () 1927 年蔣渭水等人組臺灣民眾黨，這是臺灣歷史上第一個政黨，曾舉辦多次演講會，討論民權、自治等概念。請問：舉辦演講會顯示出下列哪個志願結社的特徵？ (A) 民間性 (B) 非營利性 (C) 自主性 (D) 組織性。(歷史 3-2、公民 3-2)
- () 公民課時，老師請同學們討論造成我國貧富差距日益擴大的原因，下列何人的說法最不正確？

- (A) 經濟衰退 (B) 失業率上升 (C) 社會流動快速 (D) 房價飆漲



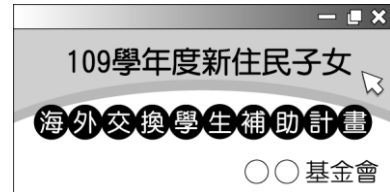
- () 由於經濟不景氣及物價飆漲對弱勢民眾影響甚鉅，為妥善照顧經濟弱勢、遭受急難或災受害者，提供短期日常生活所需食物及物資援助，以建置完善的社會安全網，避免食物浪費，因此市政府推動食物銀行法的相關條例。根據上述內容，請問市政府的該項政策主要是落實何項理念？ (A) 營造健康環境 (B) 促進經濟發展 (C) 提升地方產業 (D) 維護公平正義。
- () 日本天皇德仁在 2019 年 5 月 1 日即位，根據 1889 年訂下的《皇室典範》，皇位僅能由男性繼承。由於新天皇僅育有一女，因此是否需要修法讓女性也能繼承皇位引發民眾討論。請問：皇位限制女性不得繼承，對社會公平正義方面，顯現出哪一方面的不公平現象？ (A) 利益分配 (B) 貢獻程度 (C) 責任負擔 (D) 需求滿足。
- () 以下為一位少數族群代表與政府官員協商時所做出的回應，他的憂慮應是擔心政府造成下列何種狀況？

政府以主觀立場認為我們的生活方式不夠進步，因此制定這項政策，但這是我們族群獨特的風俗習慣和信仰方式，並未對他人造成危害，若強制我們遵循政策，將導致傳統文化難以傳承，請政府多多傾聽族人的聲音。

- (A) 次文化 (B) 多元文化 (C) 文化位階 (D) 文化差異
- () 古今中外，任何的人類社會都有屬於自己的文化，這顯示出文化的哪一項特性？ (A) 普遍性 (B) 累積性 (C) 差異性 (D) 制約性。
 - () 小瑛參加全民金頭腦知識王闖關比賽，其中一道題目是問「社會流動的定義」，小瑛該如何回答？ (A) 社會中政治的變動 (B) 社會中社會地位的移動 (C) 社會中資源的轉動 (D) 社會中人口的流動。
 - () 政府多次修訂《老人福利法》，希望透過國家立法的方式，增進與維護老人的權益，讓老人安養的問

題不再被視為家務事。請問：上述政府的做法，旨在達成下列哪一種目的？〔93.第二次基測〕 (A) 促進老人福利制度化 (B) 強制獨居老人的安置 (C) 降低老人福利的支出 (D) 免除親屬的撫養責任。

- () 葉小妹因家境不好，向鄉公所申請低收入戶證明，之後每個月可領到生活補助。請問：政府實施上述這項社會福利措施的目的為何？ (A) 保障人民的經濟安全 (B) 維持國民的基本生活 (C) 提升勞工人力素質 (D) 營造健康的生活環境。
- () 月嬌想利用暑假至海外學習，於某基金會的網站上搜尋到的資訊如圖，該基金會在協助改善社會中哪一方面的不公平現象？

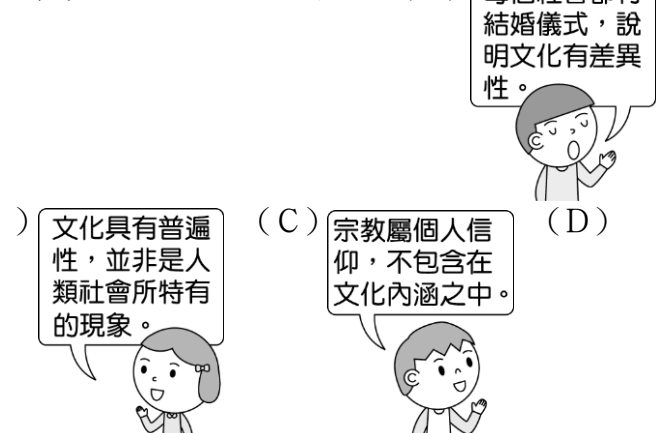


- (A) 利益分配 (B) 責任負擔 (C) 貢獻程度 (D) 需求滿足。

- () 參與學校的社團活動，成為國中學生參與團體的難忘經驗與人生記憶。下列四位學生談論到參加社團對自己的影響，何者是以達成共同目標為目的？ (A) 雅筑：「我參加國樂社，發現自己愈來愈進步，更勇於表現自己。在那個環境裡，因為大家目標一致，讓我有自學的動力。」 (B) 丞傑：「我國一參加攝影社、國二參加烹飪社。因為我不是很喜歡念書，所以想藉由社團活動來探索興趣，了解自己。」 (C) 怡甄：「在籃球隊裡，我們會一起為了下次能進入到全國比賽而努力。」 (D) 宜德：「我因為參加管樂團，學會與不同的人相處。曾經在社團跟學長姊起過衝突，因此學習到化解矛盾的方法。」
- () 某教授跟廣告商合擬「想要一個家」的企畫，在臺北街頭掛上租屋族的心聲，呈現「臺北居，大不易」的情況。「從這位房東的套房遷到另一位房東的頂樓加蓋，我是築夢的遊牧民族！」請問：此標語與下列哪一現象最相關？ (A) 貢獻程度 (B) 利益分配 (C) 責任負擔 (D) 需求滿足。
- () 下列關於主流文化與次文化的比較，何者正確？

	(A) 組成原因	(B) 成員規模	(C) 等級	(D) 實例
主流文化	社會當中特定團體的價值和信念	較小	較高	流行音樂
次文化	社會當中多數人的價值和信念	較大	較低	嘻哈音樂

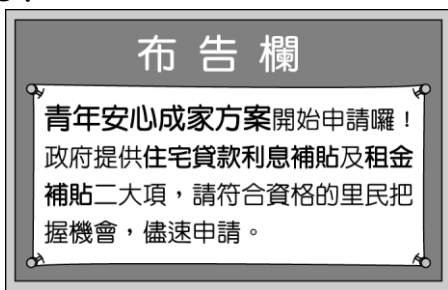
- () 幾位同學正在分享對「文化」此一概念的理解，下列何人的說明完全正確？ (A) 每個社會都有結婚儀式，說明文化有差異性。 (B)



文化是指某一
群人所共享的
生活方式。



- 17.() 《做工的人》是臺灣的工地工程師兼作家林立青撰寫的散文集，書中有一篇章名為〈臺灣媳婦〉，描述陸籍新住民與丈夫在工地工作時飽受歧視。例如工地警衛刻意使用臺語，捉弄她聽不懂，但其實她明白其中的嘲笑、惡意，但為求溫飽只能裝傻。請問：上述內容反映出下列社會中哪一方面的不公平？(A)貢獻程度 (B)需求滿足 (C)責任負擔 (D)利益分配。
- 18.() 每個社會都有自己的節慶，例如：日本有燈籠節、美國有萬聖節、泰國有潑水節，我國則是農曆新年、中秋節、端午節三大節。上述凸顯了文化的哪一項特性？(A)普遍性 (B)差異性 (C)累積性 (D)制約性。
- 19.() 某一電視節目談論的主題是「政府辦理社會福利措施的經費」，下列哪一位民眾的發言內容最正確？(A)李小姐：由於人民繳納的稅款充足，不需擔心經費問題 (B)陳先生：我國經濟發展良好，因此國庫豐沛 (C)王小姐：社會福利資源有限，政府應嚴格控管支出 (D)胡先生：若面臨經費不足，公益團體應接手辦理社會福利措施。
- 20.() 益信在樓梯口的布告欄看到一張里長發的通知單，如附圖所示。請問：通知單的內容為哪一項社會福利措施？



- (A)社會保險 (B)社會津貼 (C)居住正義與社區營造 (D)健康與醫療照護。
- 21.() 下列是醫界奉行的四個原則，根據內容判斷，其為哪種社會規範？
- 一、不加害原則：絕對不能故意讓病人比原來的情況更糟糕。
- 二、施益原則：每一個醫療的處置，都要對病人有益處。
- 三、自主原則：每位病人都有權利決定要接受或不接受某個醫療處置。
- 四、公義原則：對於有限的資源，必須謹守公義原則做合理的分配。
- (A)風俗習慣 (B)倫理道德 (C)宗教信仰 (D)法律規定。
- 22.() 在社會中，每個人都有可能陷入經濟或社會不公平的困境，我們應減少不公平的現象，以實現「公平正義」。要達成「公平正義」，下列認知何者錯誤？(A)對不同遭遇的弱勢群體提供一樣的生活照顧 (B)每個人都享有基本的自由與權利 (C)社會必須確保每個人都有公平的機會取得資源 (D)對弱勢群體提供更多的照顧與利益。
- 23.() 附圖中的對話內容，可用來解釋下列哪一項文化特性？

臺北人為什麼搭
手扶梯都會往右
邊站？



佑霖

對啊，好像已
經養成習慣了，
一看到手扶梯
就會靠右站
立。



彩蓁

- (A)普遍性 (B)累積性 (C)制約性 (D)差異性。
- 24.() 下列文化特徵與其舉例的配對，何者正確？(A)普遍性：古今中外，每個社會都會為了計畫人類的活動，及維持民間活動週期，而發明自己的曆法來計算時間 (B)差異性：巴布亞新幾內亞的原住民雖過著原始生活，仍舊擁有自己的文化 (C)普遍性：文字是經過長時間、一代一代演變而來的 (D)累積性：在臺灣，禮金要用紅色信封裝，不能像日本那樣用白色信封袋。
- 25.() 曉芳跟爸爸觀看總統大選的電視政見發表會時，聽到候選人發表關於社會福利的政見，爸爸想知道曉芳在學校的學習成果，便問她說：「妳能不能舉出一個社會福利措施的例子呢？」曉芳應回答下列何者較為適當？〔102.基測修訂〕(A)提供終身學習機會 (B)推動老人照護制度 (C)擴大志工參與管道 (D)促進跨國人口流動。

1. 答案：(A)
2. 答案：(D)
3. 答案：(C)
4. 答案：(C)
5. 答案：(D)
6. 答案：(C)
7. 答案：(C)
8. 答案：(A)
9. 答案：(B)
10. 答案：(A)
11. 答案：(B)
12. 答案：(D)
13. 答案：(C)
14. 答案：(B)
15. 答案：(D)
16. 答案：(D)
17. 答案：(A)
18. 答案：(A)
19. 答案：(C)
20. 答案：(C)
21. 答案：(B)
22. 答案：(A)
23. 答案：(C)
24. 答案：(A)
25. 答案：(B)