

屏東縣立大同高級中學111學年度第1學期七年級歷史補考題庫

【範圍:第1冊 年 班 座號: 姓名:

(A)1.清帝國時期移民來臺的漢人謀生方式?(A)土地開墾 (B) 養殖漁業 (C)種植檳榔 (D)轉口貿易。

(B)2.客家人因為渡臺時間較晚，大多居住丘陵地區。○○○○後，臺灣出口產品轉變為★★ ★★，居住在主要產區的客家人從而獲利，提升社會地位。○○○○是指何者？(A)鴉片戰爭 (B)開港通商 (C)牡丹社事件 (D)清法戰爭

(C)3.附表是臺灣三個不同時期對外貿易的主要進出口貨物，依所處時代先後順序排列應是下列何者？(A)乙丙甲 (B)乙甲丙 (C)丙甲乙 (D)丙乙甲。

時代	出口商品	進口商品
甲	稻米、蔗糖	藥材、紡織品(衣物)
乙	糖、樟腦、茶	紡織品、鴉片
丙	蔗糖、鹿皮	軍用物資、布料

(A)4.沈葆楨、劉銘傳兩人在臺推行新政的共通點？(A)西式炮臺 (B)西學堂 (C)鐵路 (D)財政改革

(A)5.大航海時代下的臺灣經濟活動發展，何者正確？(A)鹿皮、稻米、蔗糖重要貿易商品 (B)原住民維持原有游耕方式 (C)和中國維持走私貿易 (D)鄭氏引進耕牛，鼓勵漢人移墾

(B)6.哪句臺灣諺語反映清帝國早期，「渡臺禁令」造成男女人口比例懸殊的狀況？(A)六死三留一回頭 (B)有唐山公、無唐山媽 (C)輸人不輸陣，輸陣歹看面 (D)仙拚仙，拚死猴齊天。

(C)7.丁丁要寫一篇關於圓山文化人們生活的報告，為了符合史實，何項敘述不應該出現在報告中？(A)製作陶器 (B)種植穀物 (C)冶製鐵器 (D)生火煮食。

(B)8.大航海時代葡萄牙人向東尋找殖民地，占領何處建立與中國貿易的據點？(A)澎湖 (B)澳門 (C)馬尼拉 (D)臺灣。

(B)9.某臺灣史書籍中提到：「1636年，在傳教士尤紐斯召集下，安平以北十五社及以南十三社的代表集合向普特曼表示服從。」普特曼應是何國派在臺灣的長官？(A)西班牙 (B)荷蘭 (C)日本 (D)葡萄牙

(D)10.清帝國統治臺灣初期，為何臺灣社會的男女人口比例會差距大？(A)戰爭 (B)傳染病 (C)重男輕女 (D)清廷規定漢人不准攜帶家眷渡臺。

(D)11.清雍正年間的漳州人若想到臺灣開墾田地，依當時政府規定，須具備何種條件？(A)在臺灣有親戚 (B)已婚且育有子女 (C)提出開墾計畫書 (D)需有渡臺證照。

(A)12.清帝國時期，多以立碑或掘溝堆土的方式設立「番界

」，隔離漢人與原住民，與清廷哪一項政策有關？(A)劃界封山 (B)渡臺禁令 (C)開港通商 (D)開山撫番

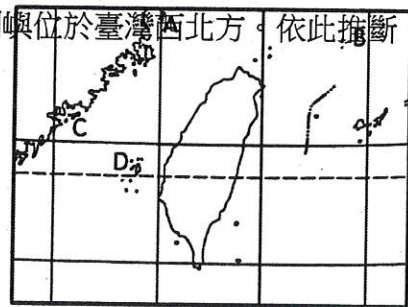
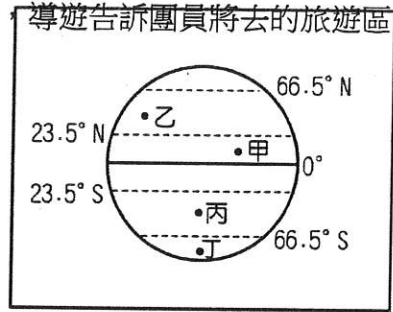
(B)13.有關清廷實施的「劃界封山」，何者符合史實？(A)壓制反清復明勢力 (B)近山區地帶設立「番界」 (C)鼓勵漢人和原住民通婚 (D)漢人不斷向近海區移墾。

(A)14.清帝國早期，調整臺灣行政區主要原因？(A)民變或受外力入侵 (B)政府稅收 (C)外商貿易範圍 (D)教育學區

(B)15.1874年，日本藉口出兵臺灣。事後，中日雙方在北京議和，清廷須付賠償費，且承認日本出兵為「保民義舉」。有關此事件的敘述何者正確？(A)臺灣成為日本藩屬 (B)間接承認琉球為日本領土 (C)讓其他藩屬國對清朝感到失望 (D)讓臺灣原住民產生仇日情緒。

111 學年度第一學期七年級地理補考考題

1. () 地球經緯線座標中的 0° 經線為重要的地理分界線，該線通過下列哪一座城市？ (A) 日本東京 (B) 美國紐約 (C) 英國倫敦 (D) 中國北京。
2. () 美美出國旅遊前，參加旅行社的行前說明會，導遊告訴團員將去的旅遊區，當地氣候炎熱、四季如夏，不必帶厚重衣物。請問：美美旅遊的地點可能在附圖中何地？(A) 甲 (B) 乙 (C) 丙 (D) 丁。
3. () 疆域的範圍界定，包括了陸地面積及海洋領域。請問：一般國際公法所界定的領海範圍為領海基線向外推移多少浬？ (A) 3 浬 (B) 12 浬 (C) 20 浬 (D) 200 浬。
4. () 臺灣有許多珍貴的特有生物，這和冰河時期的自然環境變遷關係密切。請問：當時許多亞洲大陸的生物透過何處遷移來臺，因此該地區被稱為生物遷移的橋梁？ (A) 巴士海峽 (B) 中央山脈 (C) 太平洋 (D) 臺灣海峽。
5. () 傑克欲從美國西岸地區出發，乘船直行抵達臺灣。請問：傑克必須橫渡下列哪一個海洋？ (A) 太平洋 (B) 大西洋 (C) 北極海 (D) 印度洋。
6. () 九二一地震造成屋舍傾倒、交通中斷、人口外流，重創南投的觀光產業。請問：關於造成九二一地震的作用力，下列敘述何者有誤？ (A) 內營力 (B) 板塊擠壓 (C) 地殼變動 (D) 河川侵蝕。
7. () 臺灣面積約為 36,000 平方公里，其中山地面積約占總面積的 70%。請問：這和下列哪一因素關係最大？ (A) 板塊活動 (B) 高溫多雨 (C) 水土流失 (D) 海浪侵襲。
8. () 臺灣因為各地區的自然環境條件不同，區域發展程度也各不相同。請問：目前臺灣人口多聚集於下列何種地形區中？ (A) 平原、丘陵 (B) 平原、山地 (C) 平原、台地 (D) 平原、盆地。
9. () 臺灣四周環海，海岸地形千變萬化，小丸子計畫利用假日到野柳地質公園旅遊，沿途除了欣賞連綿不斷的岬角、海灣之外，更有許多海蝕地形。請問：小丸子去的地方是臺灣哪一處海岸？ (A) 東部海岸 (B) 南部海岸 (C) 西部海岸 (D) 北部海岸。
10. () 附圖為臺灣周圍離島位置圖，已知馬祖列島位於臺灣西北方。依此推斷，圖中何地是馬祖所在？(A) A (B) B (C) C (D) D。
11. () 降水的形成因素有很多種。請問：下列哪一種說法是正確的？ (A) 我們常說的「西北雨」是屬於地形雨 (B) 「午後雷陣雨」是屬於地形雨 (C) 「納莉颱風」是屬於鋒面雨 (D) 「梅雨」是屬於鋒面雨的一種。
12. () 「東南風」所指的是下列哪一種風？ (A) 由東南方吹向西北方的風 (B) 由西北方吹向東南方的風 (C) 由東方吹向南方的風 (D) 由南方吹向東方的風。
13. () 如果想在農曆春節期間，在臺灣從事三天兩夜的戶外活動，且不希望有寒風、細雨敗壞遊興，則事前規畫時，最好選擇下列哪一地方？ (A) 宜蘭平原 (B) 花東海岸 (C) 臺北盆地 (D) 屏東平原。
14. () 海、湖、河中的水被太陽輻射熱力轉化成氣態水的現象，稱為何者？ (A) 入滲 (B) 蒸發 (C) 逕流 (D) 蒸散。
15. () 臺灣的河川航運利用價值不高，唯一例外的是淡水河，早期航運可上溯到大漢溪。請問：淡水河之所以具備航運價值與下列何項因素密切相關




? (A)河道寬廣 (B)支流眾多 (C)流域廣大 (D)流量穩定。

7地補考解答

1.C	2.A	3.B	4.D	5.A
6.D	7.A	8.D	9.D	10.A
11.D	12.A	13.D	14.B	15.D

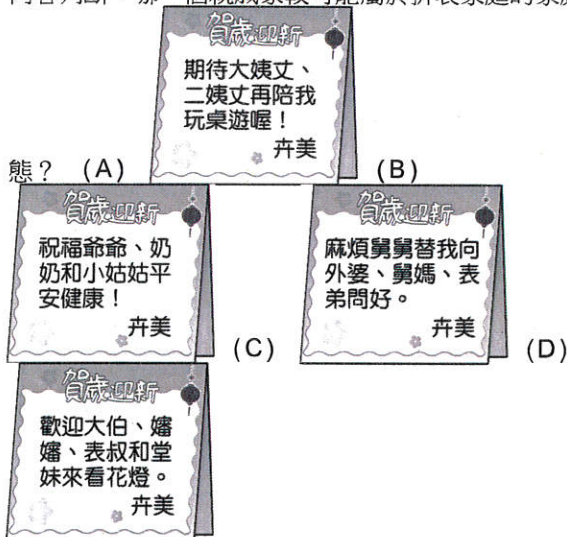
一、單題 (每題6.5分, 共97.5分)

1. () 小芝與組員討論這回上臺報告的內容, 由附圖中彼此往來的訊息推斷, 下列何者較可能是他們的報告主軸?



(A)個人的社會化過程 (B)傳統與現代的對立 (C)家庭結構的變遷性 (D)親子間的溝通管道。

2. () 我國的立法委員選舉制度, 在 2005 年修法通過, 一改過去選人合併選黨的計票規則, 將政黨票獨立分開, 此舉有助於規模較小的政黨, 在選舉中亦有機會突破門檻取得席次, 讓國會呈現更多元的樣貌。根據上述, 修改立委選舉制度是為了實踐現代公民應具備的何項基本德性? (A)參與公共事務 (B)遵守法律規範 (C)理性思考批判 (D)捍衛公平正義。
3. () 年節到來, 卉美寄賀年卡到四個親戚家拜年, 於賀年卡內文中問候親戚家的每位成員, 如附圖所示。依照內容判斷, 哪一個親戚家較可能屬於折衷家庭的家庭型態? (A) (B) (C) (D)



4. () 許多民眾認為老舊建物有損市容, 且存在建物安全問題, 因此近年來都市更新議題在各縣市發酵著, 但部分地區在意見整合的過程中, 無法先取得共識而倉促動工, 甚至強迫拆遷, 此舉缺乏現代公民應具備的何項基本德性? (A)參與公共事務 (B)遵守法律規範 (C)理性思考批判 (D)捍衛公平正義。
5. () 民主制度最大的缺點, 在於社會長期固定的多數可以決定政治問題, 往往忽略少數人的權益, 因而形成所謂的「多數暴力」。為了避免這種情形一再發生, 我們應具有何種公民的基本德性, 以維護所有人的權利? (A)遵守法律規範 (B)和平尊重包容 (C)理性思考批判 (D)捍衛公平正義。
6. () 阿昶前往醫院探望長輩, 看到一則公告如下, 醫院提供此項服務最能彰顯何種精神?

公告
本院設置佛堂及祈禱室, 不限特定宗教專用, 佛教徒、基督教徒、天主教徒、伊斯蘭教徒或其他宗教等, 均可自由前往。如有任何需求, 歡迎洽詢值勤志工。

(A)對弱勢群體的醫療照護 (B)對種族無差別的人道關懷
(C)對人權給予普遍性的保障 (D)對身心障礙者的人權保障

7. () 黃金和白銀兩人為同窗兼好友, 今日兩人的子女共結為夫妻。請問: 黃金和白銀在我國《民法》上具有何

種親屬關係? (A)法定血親 (B)姻親 (C)自然血親 (D)無親屬關係。

8. () 近日教育部部長針對校園霸凌引發之憾事, 發文重申教育部與全體教育工作者最重要的責任就是不讓任何孩子因為任何原因受到歧視霸凌。請問: 學校應避免霸凌事件再度發生, 才能落實學生何項權利的保障? (A)學習權 (B)受教育權 (C)身體自主權 (D)人格發展權。
9. () 小青翻開報紙求職欄中看到「誠徵廚房阿姨」、「徵女作業員」或是「男限役畢, 但替代役男除外」等字句, 這些業者雖然沒有明文指出性別限制, 但與下列何種理念相違背? (A)性別偏見 (B)性別平權 (C)性別歧視 (D)性別刻板印象。
10. () 今天開班會, 討論事項的主題是選出校慶表演節目。請問: 下列哪一項情境會使得明萍提出附圖發言, 以解決開會過程的問題?

主席, 我要提出秩序問題。



(A)班會開始先選出主席、司儀、紀錄 (B)靖博擔任紀錄, 宣布會議名稱和開會目的 (C)主席以先提議先表決的方式, 請同學們表決討論主題 (D)涵真在臨時動議時舉手發言, 提出改善上課秩序的建議。

11. () 小鳴和小田結婚後育有一子, 曾有朋友問他們為什麼不多生一個, 他們表示雖然是雙薪家庭, 但有房貸和車貸壓力, 加上現在物價高漲, 養育一子就已經覺得吃力了。依據兩人上述的顧慮來看, 現代家庭的哪些功能受到社會環境變遷的影響很大? (A)經濟功能、教育功能 (B)教育功能、保護與照顧功能 (C)生育功能、經濟功能 (D)生育功能、保護與照顧功能
12. () 麟麟想轉學到離家較近的學校就讀, 但父親不同意, 他不知該如何是好而尋求協助。下列何人的回應最為正確? (A)小梅: 查查看《性別平等教育法》, 裡面有相關法條 (B)小泉: 如果你爸媽意見不同, 只好請法院決定 (C)小瑩: 因為你未成年, 只能以爸爸的決定為主 (D)小憲: 媽媽比較會照顧孩子, 所以法律規定由母親行使親權, 別擔心
13. () 老師在開班會前, 讓每位同學先將班會流程敘述一

由司儀宣布會議名稱和開會目的。



次, 下列何人的說法正確? (A)

主席主持會議, 並記錄與會人員的發言。



(B)

表決的順序: 是先提議(名), 後表決。



(C)

主席主持表決, 但以不參加表決為原則。



(D)

14. () 緬琴由於父母早逝, 因此被陳女士收養為女兒, 並將其照顧長大, 緬琴婚後仍與陳女士同住, 緬琴的婆婆阿鳳認為緬琴的孝心難能可貴, 十分慶幸有這樣的好媳婦。請問: 根據上文, 下列何者屬於姻親? (A)陳女士—緬琴 (B)陳女士—阿鳳 (C)緬琴的先生—阿鳳 (D)緬琴—阿鳳。
15. () 臺東縣延平鄉公所與布農族部落、地方上學校共同合作, 培育祭典導覽人員, 增加部落觀光資源。經由導覽人員的解說, 遊客較能深度了解部落傳統, 並尊重祭

典儀式的神聖性，理解原住民族的文化內涵，以免做出不妥適的行為。請問：文中的合作計畫，應與「原住民族部落活力計畫」的哪一項目標相同？ (A)回復共工共耕文化，減少貨幣依賴 (B)營造民族生活環境，建構部落安全場域 (C)強化生活照顧功能，推動健康部落生活 (D)發展部落經濟產業，促進部落就業機會。

一、單題 (每題6.5分, 共97.5分)

1. 答案：(A)

解析 三人負責的內容是關於父母教育子女的心態以及父母價值觀念、言行舉止與周遭環境對孩子成長的影響，可看出報告主題為個人經由家庭社會化的過程。

2. 答案：(D)

解析：修法保障弱勢群體在政治表達意見的權利，是捍衛公平正義的表現。

3. 答案：(C)

解析 (A)(D)大家庭(B)小家庭。

4. 答案：(D)

解析：決策公共事務時，不應以人數多寡為考量，應以公平正義的價值作為判斷標準。

5. 答案：(D)

解析：參與公共事務時，不應只以人數多寡為考量，決策時應以公平正義的價值作為判斷標準，並具有捍衛社會正義的道德勇氣

6. 答案：(C)

解析 保障任何宗教信徒的信仰自由與需求。

7. 答案：(D)

解析 黃金和白銀因子女聯姻而成為「親家」，屬於血親的配偶的血親，不在《民法》規範的親屬關係中。

8. 答案：(C)

解析 學校應保障學生的身體自主權，使其不受任何形式的霸凌行為，而造成身心的傷害。

9. 答案：(B)

解析 將工作限定某一性別，不符合性別平權的理念。

10. 答案：(B)

解析 (B)應由主席宣布會議名稱和開會目的，紀錄應是負責詳實紀錄會議過程和內容。

11. 答案：(C)

解析 兩人因為經濟壓力大而不願再多生育一個小孩。

12. 答案：(B)

解析 現行《民法》規定，父母對於未成年子女重大事項權利之行使意見不一致時，可請求法院依據子女的最佳利益決定。

13. 答案：(D)

解析 (A)主席(B)記錄與會人員的發言是紀錄的職責(C)先提議(名)，先表決。

14. 答案：(D)

解析 (A)(C)血親(B)無親屬關係。

15. 答案：(D)

解析 合作計畫有助於部落發展觀光，並提供部落青年工作機會。