

## 屏東縣立大同高級中學111學年度第一學期國中二年級歷史科補考題庫

- 1.1.明朝末年，天主教傳教士利瑪竇來華與明朝大臣共同翻譯歐幾里德的《幾何原本》，請問上述明朝大臣是指何人？  
(A) 李之藻 (B) 南懷仁 (C) 徐光啟 (D) 湯若望。
2. 北宋末年金國興起，與北宋聯手滅遼，但之後金國看出北宋國力不振，便大舉南下，攻陷北宋首都汴京。此事件史上稱之為何？  
(A) 犬戎入侵 (B) 澶淵之盟 (C) 永嘉之禍 (D) 靖康之禍。
3. 蒙古三次西征，歐洲人視為「黃禍」，並以「上帝的鞭子」來形容蒙古，影響甚巨。請問：蒙古西征最遠到達何處？  
(A) 非洲東岸 (B) 義大利威尼斯附近 (C) 西亞大馬士革附近 (D) 大西洋沿岸。
4. 宋、元時期在科技方面有劃時代的進展，許多發明甚至影響到全世界的發展。請問：蒙古西征時將什麼發明傳到歐洲？  
(A) 火藥、印刷術 (B) 火藥、造紙術 (C) 指南針、印刷術 (D) 造紙術、印刷術。
5. 「靖康恥，猶未雪。臣子恨，何時滅……壯志飢餐胡虜肉，笑談渴飲匈奴血。」此乃岳飛所寫《滿江紅》。請問上述的「胡虜」是指何者？  
(A) 契丹 (B) 女真 (C) 匈奴 (D) 蒙古。
6. 請問：清帝國疆域不包括下列何者？  
(A) 新疆 (B) 蒙古 (C) 越南北部 (D) 西藏。
7. 元朝廣設某機構，主要是提供信使、官員歇息或換馬的處所，不但便於政府的統治，也加速經貿的往來。請問：這是哪一類機構？  
(A) 馳道 (B) 驛站 (C) 烽火臺 (D) 市舶司。
8. 依晨正在看一本書，書名為《從平城到洛陽》，看完這本書後她必須撰寫相關的心得報告，其報告的主題可能是下列何者？  
(A) 秦帝國的霸業 (B) 北魏的民族文化融合 (C) 中國經濟重心的南移 (D) 東晉B 以來的佛教發展。
9. 「上品無寒門，下品無世族」的現象，是因哪一項措施造成的？  
(A) 佛教盛行的結果 (B) 九品官人之法的實施 (C) 漢代推舉孝廉 (D) 南方的開發。
10. 崇尚儒學，經學傳家逐漸成為有意培養子弟當官的家族做法，也逐漸形成累世當官世族大家。請問：內應填入何者？  
(A) 秦朝 (B) 漢朝 (C) 魏晉南北朝 (D) 隋朝。
11. 1840年遠東的這場戰爭，導火線是由於來自英國殖民地印度的毒品走私被查禁，經過英國議會激烈辯論，最終以 271 票對 262 票，通過發動戰爭法議案，最後這場報復行動以簽訂不平等條約結束。請問：這場戰爭為何？  
(A) 鴉片戰爭 (B) 英法聯軍 (C) 甲午戰爭 (D) 清法戰爭。
12. 魏晉南北朝時代，控制朝廷和地方政治大權，並享有減免賦稅和勞役的是哪一階層？  
(A) 士人 (B) 世族 (C) 僧侶 (D) 商賈。
13. 下列各選項皆是清末改革運動的政策，何者與白強運動無關？  
(A) 廢除科舉 (B) 設立總理各國事務衙門 (C) 設立南京兵工廠 (D) 派遣留學生赴美留學。
14. 18世紀，為了要平衡對華貿易的虧損。英國大量銷售下列何種產品至中國，此舉嚴重的危害中國人民的健康？  
(A) 大麻 (B) 鴉片 (C) 海洛因 (D) 雪茄。
15. 西元18世紀中期，某個歐洲國家為了打破中國所設下的重重貿易限制，派遣使節團希望可以達成貿易協商。請問：該國為下列何者？  
(A) 法國 (B) 英國 (C) 荷蘭 (D) 義大利。

答案:

- 1.C 2.D 3.B 4.A 5.B 6.C 7.A 8.B 9.B 10.C 11.A 12.B 13.A 14.B 15.B

## 一、單題

- ( ) 臺北市常舉辦冠軍麵食大賽，常會吸引很多人來共襄盛舉。請問：臺灣人喜歡吃麵食，此與中國哪一地區居民飲食文化相關？ (A)北方 (B)南方 (C)中部 (D)西部。
- ( ) 導遊向遊客介紹某國：「它位於朝鮮半島，其娛樂產業蓬勃發展，電影、電視劇、偶像團體在各國熱賣，吸引許多外國觀光客來影劇拍攝場景朝聖。」導遊敘述的國家為下列何者？ (A)北韓 (B)日本 (C)中國 (D)南韓。
- ( ) 中國政府於 1980 年代開始於東部沿海地區發展經濟活動，成為今日中國經濟發展的火車頭。請問：在 1980 年代時中國設立何種經濟組織以發展相關工業？ (A)經濟特區 (B)特別行政區 (C)科學園區 (D)中心商業區。
- ( ) 中國各地氣候差異很大，秦嶺、淮河是重要的氣候分界，因此也成為人文景觀的重要界線。請問：秦嶺和淮河為下列哪一種重要氣候現象的分界線？ (A)年均溫 0 (B)一月均溫 0 (C)年溫差 0 (D)七月均溫 0
- ( ) 2021 年 6 月麥當勞推出與南韓知名男團 BTS 的聯名特餐，不僅讓南韓麥當勞的雞塊銷量激增 283%，網路上甚有人高價兜售套餐包裝紙，掀起了 BTS 特餐旋風。南韓蓬勃發展向外輸出的娛樂影視產業屬於第幾級產業？ (A)一 (B)二 (C)三 (D)四。
- ( ) 中國境內的季風氣候可分為熱帶、副熱帶和溫帶。其中，副熱帶和溫帶這兩種氣候的分界為下列哪一座山脈？ (A)太行山 (B)大興安嶺 (C)秦嶺 (D)天山。
- ( ) 下列哪一個都市位於中國海岸線及長江交會點，交通便利且腹地廣大，是中國工商、金融中心？ (A)北京 (B)上海 (C)深圳 (D)廣州。
- ( ) 中國自古以農立國，傳統農業受自然環境條件限制大，具有何種區域特色？ (A)東牧西農 (B)東農西牧 (C)南農北牧 (D)北牧南農。
- ( ) 日本位於亞洲的東部，其生活方式受到自然環境的影響甚大。請問：日本梯田分布的面積相當廣大，最主要是受到下列何項因素的影響？ (A)土地面積小 (B)氣候溼潤 (C)山多平原少 (D)島群分散。
- ( ) 今日中國對世界經濟發展的影響相當大，其中的原因之一為中國的潛在市場廣大。請問：下列哪一項特性和中國市場廣大的關係最密切？ (A)面積廣闊 (B)面海背陸 (C)人口眾多 (D)資源豐富。
- ( ) 在全球化趨勢下，日本的經濟發展正面臨其他國家競爭。請問：該國目前的工業發展方向主要為下列何者？ (A)高勞力工業 (B)低成本工業 (C)高附加價值工業 (D)原物料開採工業。
- ( ) 南韓隊到臺灣來參加國際比賽時，總是會攜帶具有家鄉味的食物，尤其是泡菜更是不可缺少。請問：南韓當地盛行食用該食物的主要原因為何？ (A)土壤貧瘠 (B)氣候嚴寒 (C)降水量少 (D)地形崎嶇。
- ( ) 中國企業近年來由於經濟發展快速，快速累積大量資金，因此紛紛併購國外企業，希望加速國內產業升級。在此目的下，下列哪一個企業較不會被納入併購的名單中？ (A)愛德華成衣工廠 (B)湯姆生電動汽車 (C)捷速個人電腦公司 (D)湛藍精密光學鏡頭。
- ( ) 亞洲的季風氣候位於廣大海陸的交會地區，每年夏季都會帶來大量降水，有利於該地區的農業活動發展。請問：熱帶季風氣候區的主要糧食作物以下列何者為主？ (A)小麥 (B)玉米 (C)稻米 (D)小米。
- ( ) 北韓目前因為下列何種因素的影響，以重工業及軍事工業為發展重點？ (A)政治制度 (B)出口貿易 (C)技術進步 (D)勞工眾多。

1. 答案：(A)

2. 答案：(D)

3. 答案：(A)

4. 答案：(B)

5. 答案：(C)

6. 答案：(C)

7. 答案：(B)

8. 答案：(B)

9. 答案：(C)

10. 答案：(C)

11. 答案：(C)

12. 答案：(B)

13. 答案：(A)

14. 答案：(C)


15. 答案：(A)

## 一、單題

1. ( )我國《憲法》規定中央政府各機關之職權，附圖中鄭小姐所提及的(甲)應是指中央政府哪一機關？



- (A)總統府 (B)行政院 (C)監察院 (D)立法院。
2. ( )原桃園縣已於民國103年12月25日進行直轄市升格改制，改制後的桃園市與下列哪一個行政區層級相同？ (A)新竹市 (B)臺南市 (C)臺東市 (D)宜蘭市。
3. ( )四位同學在討論《憲法》的內涵。請問：何人的說明最正確？ (A)阿雅：制定《憲法》是為補充法律的不足 (B)阿雄：內容規範包含基本人權、政府組織 (C)阿惠：對人民的權利義務做細節性規定 (D)阿國：依據法律授權詳訂行政措施步驟。
4. ( )附圖中這則報導顯示現代民主國家的哪一項功能發揮了效果？



- (A)保障基本人權 (B)扶助弱勢群體 (C)改善教育環境 (D)保衛國民安全。
5. ( )在民主國家中，人民享有政治參與的權利。附圖內容可用來說明何種政治參與的方式？



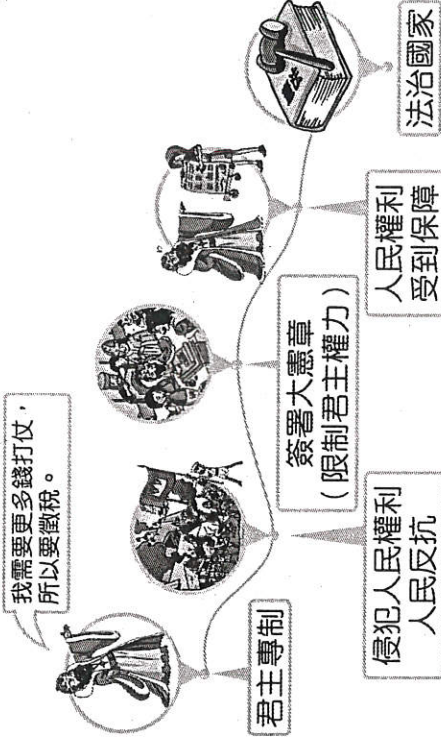
- (A)參加示威遊行 (B)參選公職人員 (C)投入政黨活動 (D)參與投票。
6. ( )以下擷取自一篇討論我國與英國政府體制的文章，若以三權分立的體制而論，關於文中畫雙底線之權力，下列敘述何者正確？

我國中央體制與英國有所差異，但均是以權力分立為原則，掌握立法權者為國會，在英國為上、下議院，在我國即是立法院。

- (A)監督司法機關 (B)掌握用人之權 (C)審查政府預算 (D)執行國家政策。
7. ( )2017年由土耳其總統主導的修憲公投通過，總統不再只有象徵性政治權力，而是握有實質行政權，且總統可以不用經過國會批准發布法令，並有權力解散國會。憲法法院雖然可以審判總統，但15席最高法院大法官有12人是由總統任命。有關土耳其修憲後的制度，下列敘述何者正確？ (A)土耳其透過分權制衡的方式落實有限政府 (B)土耳其權力運作模式，符合憲政主義精神 (C)總統雖然權力集中，大法官仍可防止其濫權

- (D)總統權力缺乏監督，恐使人權無法受到完整保障。
8. ( )根據我國《憲法》規定，人民的基本權利有哪些？(甲)參政權(乙)守法權(丙)自由權(丁)受益權(戊)平等權 (A)甲乙丙丁 (B)甲丙丁戊 (C)甲乙丁戊 (D)乙丙丁戊。
9. ( )民國40年代，臺灣地區除已存在的少數政黨外，人民不得再籌組其他政黨。解嚴後，目前合法登記的政黨已有二百餘個，顯見我國在哪一種人民基本權利的保障上已有長足的進步？〔91.第二次基測修訂〕 (A)平等權 (B)自由權 (C)受益權 (D)參政權。

10. ( )麗媛上臺報告時使用附圖做為例子，她當時正在說明的內容最可能是下列何者？



- (A)各國《憲法》的比較 (B)法治國家的發展過程 (C)君主專制的合理統治 (D)民主社會面臨的挫敗。

11. ( )小光認為自己所屬選區內的民意代表，違背了競選時所提出的政見，於是發動連署提案罷免該位民意代表。上述小光行使的人民基本權利類型與下列何者最類似？〔103.會考〕 (A)對於政府行政處分提出訴願 (B)參加國家考試擔任公務人員 (C)依照個人需求遷移居住地點 (D)接受國民義務教育完成學業。
12. ( )附表是我國辦理總統大選時四位國民的相關資料。根據資料判斷，下列何人最可能在本  
次選舉中具有投票資格？

姓名	年齡	備註
阿中	17歲	曾擔任校內自治市市長
小冰	24歲	受法院監護宣告
濃濃	46歲	受法院宣告褫奪公權
安安	19歲	曾有傷害罪前科


- (A)阿中 (B)小冰 (C)濃濃 (D)安安。
13. ( )附圖是里長發的通知單，依通知內容可知應屬於地方政府的哪一項職權？

**老人免費健康檢查**



臺北市於105年3月1日開  
 辦免費老人健康檢查，  
 服務名額預計36,530位，  
 請大家關心自己的健康！

- (A)社會福利 (B)安全衛生 (C)教育文化 (D)經濟發展。
14. ( )附圖中回答記者的人，最可能具有何種身分？



(A)總統 (B)行政院院長 (C)立法委員 (D)行政院官員。

15. ( )政府官員執行的政策失敗時，必須為政策負責，若是因此無法取信於民，更應該去職以示負責。上述政府官員的作為是負起什麼責任？ (A)法律責任 (B)道義責任 (C)政治責任 (D)行政責任。

答案：

1. (D)
2. (B)
3. (B)
4. (D)
5. (B)
6. (C)
7. (D)
8. (B)
9. (B)
10. (B)
11. (B)
12. (C)
13. (B)
14. (C)
15. (C)