

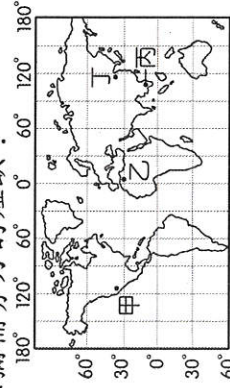
屏東縣立大同高級中學 111 學年度第 2 學期七年級歷史補考題庫

【範圍：第 2 冊】

- (A) 1. 某位英國商人在日治時期來到臺灣觀光，他不可能經歷何種體驗？(A)直接向原住民收購鹿皮 (B)使用紙幣交易 (C)從臺北搭火車到高雄 (D)參觀嘉南大圳。
- (C) 2. 日治時期的臺灣農民阿發最有可能的生活？(A)在街上叫賣自己提煉的樟腦 (B)將自己種的稻米高價賣給洋行 (C)在糖廠的要求下，負責種植甘蔗 (D)擔任警察。
- (B) 3. 日本自 1930 年代以後，積極擴張「南進政策」，「工業臺灣」成為其口號。工業是何者？(A)生技 (B)國防軍需 (C)交通 (D)電子。
- (D) 4. 關於保甲制度的敘述何者正確？(A)沿用自日本內地的制度 (B)十戶為一保，十保為一甲 (C)保甲中的所有青年皆須加入義和團 (D)甲長、保正輔佐警察處理地方事務。
- (A) 5. 1935 年，剛剛入學就讀臺人傅小博可能會遭遇何種情況？(A)就讀公學校 (B)與同班日本同學吵架 (C)不適應而轉到國民學校就讀 (D)背誦英文單字。
- (D) 6. 臺灣的原住民族從大航海時期歷經許多統治者漫長的統治，何者不是其曾經有過的稱呼？(A)山胞 (B)高砂族 (C)熟番 (D)新住民。
- (A) 7. 臺灣歷史上第一個合法的政黨？(A)臺灣民眾黨 (B)臺灣民主黨 (C)中國國民黨 (D)興中會。
- (A) 8. 民國 80 年，正式宣布終止動員戡亂的總統？(A)李登輝 (B)陳誠 (C)馬英九 (D)蔣經國。
- (D) 9. 何者不是日治時期臺灣社會變化？(A)引入西式初等教育 (B)臺灣文化協會成立 (C)首次地方議員選舉 (D)清鄉。
- (B) 10. 日治時期，○○○研發口感佳的蓬萊米，主要外銷何處？(A)中國 (B)日本 (C)朝鮮 (D)越南。
- (C) 11. 清廷簽訂《馬關條約》割讓臺灣予日本，臺灣官民如何反應？(A)八年抗戰 (B)反清復明 (C)成立臺灣民主國 (D)發起政治社會運動。
- (B) 12. 某段時間，政府常以肅檢「匪諜」、「叛亂者」為名逮捕異議分子，冤案、錯案、假案頻傳；此為臺灣哪個時期？
- (A) 13. 何者不是日本人眼中臺灣人的三大陋習？(A)賭博 (B)吸鴉片 (C)纏足 (D)辮髮。
- (A) 14. 臺灣流行歌曲的發展，何者錯誤？(A)民國 60 年代西洋歌曲大行其道 (B)解嚴後產生另類音樂與新臺語歌運動 (C)民國 40 年代倡議中華文化，臺語歌謠未得流行 (D)民國 60 年代外交挫敗為校園民歌興起的背景。
- (B) 15. 中華民國政府遷臺後，對外關係大致可分成三個階段：(甲)彈性外交 (乙)務實外交 (丙)鞏固外交。若依出現順序排列何者正確？(A)甲乙丙 (B)丙甲乙 (C)乙甲丙 (D)甲丙乙。
- (C) 16. 由於發生何事，中華人民共和國對臺灣改採「和平統一戰」策略？(A)臺灣解嚴 (B)臺灣退出聯合國 (C)中共與美國建交 (D)臺灣首次由人民直選總統。
- (B) 17. (甲)美國流行文化(乙)鄉土文學(丙)中華文化(丁)本土與原住民族文化，戰後臺灣文化演進的先後順序？(A)甲乙丙丁 (B)丙甲乙丁 (C)乙丁丙甲 (D)丁乙丙甲。
- (B) 18. 「APEC」是哪一個國際組織簡稱？(A)世界貿易組織 (B)亞太經濟合作會議 (C)聯合國 (D)東南亞國協。
- (C) 19. 屏東市部分街道名稱：「上海路」、「成都街」、「青島街」…與哪一個時代的政策背景有關？(A)推動社會福利措施 (B)提倡關懷本土文化 (C)提倡中華文化 (D)呼籲族群融合。
- (C) 20. 臺灣興起鄉土文學的社會背景？(A)景氣不佳 (B)反共意識強烈 (C)國際外交陷入困境 (D)原住民正名運動。

一、單題

1. ()臺灣在經濟轉型的過程中，面臨傳統產業勞力嚴重短缺的問題。此時臺灣多從附圖中何處引進移民，以彌補勞力的短缺？



(A)甲 (B)乙 (C)丙 (D)丁。

2. ()位於北歐的冰島，人口僅有數十萬人，傳統產業除了四周豐富的漁業資源外，更利用當地的火山、地熱及急流瀑布等資源發展觀光。21世紀初因全球原物料需求增加的影響，美國鋁業公司便在當地發展煉鋁工業，從國外引進鋁礦原料以從事鋁鎔煉廠的加工生產過程。由上文可知，冰島發展該產業的有利條件最可能為下列何者？ (A)勞工眾多 (B)市場廣大 (C)廉價動力 (D)原料豐富。

3. ()一個大型的聚落要成為都市時，通常具備下列哪些條件？(甲)交通便利(乙)面積廣大(丙)空氣清新(丁)就業機會多(戊)第二、三級產業發達 (A)甲乙丁 (B)乙丁戊 (C)丙丁戊 (D)甲丁戊。

4. ()「臺灣某行政區的山地面積比例高於75%，100公尺以下平地面積則不到25%。該區平原為數條河川共同沖積而成，甲山脈呈東北—西南走向越過平原西北方，平原南方為乙山脈的北端起點，平原東部則有縱向海岸沙丘分布。」上述行政區應為下列何者？〔109.會考〕 (A)南投縣 (B)苗栗縣 (C)宜蘭縣 (D)臺東縣。

5. ()附表為歷年來臺灣農、工業占國內生產淨值的比例，我們可運用表中資訊回答下列哪一問題？〔95.第二次基測〕

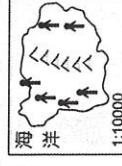
年別 (西元)	1952	1955	1960	1965	1970	1975	1980	1985	1990
農業 (%)	32.2	29.1	28.5	23.6	15.5	12.7	7.7	5.8	4.1
工業 (%)	19.7	23.2	29.9	30.2	36.8	39.9	45.7	46.3	42.5

(A)工業產值比例在1960年後，呈現出何種發展趨勢？
 (B)1985年的勞工人口比1960年的勞工人口增加多少？
 (C)自哪一年起，資訊工業占工業產值的比例大幅提升？
 (D)1955年後，農地轉為工業用地的土地面積比例為何？
 6. ()臺灣在發展的過程當中，都市與鄉村地區所面臨的人口問題各不相同。請問：目前都市地區最嚴重的人口問題為何？ (A)人口流失快 (B)出生率過高 (C)人口素質差 (D)人口密度高。
 7. ()下列為四個島國的人口分布示意圖，每張圖的圖紙大小相同，但比例尺都不同。依此判斷，哪一

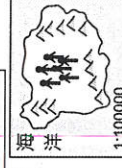
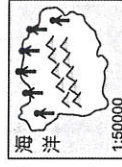
個島國的人口密度最大？(↑代表一百人)〔97.第一次基測〕 (A)




(B)



(C)



8. ()附圖的石滬是澎湖傳統的捕魚方法，漁民以海石在海岸近處疊起圍堤，漲潮時海水覆蓋，退潮時魚兒困在裡面，漁民即可撈捕。請問：這是屬於哪一種漁業類型？




(A)沿岸漁業 (B)近海漁業 (C)遠洋漁業 (D)養殖漁業。

9. ()臺灣現今已完成環島鐵路系統，但卻未有東西向鐵路的修築，主要原因為何？ (A)氣候欠佳 (B)地形的限制 (C)人口分布不均 (D)資源的開發。

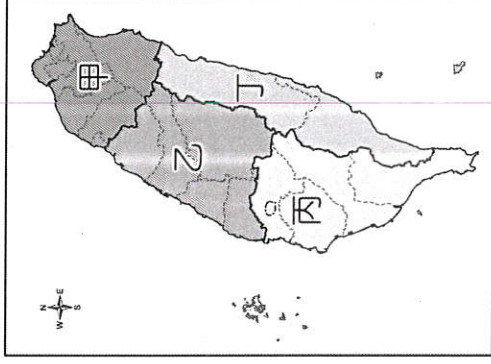
10. ()附圖為臺灣的社會增加率變化情況，圖中「甲」

階段的形成因素主要為下列何者？



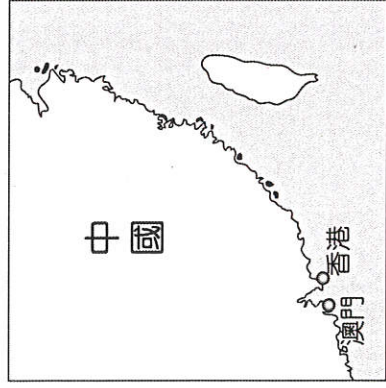
(A)新住民移入 (B)外籍移工來臺 (C)鄉村人口移入 (D)行政區域調整。

11. ()臺灣本島依區域特性分為四大區塊，如附圖所示，其中何者因為經濟因素的影響，人口移出的現象最為明顯？



(A)甲 (B)乙 (C)丙 (D)丁。

12. ()中國香港、澳門區域的經濟發展相當快速，其相對位置如附圖所示。若臺灣的貿易廠商欲與港澳地區合作，成立貨物轉運中心，則哪一區域由於距離最近，因此相對較為適合？



(A)北部區域 (B)中部區域 (C)南部區域 (D)東部區域。

13. () 歡樂國即將舉辦全國總統大選，某位候選人想以全國走透透、深入各地方鄉鎮拜票的方式爭取選民支持，請問：該名候選人應該使用何種交通工具最為適合？ (A)鐵路 (B)航空 (C)汽車 (D)捷運。

14. () 某國家人口結構如下：幼年人口占15%、壯年人口占75%、老年人口占10%。請問：下列哪一種社會現象最接近該國現狀？ (A)糧食不足 (B)醫療落後 (C)勞動力多 (D)人口外移。

15. () 近年來，臺灣一些需要較多勞力的工業，如鞋類、成衣等工廠多移往東南亞，此現象與當地具備何種優勢條件最為相關？ (A)工資較低廉 (B)原料較豐富 (C)交通較便利 (D)動力較充足。

16. () 大陸棚內不但有豐富的魚類資源，也是石油、天然氣的蘊藏區。請問：大陸棚是指沿海水深多少公尺以內的地區？ (A)100 m (B)150 m (C)200 m (D)250 m。

17. () 2017年6月下旬，有多家臺灣廠商參與美國盛大的投資高峰會，響應美國總統川普上任後推行的「美國優先」政策，估計赴美投資可能超過新臺幣1兆元。請問：考量美國的工業區位條件，赴美投資的臺商中可能以哪一產業類型居多？ (A)塑膠玩具 (B)成衣製造 (C)食品加工 (D)手機通訊。

18. () 清帝國時期中國許多人追求更好的生活品質冒險來臺。請問，這是屬於人口移動的何種名詞？ (A)拉力 (B)推力 (C)移出率 (D)自然增加率。

19. () 政府相關單位在推廣建國百年的活動時，由於下列哪一個區域的原住民族比例最高，富有珍貴的傳統文化，因此將當地列為重要的文化體驗區，積極向世界各地推廣？ (A)東部區域 (B)北部區域 (C)中部區域 (D)南部區域。

20. () 臺灣除了五大都會區外，各地仍分布著許多鄉村聚落，提供都市居民休閒去處。下列哪一個畫面，我們比較不容易在鄉村地區看見？ (A)三五成群的老人在大榕樹下聊天、泡茶 (B)小孩們聚集在廟口空地打鬧嬉戲 (C)農人在自家門前廣場晒稻穀 (D)年輕人逛百貨公司購物。

1. 答案：(C)

解析：臺灣目前外籍移工多來自於東南亞地區，而中國移工則未開放來臺。

2. 答案：(C)

3. 答案：(D)

解析：聚落本身就具有面積廣大、空氣清新，故不屬於都市的必備條件。

4. 答案：(C)

5. 答案：(A)

解析：表中僅提供農、工業的產值比例變化，由表中可知，農業產值比例逐年下降，而工業產值比例卻逐年上升。

6. 答案：(D)

7. 答案：(A)

8. 答案：(A)

解析：石滬多位在海岸(12哩以內)。

9. 答案：(B)

解析：中央山脈為南北走向，故東西向的交通受其影響。

10. 答案：(A)

解析：臺灣社會增加率微增，主要來自於新住民的增加。

11. 答案：(D)

解析：丁為臺灣東部區域，因為產業較不發達，因此人口外流嚴重，人口密度偏低。

12. 答案：(C)

13. 答案：(C)

解析：汽車適應地形的能力最佳，有利於深入各地。

14. 答案：(C)

解析：壯年人口為主要的勞動人口。

15. 答案：(A)

16. 答案：(C)

17. 答案：(D)

18. 答案：(A)

解析：清帝國時期中國許多人追求更好的生活品質冒險來臺，屬於人口移動的拉力。

19. 答案：(A)

解析：東部的原住民族最多，因此相關文化特色最明顯。

20. 答案：(D)

111-2 七年級公民補考

一、單題

1. () 政府對經濟和社會地位相對弱勢的族群，常會透過政策提供較多的社會資源和機會保障，例如為身心障礙者設立特殊教育學校。上述政府的做法，最可能是基於下列何種理由？〔96.第二次基測〕
(A) 保存特殊文化 (B) 促進社區參與 (C) 強化族群融合 (D) 落實社會正義。
2. () 小凱騎乘家中的機車上街，經交通警察臨檢發現他無照駕駛，依法被開處罰單且扣留機車牌照，並通知小凱的父母將車子取回。上述警察機關的做法，最能彰顯法律的哪一項特徵？〔92.第二次基測〕
(A) 法律無法規範人民的內在真想法 (B) 法律明確規定人民應該遵守的事項 (C) 國家須依照一定的程序來制定法律 (D) 國家可以強制力來處罰違反法律者。
3. () 下列有關「風俗習慣」的敘述，何者錯誤？
(A) 對社會成員不具有強制力 (B) 「長幼有序」屬於風俗習慣 (C) 是人類生活中最早發展出來的社會規範形式 (D) 是社會中長期累積的生活經驗所形成。
4. () 古今中外，任何的人類社會都有屬於自己的文化，這顯示出文化的哪一項特性？ (A) 普遍性
(B) 累積性 (C) 差異性 (D) 制約性。
5. () 幾位同學正在分享對「文化」此一概念的理解，下列何人的說明完全正確？ (A)


每個社會都有結婚儀式，說明文化有差異性。




(B) 文化具有普遍性，並非是人類社會所特有的現象。



(D) 文化是指某一類人所共有的生活方式。



(C) 宗教屬個人信仰，不包含在文化內涵之中。



6. () 在地球村的時代中，面對外來文化的挑戰，某些傳統文化可能產生認同危機。面對此一危機，我們應該採取下列哪一種作為？ (A) 肯定自我文化價值 (B) 全盤接受強勢文化 (C) 拒絕與外來文化交流 (D) 促進不同文化的同質性與單一化。
7. () 魯蜜寒假時出國到外籍友人家鄉拜訪，友人開車載他四處遊覽，根據附圖中兩人的對話，政府此種做法可能造成何種文化現象？



魯蜜 這片住宅區的建築物好像不太一樣。



友人 這區是少數族群的活動範圍，政府認為他們文化程度比較低，擔心他們騷擾一般市民，因此建了一道牆做為區隔。

- (A) 次文化 (B) 文化位階 (C) 文化差異 (D) 多元文化。

8. () 以下為四個朋友在網路上聊天，依聊天內容判斷，

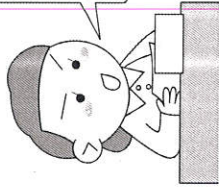
何人的做法較為適當？

聊天室

小慈：我每個月都有繳健保費，所以沒病也要去看醫生。
小怡：上回氣爆，我去災區附近拿了很多免費的物資。
小茗：我找到工作後，就沒領政府的補助，把錢留給有需要的人。
小芷：我借用表弟的低收入戶資格，申請社會住宅，省了好多錢。

- (A) 小慈 (B) 小怡 (C) 小茗 (D) 小芷。
9. () 中國唐朝崇尚「豐腴」的女人，所以楊貴妃在唐朝時是第一美人；宋朝的審美觀則以「纖弱瘦小」為美，也開始有纏足的風氣。由上述各朝代所展現的審美觀可以發現，文化會隨著時代變遷而顯現出一項特性？ (A) 累積性 (B) 普遍性 (C) 差異性 (D) 制約性。
10. () 下列新聞報導的內容符合何種公民素養的精神？根據財政部統計處公布資料，2018年公益彩券銷售盈餘為267億元，用於挹注社會福利支出，同時創造了4萬多個工作機會，扶植弱勢族群就業。
(A) 追求公平正義 (B) 尊重公共意見 (C) 遵守公共秩序 (D) 維護公眾利益。
11. () 新聞主播正在播報一則國外消息，如附圖所示。請問：這則消息顯示下列何者的重要性？

政府軍隊和叛軍兩方爭戰，國家陷入一片混亂，街頭上搶劫、鬥毆事件不斷，呈現失序狀態。



- (A) 社會福利 (B) 政治理念 (C) 傳播媒體 (D) 社會規範。
12. () 某研究分析，臺灣家庭所得最高5%家庭的小孩，他們就讀臺灣大學機率是所得最低5%家庭的6倍，顯示出資源較多的學校，學生經濟背景也較佳。請問：上述內容與下列哪一社會不公平現象相關？ (A) 利益分配 (B) 責任負擔 (C) 貢獻程度 (D) 需求滿足。
13. () 下列哪一種社會規範是透過各種經典和戒律，獎善懲惡，來約束社會成員的日常生活？ (A) 法律 (B) 倫理道德 (C) 宗教信仰 (D) 風俗習慣。
14. () 下列何者的做法是我們所要追求的「公平正義」？
(A) 大仁捐贈健身器材給國軍 (B) 小馬阻止少女坐博愛座 (C) 勤勞基金會發放清寒獎助學金 (D) 阿聖謾罵插隊人士。
15. () 我國政府曾經長期推行國語運動造成語言上的文化位階，以下何者較可能是其所帶來的影響？
(A) 國語與其他母語地位漸趨於平等 (B) 其他語言的傳承與保存獲得肯定 (C) 帶動多元文化在臺灣社會的發展 (D) 許多母語文化產生自我認同危機。
16. () 毅馨未詳查引用的資訊，因此撰寫的主題報告錯誤百出，如附圖所示，其內容當中只有哪一畫線部分完全正確？

主題：次文化

(甲) 次文化是指被社會上大多數人認同的價值、信仰和規範等，(乙) 次文化的「次」是代表次等的意思，(丙) 與主流文化有

高低優劣的分別。(丁)青少年次文化是指這個年齡層獨具的文化，例如嘻哈街舞、塗鴉等。

(A)甲 (B)乙 (C)丙 (D)丁。

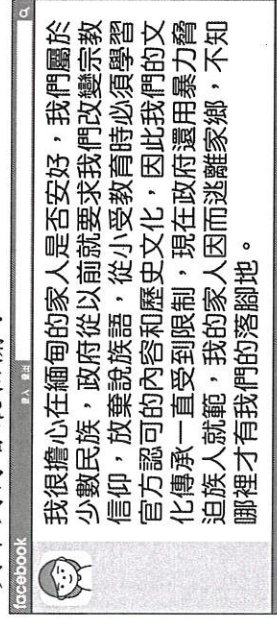
17. () 下列是四位同學對於「社會規範」的說明，其中何人的觀念錯誤？(A)橘子：違反風俗習慣雖不會受到公權力處罰，但仍具一定的約束作用 (B)小清：違反倫理道德可能只會受到良心的譴責，但「亂丟垃圾的行為」因受到重視，而被制定成法律 (C)吉岡：宗教信仰是以明確的條文來約束人的行為 (D)片桐：政府可以透過一定的程序，給予違反法律的人適當的制裁。

18. () 附圖中的對話內容，可用來解釋下列哪一項文化特性？



(A)普遍性 (B)累積性 (C)制約性 (D)差異性。

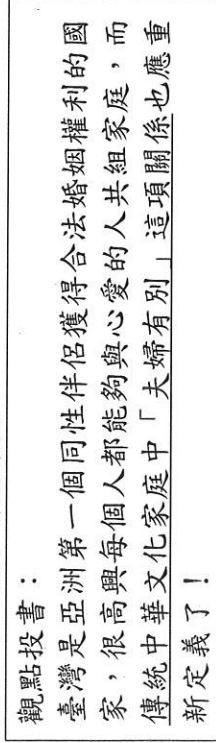
19. () 一位來臺灣讀書的留學生於社群網站上發表一則貼文，依照內容所述，他與家人在緬甸受到的對待應與下列何者最相關？



(A)面臨殖民文化的恐懼感 (B)中央與地方政府的對立 (C)強勢文化產生認同危機 (D)文化位階造成的不平等。

20. () 某公司在技術、維修等專業技能及體力負荷較大之部門皆以男性為主，女性大多參與人事、行政部門工作。請問：該公司反映出哪一社會不公平現象？(A)利益分配 (B)責任負擔 (C)貢獻程度 (D)需求滿足。

21. () 下列為一位讀者的投書，由文中畫線內容判斷，應屬於哪一類社會規範？




(A)倫理道德 (B)風俗習慣 (C)宗教信仰 (D)法律。

22. () 附圖中的情境是下列何種精神的發揮？



(A)愛護地球 (B)理性溝通 (C)尊重差異 (D)公平正義。

23. () 附圖是勝凱上臺報告的內容，他所負責介紹的社會福利措施應是下列哪一項目？



牡丹鄉公所積極推動東源部落的觀光產業發展，結合排灣族文化化的野薑花季活動至今已邁入第7年。

(A)社會救助 (B)就業安全 (C)居住正義與社區營造 (D)社會保險。

24. () 幾位同學正在討論「公平正義」的概念，下列何人所舉的例子最符合？(A)

到偏鄉設立行動圖書館。



要求老年人施打流感疫苗。



(B)強制全國國民服兵役。



(D)購物時要向商家索取統一發票。



25. () 工業革命後，貧富差距擴大，社會大眾逐漸意識到社會問題無法僅靠個人、家庭的力量解決，應由國家介入處理，國家處理的方式不包括下列哪一項？(A)建立社會安全制度 (B)驅逐弱勢實現富強 (C)運用公權力分配公共资源 (D)提供適當的金錢與服務。

答案

1. 答案：(D)
2. 答案：(D)
3. 答案：(B)
4. 答案：(A)
5. 答案：(D)
6. 答案：(A)
7. 答案：(B)
8. 答案：(C)
9. 答案：(C)
10. 答案：(A)
11. 答案：(D)
12. 答案：(A)
13. 答案：(C)
14. 答案：(C)
15. 答案：(D)
16. 答案：(D)
17. 答案：(C)
18. 答案：(C)
19. 答案：(D)
20. 答案：(B)
21. 答案：(A)
22. 答案：(D)
23. 答案：(C)
24. 答案：(A)
25. 答案：(B)