

※第四冊

1. 幾位同學正在討論中華人民共和國成立的相關歷史。請問：何者說法不符史實？  
(A)成立於 1949 年，以農曆紀年 (B)由中國共產黨一黨專政 (C) 建立龐大的國營事業 (D) 早期外交大幅傾向蘇聯。
2. 有人說「21 世紀是中國人的世紀」，在中國富強之餘，中國仍舊面臨許多挑戰與困境。請問：下列何者為非？  
(A)與周邊國家領土爭議不斷 (B) 貧富發展嚴重不均 (C) 性別比例失衡 (D) 國家主權遭受西方列強控制。
3. 「中共推動△△△以後，經濟成長快速，中國大陸人民的生活水準也逐漸提升，但因官員腐化、物價上漲，社會瀰漫一股對現實生活的不滿。西方的民主思潮也隨著該政策而在中國廣泛傳播，許多民間知識分子開始提出民主、人權的觀念。」  
請問：文中的△△△政策應是下列何者？ (A) 土地改革 (B) 全民大煉鋼 (C) 改革開放 (D) 文化大革命。
4. 「當連隊出發到田間勞動時，要由隊長雙手拱著毛澤東像的鏡框帶頭走，叫做“請寶像”」。「毛澤東的最高指示也是神聖的，從上而下，一經接到，要敲鑼打鼓表示歡迎和擁護」。上述對於毛澤東的個人崇拜情形，會出現在何時的中國大陸？  
(A) 1940 年代 (B) 1980 年代 (C) 1960 年代 (D) 2000 年代。
5. 西元 1950 年，韓戰爆發，美國支持親西方的南韓政權，北韓則有中共志願軍的加入。因其他國家的介入，使得韓戰的戰局更加複雜。請問：當時北韓是在哪個國家的鼓勵下，進攻南韓？ (A) 台灣 (B) 日本 (C) 美國 (D) 蘇聯。
6. 老師針對中共所實施的大躍進運動進行解說，其中不會出現下列何者？ (A) 開始推動的年代為 1960 年代 (B) 運動目標要在農、工業趕上英、美 (C) 以集體管理的方式從事生產 (D) 大量興建土高爐以求煉鋼成效。
7. 中共建國初期為鞏固共黨政權，實施嚴格的各項措施，其中不包括下列何者？ (A) 沒收地主土地 (B) 容忍不同立場輿論 (C) 實施集體耕作 (D) 逐漸將企業收歸國有。
8. 西元 1966 年毛澤東為重新奪權，發動文化大革命，利用青年學生組成紅衛兵，做為其整肅異己的奪權工具。請問：下列何者為當時的口號？ (A) 革命無罪、造反有理 (B) 外爭主權，內除國賊 (C) 超英趕美 (D) 停止內戰，一致抗日。
9. 二戰結束之後，世界上出現許多地區性的組織，這些國家因彼此的文化背景、地理空間、政治利益等因素而結盟，例如：東南亞公約組織。請問：該組織的出現反映出當時的何種國際趨勢？(A) 不結盟運動 (B) 二元陣營對峙 (C) 民主改革 (D) 共產革命。
10. 請問：中華人民共和國、美國、蘇聯(俄羅斯的前身)三國在冷戰期間的發展，下列敘述何者正確？  
(A) 中共建立政權初期，中蘇關係惡劣 (B) 韓戰時因中華人民共和國與蘇聯共同對抗美國，故兩國化敵為友  
(C) 美國總統尼克森訪問中國代表兩國開始「關係正常化」 (D) 中國因鄧小平推動改革開放故與蘇聯交惡。
11. 冷戰期間，民主與共產兩大陣營針鋒相對，雖然有小規模的地區衝突，但是沒有演變成大規模的戰爭。請問：下列有關冷戰的敘述，何者錯誤？ (A) 冷戰開始於第二次世界大戰結束後 (B) 民主國家以美國為首，共產國家以蘇聯為首  
(C) 臺灣屬於以美國為首的民主陣營，獲得美國援助 (D) 韓戰結束後，冷戰也隨之結束。
12. 有一部電影劇情如下：「祥子回到故鄉，那裡充斥著『破四舊、立四新』的標語，他看到村長被畫分為『地主』階級而遭受殘酷的公審。後來，祥子的妻子難產，醫院裡的醫生們卻已在『打倒學術權威』的口號下被迫離開……。」請問，這部電影設定的時空背景中所發生的歷史事件，下列敘述何者 正確？  
(A) 是鄧小平為進行奪權而發動的 (B) 推行人民公社，以集體管理方式從事生產  
(C) 毛澤東重新掌權後才結束混亂局勢 (D) 青少年學生組織的紅衛兵，會以舞蹈表演的方式來宣傳革命理論。
13. 承上題，此歷史事件對中國最大的影響為何？(A) 農業生產量大幅提升 (B) 人民獲得更多自由 (C) 成功消除了中國的貧富差距 (D) 中國傳統文化受嚴重破壞。
14. 他為了解決當時經濟衰退的問題，提出「四個現代化」被中國官方稱為「中國改革開放的總設計師」，他所實施的政策幾乎影響到了 20 世紀後期每個中國人，也在相當程度上改變了世界。請問：上述的「他」是誰？  
(A) 鄧小平 (B) 江澤民 (C) 習近平 (D) 毛澤東。
15. 中國在那個年代，整個中國約六億五千萬人開始總動員，努力建新的道路、工廠、城市、水壩與造林、墾荒。廣為外界所知的就是「□□□□」。可遺憾的是，這樣子的大忙一場，所得到的鋼鐵成品，卻大半是不能使用的。「□□□□」應為下列何者？ (A) 人民公社 (B) 文化大革命 (C) 土法煉鋼 (D) 改革開放。

16. 熱愛追劇又情感爆棚的韓迷，深陷於戲劇裡帥氣男主角—北韓軍官的魅力，而另一方面又喜歡跟風美麗女主角—南韓千金的華麗穿搭，隨著劇情的高潮迭起，韓迷與眾多觀眾一樣，擔心男女主角如何能跨越現實中的政治無奈，走向廝守一生的美好結局。然而，造成劇中男女主角愛的坎坷的情況，主要是因為韓戰後，南、北韓至今分裂的狀態。請問關於韓戰的敘述，下列何者有誤？ (A)中共在外交上依附蘇聯，實施「一邊倒」 (B)韓戰期間中共派出志願軍支援南韓作戰 (C)當時中國的領導人為毛澤東 (D)美國在韓戰期間派遣第七艦隊協防臺灣。
17. 中國領導人鄧小平與英國首相柴契爾夫人為「某地區」的主權進行多次協商，終於達成共識，並於西元 1984 年，兩國發表聯合聲明，中國將恢復此地區的主權行使。請問：關於上述內容，下列敘述何者正確？ (A)文中的「某地區」是指澳門 (B)該地從清代以來就由英國殖民統治達百餘年 (C)此聲明證明中國在第三世界國家中具有重要影響力 (D)中國後來在該地設置「經濟特區」。
18. 美國號召部分國家於西元 1954 年，在泰國成立東南亞公約組織(SEATO)，簡稱東約，除了有亞洲國家，還包含英、法等國。請問：美國成立東約組織的目的為何？ (A)促進東南亞的經濟合作 (B)防堵亞洲的共產主義勢力擴張 (C)便於東南亞的殖民地管理 (D)抵抗日本帝國的侵略。
19. 小明利用網路閱讀鄧榕所寫的《我的父親鄧小平》一書。請問：書中可能寫到鄧小平的事蹟為何？ (A)推行「大躍進」運動 (B)推行「人民公社」 (C)執政期間發生六四天安門事件 (D)擔任中共建國後的首任國家領導人。
20. 一九八〇年代開始，中國為了提振經濟，採取□□□□政策，希望使自身競爭力提升。至此，中國的經濟環境獲得改善，外來投資者投注資金，並在中國設廠，使中國加入世界經濟體系，請問□□□□應填入下列何者？ (A)大躍進 (B)十年建設 (C)改革開放 (D)十大建設。

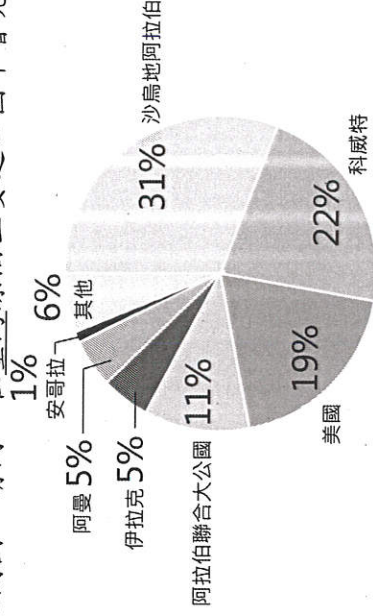
1.A 2.D 3.C 4.C 5.D 6.A 7.B 8.A 9.B 10.C

11.D 12.D 13.D 14.A 15.C 16.B 17.B 18.B 19.C 20.C

＊此卷為補考題庫，請務必熟讀後於學校規定時間前來補考。

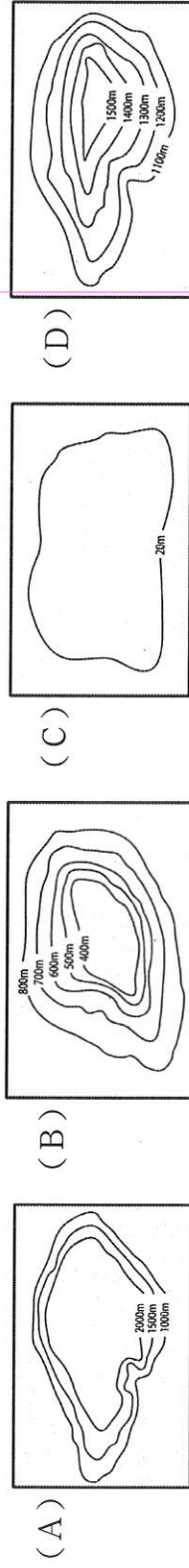
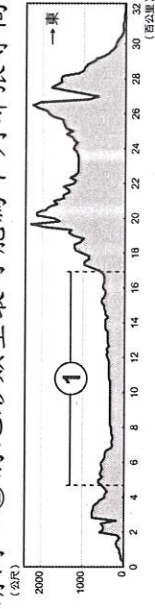
一、單題

1. ( ) 附圖為 2021 年臺灣原油進口來源國比例圖。請問：在臺灣原油主要進口國中會見到下述哪項景觀？



▲ 2021 年臺灣原油進口來源國比例圖

(A) 氣候炎熱多雨，雨林廣布 (B) 受盛行西風影響，夏雨冬乾  
 (C) 氣候乾燥，居民傳統衣著寬鬆 (D) 尼羅河三角洲為人口聚集之處。  
 2. ( ) 附圖是赤道附近的非洲地形剖面圖，請問：①的地形類型最可能為下列哪張等高線圖？



3. ( ) 漠南非洲面積廣大、人口眾多，然而經濟發展仍有增長空間。如今其自然資源帶動某產業發展，成為經濟發展的新契機。請問：該產業為何？ (A) 酪農業 (B) 觀光業 (C) 休閒農業 (D) 熱帶栽培業。  
 4. ( ) 東協國家近年的經濟發展相當迅速。請問：東協國家發展工業的優勢為何？甲、便宜的勞動力；乙、豐富的資源；丙、完善的交通；丁、高科技技術 (A) 甲乙 (B) 乙丙 (C) 丙丁 (D) 甲丁。  
 5. ( ) 東協十國的宗教信仰多元複雜，除了國際貿易帶來不同的宗教外，也與曾受到西方列強的殖民統治有關，至今殖民歷史仍然影響當地發展。請問：下列哪項東亞特色與殖民歷史最無關？  
 (A) 大量人民到海外提供勞務 (B) 具有天主教信仰及英語等文化  
 (C) 大都市多為鄰近港口的港埠型都市 (D) 發展大規模的熱帶栽培業，種植油棕、橡膠等經濟作物。

6. ( ) 小輪搭乘飛機經過漠南非洲，從高空往下看，發現一條長達數百公里的裂谷，這條裂谷被稱為「地球上最大的傷痕」，中間穿插了相當多個湖泊、火山群。請問：該裂谷形成的原因為何？  
 (A) 火山作用 (B) 斷層陷落 (C) 河川切割 (D) 風化侵蝕。  
 7. ( ) 「漠南非洲許多地區的居民仍維持傳統的一級產業活動……」引句中的「一級產業活動」可能是指下列何者？(甲) 游耕、游牧(乙) 採集、狩獵(丙) 採礦、工業(丁) 灌溉農業、熱帶栽培業 (A) 甲乙 (B) 甲丙 (C) 乙丁 (D) 丙丁。  
 8. ( ) 19 世紀以前，歐洲人對撒哈拉沙漠以南的非洲一無所悉，主因是非洲早期對外海運不便，不易與外界交流，居民長期維持較原始的生活方式。下列哪項敘述，是造成非洲對外海運不便的主因？  
 (A) 裂谷橫互 (B) 港口冬季結冰 (C) 氣候南北對稱 (D) 海岸平直少良港。

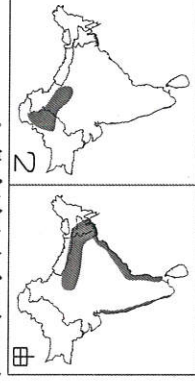
9. ( ) 漠南非洲的農牧業活動受自然環境與現代科技影響，各地的活動型態皆不相同。下列有關兩者的配對中，何者最為相關？  
 (A) 熱帶雨林氣候—酪農業 (B) 熱帶沙漠氣候—綠洲農業  
 (C) 熱帶莽原氣候—地中海型農業 (D) 溫帶地中海型氣候—熱帶栽培業。  
 10. ( ) 漠南非洲國家仍延續殖民時期的經濟型態，以礦產與熱帶栽培作物為主要輸出品，此種經營方式容易面臨下列哪項經濟問題？  
 (A) 糧食生產供給過剩 (B) 國內勞工供應短缺 (C) 易受國際市場價格影響 (D) 國內動亂使資金不敢投入。

11. ( ) 漠南非洲歷年饑荒不絕，面臨嚴重的糧食問題，成為國際長年關注的焦點。除氣候與戰爭因素外，漠南非洲常見饑荒主要尚與下列哪些原因有關？(甲) 過度的開墾導致沙漠化加劇(乙) 出生率下降導致高齡化嚴重(丙) 經濟作物種植排擠糧食作物(丁) 埃及尼羅河定期的河川氾濫，影響兩岸地區的人文活動。請問：後來在山區興建水壩後，造成何種影響？  
 (A) 山區土石滑落 (B) 河川長度縮減 (C) 耕作面積增加 (D) 收成次數減少。

12. ( ) 鄭和奉命下西洋時，由中國沿海出發，順風而下來到了東南亞地區，並在當地留下了許多遺跡。請問：當時他最可能在什麼季節出發，並順風來到了東南亞？ (A) 春季 (B) 夏季 (C) 秋季 (D) 冬季。  
 13. ( ) 東南亞國家組成東南亞國家協會的區域組織，目前最主要的目的為增進下列何者的區域整合？  
 (A) 經濟 (B) 外交 (C) 環保 (D) 貨幣。

14. ( ) 農業活動的分布主要受到自然條件的影響，因此形成不同的利用方式。附圖中的甲、乙兩圖分別為印度半島的稻米及

小麥的分布地區，請根據其位置判斷，影響其分布地區的主要因素為下列何者？



(A)地勢起伏 (B)氣溫高低 (C)降水多寡 (D)土壤沃度。

1. 答案：(C)
2. 答案：(B)
3. 答案：(B)
4. 答案：(A)
5. 答案：(A)
6. 答案：(B)
7. 答案：(A)
8. 答案：(D)
9. 答案：(B)
10. 答案：(C)
11. 答案：(B)
12. 答案：(C)
13. 答案：(D)
14. 答案：(A)
15. 答案：(C)

一、單題 (每題5分,共100分)

1. ( ) 以下為柔萱和文誠在段考前訂定的契約書，成績公布後，柔萱為第一名，文誠為第二名。請問：文誠需要履行契約書中的約定嗎？

契約書

此次段考，未能得到全班第一名者，將在全校朝會時，裸體跑操場一圈。

立約人 王柔萱 林文誠

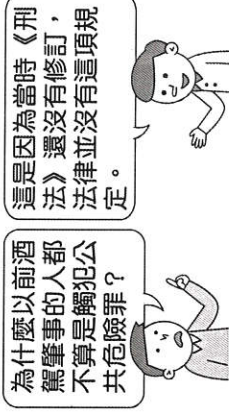
(A)需要，基於誠實信用原則 (B)需要，契約簽訂時已經過雙方同意 (C)不需要，契約內容違反善良風俗 (D)不需要，契約書上無見證人簽名蓋章。

2. ( ) 根據附圖情境判斷，下列敘述何者正確？



(A)若阿陽為限制行為能力人，須由阿陽的法定代理人負連帶賠償責任 (B)若阿漢為限制行為能力人，阿陽的法定代理人不須負連帶賠償責任 (C)若阿陽為無行為能力人，則阿陽的行為不屬於侵權行為 (D)若阿漢為無行為能力人，則阿陽的行為不屬於侵權行為。

3. ( ) 由附圖中的對話內容可知，《刑法》最重要的精神是什麼？



(A)契約自由原則 (B)罪刑法定原則 (C)誠實信用原則 (D)權利禁止濫用原則。

4. ( ) 依據《刑法》的規定，下列何者因判斷能力有限，若有犯罪行為，得減輕處罰？ (A)15歲的小堂為了填飽肚子，偷吃超商的麵包 (B)65歲的老陳為了打工，偽造自己的身分證 (C)已滿18歲的小清，於網路遊戲天堂中偷取對手的寶物 (D)已滿20歲的阿諾偷了鄰居的腳踏車。

5. ( ) 坤焯在網上看到國外一名學者投書的社論，如附圖所示。相較於該國，我國法律對畫雙底線部分年齡層的犯罪行為採取何種處置？



(A)以刑罰處罰 (B)施以保護處分 (C)要求法定代理人承擔刑責 (D)不做任何處置。

6. ( ) 依照附圖情境判斷，關於圖中兩人行為在法律上的意義，下列敘述何者正確？



(A)該契約因兩人意思表示一致而成立 (B)該行為屬於《民法》上的身分關係 (C)兩人溝通的內容屬於租賃契約 (D)契約成立，小珞成為子賢的債權人。

7. ( ) 關於「限制行為能力人」的說明，下列何者正確？ (A)從事任何法律行為均為無效 (B)須由法定代理人代為行使法律行為 (C)以年齡為界定標準，6歲以下屬之 (D)其法律行為原則上必須得到法定代理人同意。

8. ( ) 風間(5歲)到3C電子產品專賣店，想用自己的零用錢買一臺平板電腦。如果你是老闆，應如何處理才是有效的法律行為？ (A)拿出書面契約給風間簽名 (B)先完成交易，再打電話跟風間的法定代理人求證 (C)只要風間的錢足夠，此買賣行為即有效 (D)要求風間回去請法定代理人出面代替他進行交易。

9. ( ) 附圖情境中，房東依法可以採取何種方式來保障自己的權益？



(A)要求房客將房間回復原狀 (B)強制扣留房客的財物 (C)要求房客加付10倍房租 (D)迫使房客延長租約時間

10. ( ) 我們如果碰到權益受損較輕微的民事案件，為節省資源、時間，應採取何種方式進行救濟？ (A)委任律師提起訴訟  
 打官司 (B)訴諸媒體尋求輿論支持 (C)透過和解、調解等方式解決 (D)忍氣吞聲、自認倒楣。
11. ( ) 根據日記內容，當中所提到的案件應是下列何者？

日記 5月22日

早上老師帶我們去法院旁聽案件，原來此類型的訴訟案件必須由當事人主動提起訴訟，法院才會審理，而且雙方當事人必須提出有利於自己的主張，並加以舉證。今天真的學到很多知識。

- (A)強盜殺人案件 (B)詐欺案件 (C)損害鐵門案件 (D)偷竊案件
12. ( ) 碧舜在個人網誌上發文如下，依照內容所述，對於他行為的界定，下列何者正確？

**動態更新**

我才剛考到駕照，昨天就被警察攔下來說我違反《道路交通管理處罰條例》，並訓斥我騎車超速很危險，還開了一張罰單給我。這樣我算不算犯罪？

- (A)只有違法，沒有犯罪 (B)只有犯罪，沒有違法 (C)並不違法，也不屬於犯罪 (D)不僅違法，而且屬於犯罪

13. ( ) 附表是我國《民法》與《刑法》的比較，其中哪些正確？

	民法	刑法
(甲)特色	誠實信用	罪刑法定
(乙)法律責任	民事責任	刑事責任
(丙)責任內容	罰金、拘役	損害賠償
(丁)違反該法行為舉例	積欠卡債不還	不履行買賣契約

- (A)甲丙 (B)甲乙 (C)乙丙 (D)乙丁

14. ( ) 警方破獲犯罪集團，落網的成員名單如下。根據《刑法》規定，成員中有哪幾位得減輕處罰？

名單

甲、劉○榮 14歲      丁、王○芳 15歲  
 乙、花○鳳 17歲      戊、蔡○吉 19歲  
 丙、駱○城 25歲

- (A)甲乙丙 (B)丙丁戊 (C)甲乙丁 (D)乙丁戊

15. ( ) 下列哪一件糾紛只能用訴訟的方式尋求救濟？ (A)施先生當眾用言語羞辱太太 (B)陳先生開車超速撞死路人  
 (C)王小妹騎腳踏車撞壞張爺爺家的大門 (D)吳小弟打棒球時不小心打破劉阿姨家的窗戶。
16. ( ) 近年來，許多重大刑事案件，法院的判決與國民的期待有很大落差，因此政府極力推動司法改革，希望透過國民參與決定被告有罪與否及刑期，藉此降低此一爭議。立法院於民國109年三讀通過《國民法官法》，預計於民國112年上路實施。「國民法官」將參與下列哪一刑事訴訟程序？ (A)偵查 (B)起訴 (C)審判 (D)執行。
17. ( ) 附圖中兩人討論的現象違反下列哪一項原則？



- (A)誠實信用原則 (B)罪刑法定原則 (C)無罪推定原則 (D)契約自由原則。
18. ( ) 衛生署公告「包裝速食麵標示相關規定」，有關包裝泡麵的標示，如內容物附調味粉包，但並無食材包者，應以「○味麵、○○風味麵或○○湯麵」為品名。上述政府制定規範來保障人民權益的作法，符合下列何種概念？ (A)行政管制 (B)行政處分 (C)行政責任 (D)行政罰。
19. ( ) 行政機關做出各種行政處分時，必須遵守行政法規的相關規定。人民若是違反行政法規，必須負起何種責任，並接受行政機關的裁罰？ (A)民事責任 (B)刑事責任 (C)行政責任 (D)道義責任。
20. ( ) 依照《兒童及少年福利與權益保障法》規定，父母、監護人對兒少應負保護的責任，若是父母、監護人未善盡職責，可能會受到什麼處罰？(甲)沒收(乙)罰鍰(丙)親職教育輔導(丁)褫奪公權 (A)甲乙 (B)乙丙 (C)甲丁 (D)甲丙。

解答

1. 答案：(C)
2. 答案：(A)
3. 答案：(B)
4. 答案：(A)
5. 答案：(B)
6. 答案：(A)
7. 答案：(D)
8. 答案：(D)
9. 答案：(A)
10. 答案：(C)
11. 答案：(C)
12. 答案：(A)
13. 答案：(B)
14. 答案：(C)
15. 答案：(B)
16. 答案：(C)
17. 答案：(C)
18. 答案：(A)
19. 答案：(C)
20. 答案：(D)