

屏東縣立大同高中國中部 7 年級社會科補考試卷(題庫)

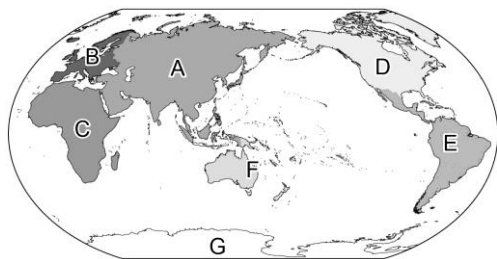
____年 ____班 座號：____ 姓名：_____

一、選擇

- () 十七世紀時，因為臺灣優越的地理位置，而讓○○將臺灣作為亞洲東部的貿易據點，進而讓臺灣站上全球的貿易舞臺。請問：文中○○所指為何？ (A)英國人 (B)日本人 (C)荷蘭人 (D)菲律賓人。
- () 在二二八紀念公園內的臺灣博物館中，展出發現於基隆河流域貝塚遺址的文物，這些貝塚遺址是四、五千年前臺北盆地的史前居民所留下來的。請問：考古學者如何稱呼這個史前文化？ (A)長濱文化 (B)圓山文化 (C)卑南文化 (D)十三行文化。
- () 林小傑想和女友李靜靜結婚時，發現他的家族十分在意「陳林李，結生死」這項民間婚姻禁忌，深入了解後才知道同治年間，陳、李、林三姓械鬥之後，宜蘭林姓家族立下「陳、李與林姓不通婚的家規」，甚至還有「陳無情，李無義，姓林仔娶家己」等俗語，要求林姓自相通婚，讓林小傑和李靜靜感到十分為難。請問：除了異姓之間的械鬥外，清帝國時期的分類械鬥，較不可能是下列哪一原因造成的？ (A)祖籍不同 (B)國籍不同 (C)利益衝突 (D)水源爭奪。
- () 大航海時代後，荷蘭人開始進行海外拓殖，為了這個任務，還組成荷蘭聯合東印度公司，他們到東亞之後，進攻澳門，但是失敗。請問：後來荷蘭人下一個目標是何者？ (A)臺灣 (B)臺南 (C)澎湖 (D)淡水。
- () 古語有云：「不孝有三，無後為大。」以今天的觀點來看，這句話強調了家庭哪一項功能的重要性？ (A)生育 (B)教育 (C)經濟 (D)保護與照顧。
- () 荷蘭人統治原住民的方式，除了一開始以武力征服，後來大致以何種方式掌控原住民？ (A)以原住民統治原住民 (B)以漢人統治原住民 (C)以荷蘭傳教士統治原住民 (D)以武力驅離原住民。
- () 明代的海上貿易多為非法走私，有能力的商人常自組防衛武力，以對抗政府軍隊或競爭對手。這些商人也會仗著自己的優勢，掠奪經過的船隻。請問：這些商人被現代學者稱為下列何者？ (A)海商 (B)海盜 (C)海賊 (D)海軍。
- () 我國《納稅者權利保護法》中，規定國家不可對民眾「維持基本生活所需的費用」課稅。請問：其主要目的為何？ (A)由政府立法來提供人民生存保障 (B)維持個人生命的完整性 (C)讓人民有決定自我財產的機會 (D)避免受到不公平對待。
- () 僅能藉由比較得知主題物與其他相關物的相對關係，無法得知明確的位置，被稱為下列何者？ (A)相對位置 (B)比較位置 (C)絕對位置 (D)關係位置。
- () 阿敏老師教授閩南語多年，發現有些語言竟與臺灣歷史的發展有關(如附表)。請問：這些詞彙可能與臺灣被哪一個國家統治過有關？ (A)日本 (B)中國 (C)荷蘭 (D)西班牙。

閩南語	國語
紅毛土	水泥
番仔火	火柴
荷蘭豆	豌豆

- () 荷蘭人、西班牙人先後占領臺灣南部與北部，並積極進行貿易及傳教事務。荷蘭與西班牙在臺灣傳布的各為何種宗教派別？ (A)基督教、天主教 (B)伊斯蘭教、天主教 (C)天主教、基督教 (D)基督教、伊斯蘭教。
- () 每年元旦總統府會舉行升旗典禮，請問升旗時國旗最有可能飄向何方？ (A)西南方 (B)東南方 (C)東北方 (D)西北方。
- () 連續假日時，四位同學在社群中分享各自出遊時的情況，請問何者的位置表達方式和其他三個人不同？ (A)家豪：我現在人在鹿野高臺熱氣球正前方打卡 (B)淑芬：我離故宮南院還有 300 公尺，等會可以去拍照留念 (C)承恩：我現在人在南投中興新村裡面參觀臺灣省政府 (D)詠晴：我人在華納威秀 4DX 影廳的 A5 座位上準備看電影。
- () 下列臺灣主要的水庫中，哪兩者位於淡水河的流域內？ (甲)德基水庫 (乙)翡翠水庫 (丙)石門水庫 (丁)日月潭水庫 (A)甲丙 (B)甲丁 (C)乙丙 (D)丙丁。
- () 荷蘭占領臺灣時，曾在哪裡建立商業市鎮？ (A)雞籠 (B)淡水 (C)大員 (D)赤崁。
- () 附圖為世界七大洲與三大洋的分布位置。請問：何者配對完全正確？ (A)A——非洲 (B)D——亞洲 (C)E——南極洲 (D)F——大洋洲。



- () 威廉是一個從事國際貿易的英國人，他在日記上寫著：「臺灣王完全獨占砂糖、鹿皮及臺灣所有的土產，想要跟臺灣進行貿易，只能使用軍火交換。」請問：威廉最可能是什麼時代的人？ (A)十四世紀 (B)十五世紀 (C)十六世紀 (D)十七世紀。
- () 關於緯度與氣候劃分之敘述，下列何者正確？ (A)低緯度區指的是赤道而已 (B)中緯度區與熱帶氣候區相符 (C)北極與南極屬於低緯度區 (D)高緯度因太陽斜射地表，因此氣候較寒冷。
- () 下列關於霸凌的敘述，何者正確？ (A)言語上的謾罵也會構成霸凌行為 (B)只會發生在師生之間 (C)屬於偶發事件 (D)是開玩笑的行為，不會觸犯法律。
- () 臺灣因為在東亞海域的位置極為重要，故在大航海時代，有三股勢力相繼來臺發展。有關於這三股勢力與臺灣原

住民的互動，下列何者正確？ (A)葡萄牙對原住民相當友好，並協助臺灣原住民走向國際 (B)荷蘭以武力降服原住民，並以間接統治的方式統治原住民 (C)西班牙對原住民宣揚基督教，吸引許多信徒 (D)鄭氏政權與臺灣中部原住民大肚王發生衝突，最後被原住民消滅。

21. () 國小親職日的座談會上，智華對班導師說：「如果我的孩子有錯，還請老師多管教，要罵要打都沒關係。」班導師回應：「老師無權體罰學生，只有家長才有適當體罰孩子的權力。」家長與教師管教孩子的權力為何有此差別？ (A)主管機關並未授予教師教導學生的權力 (B)主管機關授權父母可以任意體罰子女 (C)親權是《民法》賦予父母的專屬權力 (D)《家庭暴力防治法》認定父母對子女的適度體罰不構成家暴。
22. () 小花在澎湖旅遊期間，挑選了幾種澎湖常見的代表性植物，並上網搜尋這些植物的介紹，做成附表。請問：下列有關澎湖群島地區氣候的敘述何者錯誤？

仙人掌	根系廣，可快速吸收水分，果實富含維生素。
天人菊	十分耐旱寒，具有防止水分散失的柔細纖毛。
馬鞍藤	分布熱帶，藉由將根深埋沙中減少水分蒸發。

- (A)這三种植物為耐旱植物，推測澎湖群島降水量較少
(B)由於澎湖群島風勢強勁，較適合深根性植物的生長
(C)澎湖群島四面環海，受海洋調節故氣候較溫和溼潤
(D)澎湖群島地形平坦造成冬季缺乏地形雨，降水量少。
23. () 新聞報導：某女校生爭取短褲權和鞋襪自由！站在人權保障的立場，關於學生爭取服儀自主的行為，下列敘述何者錯誤？ (A)《憲法》規定人民有受教育的權利，因此所有為了學習而做的行為都應被允許 (B)服儀和身體自主權有關，學生有權要求學校在規範時，考量性別平等，例如：不得強迫女生穿裙裝 (C)學生在爭取權益時，應該理性討論，統合各方意見，形成共識 (D)校方面對學生權利訴求時，應予尊重，協助學生養成健全人格。
24. () 臺北飛往東京、首爾、上海、香港、新加坡等亞太地區主要都市，平均飛行時間僅需 2.55 小時，從高雄港到東京、上海、香港、新加坡等亞太地區主要港口，平均航行時間約為 53 小時，如附圖所示。請問：上文說明臺灣何種地理特徵？ (A)臺灣海空交通航點遍及亞太地區 (B)臺灣亟需與鄰國維持友好的關係 (C)臺灣居於亞太地區海空交通樞紐位置 (D)臺灣透過貿易連結亞太地區主要都市。




25. () 班會在討論事項時，大多會進行投票表決。下列對表決的敘述，何者正確？ (A)對於表決結果不服時，可要求重新表決 (B)投票僅是參考用，不具有任何效力 (C)少數服從多數，多數尊重少數 (D)票數相同時，由導師決定結果。
26. () 以下是維揚觀賞一部紀錄片的前言——

這部影片介紹個人最早接觸的社會組織。這個社會組織是構成社會的基本單位，和個人進入社會的橋梁……

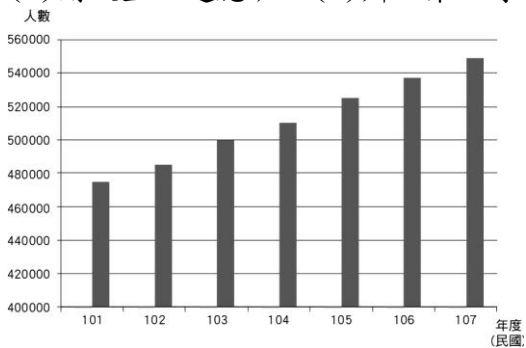
根據內容判斷，這部影片最可能以下列何者為片名？ (A)我的家庭 (B)臺灣只有一個 (C)學校是個小社會 (D)鄉里事，大家事。

27. () 某古書記載：「……為縣治往郡必由之路。舊時冬春架竹為之，上覆以土；夏秋水漲漂去，設渡以濟行人。」此情形說明臺灣何種河川特徵？ (A)主要河川東西分流 (B)乾雨季流量變化大 (C)河川的輸砂量較高 (D)河川極具航運價值。
28. () 老師請同學介紹臺灣的相對位置，下列哪一位同學的敘述錯誤？ (A)小慧：「臺灣位於東經 120~122 度、北緯 22~25 度」 (B)晶晶：「臺灣位在菲律賓北方」 (C)小靜：「臺灣位於亞洲大陸的東南方」 (D)華華：「臺灣位在日本的西南方」。
29. () 郁永河曾經於清康熙年間前來臺灣開採硫磺，之後將其在臺紀事寫成《裨海紀遊》。下列節錄自該書部分內容：「農曆四月自臺南出發，一路沿著西岸北行：十三日，渡大溪，過沙轆社，至牛罵社，社屋隘甚，值雨過，殊溼。……十四日，陰霾，大雨，不得行。……十五日、十六日皆雨，前溪新水方怒，不敢進。……十八日，又大雨……。二十七日，自南嵌越小嶺……，至八里分社，有江水為阻，即淡水也。」請問：郁永河於農曆四月(約國曆五月)期間接連遇到降雨，導致行程延後，依上文所描述的降水特性與日期紀錄判斷，郁永河所遇到降水應屬於何種類型？ (A)對流雨 (B)鋒面雨 (C)地形雨 (D)颱風雨。

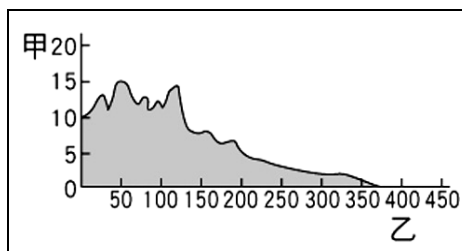
30. () 荷蘭治臺時期，在臺灣的荷蘭統治當局會將刻有荷蘭聯合東印度公司標幟的藤杖，授予原住民部落中有地位的人士，這些人每年集會一次，在會中宣誓效忠荷蘭，並報告各轄區內的情形。請問：上述「有地位的人士」應是指下列何者？ (A)長老 (B)傳教士 (C)巫師 (D)漢人通事。
31. () 田美的媽媽再婚以後，繼父經常毆打田美與媽媽，田美與媽媽為了不讓自己受到傷害，可以向下列何者聲請保護令？ (A)里長 (B)市長 (C)地方法院 (D)立法院。
32. () 當我們遭遇病痛或挫折時，家庭可以發揮下列哪種功能，使我們得到慰藉與鼓勵？ (A)生育 (B)經濟 (C)教育 (D)保護與照顧。
33. () 根據記載，雍正年間，有平埔族接受政府「賜姓改名」，使用漢式的姓名，族譜亦隨著所得的漢姓而溯源到漢人的「祖先」。然而接受「賜姓改名」對平埔族群的婚嫁繼承等習俗造成很大的衝擊，政府往往將整個社都賜與同樣的姓氏，但漢人社會卻有「同姓不婚」的習俗，如此一來同社的男女不得通婚，必須在「社」之外尋求婚配對象，於是在不斷與異族通婚的過程當中，平埔族的血統也漸漸被稀釋，原本的平埔族社會結構逐漸瓦解。請問：對於以上短文的解說，下列何者正確？ (A)平埔族群在清帝國時期被分類為「生番」 (B)所謂的「社」是漢人對於原住民「城市」的稱呼 (C)和平埔族群通婚的異族中，以「漢人」人數最多 (D)清廷推行漢化政策，所以現在的平埔族群已經消失。
34. () 蘇花公路為世界著名的景觀公路，北起宜蘭縣蘇澳鎮，南迄花蓮縣花蓮市。請問：在蘇花公路上最常看見的是下列哪一種海岸地形？




35. () 小明跟同學們正計畫要進行為時一週的東臺灣鐵馬行，他們打算從臺北出發，一路從宜蘭玩到臺東，想要一次飽嘗東臺灣的各樣美麗勝景。請問：若按照小明與同學計畫的路線前進，他們不可能經過下列哪一個地方？ (A)花東縱谷平原 (B)蘭陽平原 (C)苗栗丘陵 (D)海岸山脈。
36. () 班上同學在上歷史課前，針對「歷史是什麼」這個議題進行了一番討論。請問：以下哪位同學的敘述是正確的？ (A)只有文字紀錄才能當作正式的歷史紀錄 (B)人類社會的一切事件，都會變成歷史 (C)研讀歷史書籍可以了解歷史事實，但無助於我們了解人類的生活 (D)歷史通常是指未來將要發生的事情。
37. () 為推動家庭平權，政府修訂《民法》相關條文，下列關於《民法》修訂後的家庭權利義務敘述何者正確？ (A)婚後妻子須冠夫姓 (B)子女姓氏由父親決定 (C)夫妻婚後財產由丈夫支配 (D)子女皆有扶養年老父母的義務。
38. () 附圖為我國行政院性別平等會歷年來外籍配偶人數統計圖，根據此圖內容判斷我國可推出何項政策因應此趨勢？ (A)開設生活適應班 (B)辦理第二專長就業輔導 (C)發放育兒津貼 (D)增設老人日托中心。



39. () 電影「幸福綠皮書(Green Book)」獲得 91 屆奧斯卡金像獎最佳影片、最佳男配角及最佳原著劇本獎，參與投資的阿里影業集團董事會主席馬雲表示，這部電影題材意義深刻，影片裡那句「我們不是靠拳頭去贏得這個世界，而是尊嚴。」的對白，給自己帶來很大反思。請問：該句話強調下列何者的重要？ (A)凡事都應訴諸武力 (B)自我展現是每個人追求的目標 (C)要得到別人尊重就是聲音比別人大 (D)每個人的人性尊嚴都應受到他人的尊重及維護。
40. () (甲)廟宇為臺灣移民社會的信仰與活動中心 (乙)開漳聖王是早期臺灣漢人共同信仰的神明 (丙)臺灣的宗族組織可分為唐山祖與開臺祖兩種類型 (丁)三山國王為泉州人供奉的神明。以上有關清帝國時期臺灣社會組織發展之敘述，哪些是正確的？ (A)甲乙 (B)甲丙 (C)乙丙 (D)丙丁。
41. () 此地海岸線平直，沿岸平原寬廣，海水較淺，多沙洲地形。上文是描述臺灣哪一個地區的海岸？ (A)北部 (B)西部 (C)恆春半島 (D)東部。
42. () 附圖為地形剖面圖。圖中垂直軸「甲」代表什麼？ (A)高度 (B)距離 (C)位置 (D)方向。



43. () 臺灣癌症基金會公布一份調查，成人的不良習慣，如抽菸、嚼檳榔等，常出現在受訪的青少年身上，近六成青少年的家人有抽菸，近三成有嚼食檳榔的習慣，甚至一成受訪青少年自承已天天抽菸。上述情形最足以反映下列何種家庭變遷？ (A)飲食習慣日趨西化 (B)家庭功能有待補強 (C)家庭型態日趨多元 (D)親屬感情日漸淡薄。
44. () 每年春天的會議中，部落長老們會對統治者宣誓效忠，接過象徵權力的權杖，獲得對部落的司法權；相對於此，統治者則透過會議，表現自己對於眾部落的行政管轄權。請問：這段敘述與下列何者最可能是同一個時期？ (A)荷蘭在臺灣有效統治原住民族 (B)清帝國在臺灣東部採取劃界封山 (C)日本在臺灣武力鎮壓原住民族 (D)政府在臺灣鼓勵原住民族母語。
45. () 詩涵是位考古學家，前往南投縣考古，發現一顆巨石上刻有泰雅族傳說故事的文字，以此認定南投為泰雅族的發源地。請問關於詩涵所提出的論點，下列分析何者正確？ (A)論點正確，因現今泰雅族多分布於此 (B)論點正確，與泰雅族口耳相傳的傳說故事相符 (C)論點錯誤，早期泰雅族並無使用文字紀錄傳說 (D)論點錯誤，泰雅族傳說故事均與巨石無關。
46. () 新聞報導：「臺東縣達仁鄉阿朗壹部落於西元2019年2月傳出，巡守隊人員看到近乎絕跡的臺灣雲豹。阿朗壹部落召開部落會議，決議封山保護其傳統領域，自主調查雲豹蹤跡，禁絕外人入內狩獵，並要求林務局停止伐木等干擾。林務局回應，完全尊重部落決定。」上述新聞呈現出哪些概念？(甲)部落對環境永續的重視 (乙)政府尊重原住民部落的事務 (丙)原住民爭取社會福利 (丁)部落設備的重建與更新 (A)甲乙 (B)丙丁 (C)甲丙 (D)乙丁。
47. () 「靜靜的平日，卑南溪是瘦瘦的河；暴雨以後，如熔熔的奔火。」這首詩是節錄自詩人夏虹所寫的〈卑南溪〉。請問：詩中所描述的是臺灣河川的哪一項特徵？ (A)河川普遍短小 (B)流量變化大 (C)河川東西分流 (D)河川輸砂量高。
48. () 明太祖曾下令禁止中國東南沿海的人民到海上活動，並將澎湖居民全部遣返福建。關於此項政策的敘述，下列何者正確？ (A)實施的目的在於防範荷蘭人侵臺之舉動 (B)人民迫於生計，仍私自出海捕魚、走私貿易 (C)此政策為「鎖國政策」 (D)澎湖居民遷徙至福建一帶，造成澎湖的沒落。
49. () 每到颱風季，決定是否放颱風假一直是各地縣市長難以抉擇的課題，根據我國的相關規定，發生各種天災時，只要符合相關標準的參考基準值，就可以宣布停班停課。附圖為某次颱風全臺各縣市停班停課的指標。依據這張圖表，下列敘述何者正確？
 (甲)風、雨的大小是縣市首長決定放颱風假的唯一標準
 (乙)颱風的路徑無法完全預測，會受到多種因素的影響
 (丙)風、雨未達標準，不代表颱風不會對當地造成災害
 (丁)氣象局的風雨預報誤差過大，不適合做為放假依據
 (A)甲乙 (B)乙丙 (C)丙丁 (D)甲丁。



50. () 行政院主計總處曾做過某年度社會發展趨勢調查報告，結果如下表所示——

家庭類型	百分比
夫婦及未婚子女	51.15
夫婦	8.34
單身戶	11.49
祖父母及未婚孫子女	0.64
父母及已婚子女	2.16
祖父母、父母及未婚子女	14.56
父(或婦)及未婚子女	7.72
其他類型家庭	3.94

下列何者最能說明此表所顯示的社會概況？ (A)單親家庭比例日漸增加 (B)折衷家庭與小家庭居多 (C)新移民來臺造成家庭衝擊 (D)隔代教養問題日趨嚴重。

51. () 據說飛魚是天神給達悟族的禮物，達悟族祖先曾經混吃不同類的魚而生病，後來好心的黑鰭飛魚教導達悟族如何招、捕、辨認、煮食各類飛魚。種種因素促使達悟族對待飛魚特別心存戒慎，以各種儀式配合漁撈、煮食活動以及曬曝過程，以保一切安全無虞。其中飛魚又分為老人魚、男人魚以及女人魚，故一個達悟族男子在捕魚時，必須捕撈到不同種的魚，以供應家裡的男女老少享用。間接抑制了過量捕殺單一魚類的危機，也兼顧了生態保育的平衡。上文中達悟族人捕飛魚的考量，顯示出下列哪一項部落的重要性？ (A)語言文化傳承，形塑族人對部落的

認同感 (B)生產分配中心，重視生態平衡與共享特質 (C)基本政治組織，依各族文化形成政治組織 (D)傳統信仰重心，以凝聚部落族人的向心力。

52. () 臺灣河川的長度都不長，超過 100 公里的河川只有六條，此一特徵的形成與臺灣哪一項自然特性關係最密切？ (A) 島窄山多 (B) 位於板塊接觸地帶 (C) 土壤母岩質地鬆軟 (D) 降雨季節分布不均。
53. () 西元 2010 年是此水圳建圳 270 周年，為緬懷先賢郭錫瑠先生歷經艱辛引水灌溉廣大農田，對早期農業開發有著貢獻，郭錫瑠先生文教基金會特舉辦紀念開圳 270 年徵文活動。請問：關於此水圳的敘述，下列何者錯誤？ (A) 興建原因是種植水稻需要豐富的水源灌溉 (B) 興建完成後灌溉面積廣大 (C) 為流經臺北市和新北市的水圳 (D) 為清代全臺灌溉面積最大的水利設施。
54. () 新冠肺炎(COVUD-19)肆虐，小忠戴上粉紅色口罩的照片，手比愛心，在社群軟體上發文表示，「顏色沒有性別之分，我們不應該用顏色來區別彼此，無論口罩顏色是什麼，只要正確配戴，能夠保護我們的，就會是最美、最合適的口罩。」顯示防疫不容易，人民必須互相扶持，才能保護自己也保護身邊的人。依據四個檢視公不公平的原則來判斷，上述小忠的行為最符合其中的哪一項？ (A) 責任承擔 (B) 貢獻肯定 (C) 利益分配 (D) 需求滿足。
55. () 學生自治會議可解決大家共同的問題。關於會議進行的程序，下列哪一個步驟不正確？ (A) 先由學生進行提案 (B) 須有人附署此一提案 (C) 經由學生一段時間的討論 (D) 最後表決時導師必須加入。
56. () 某篇網路文章寫道：「你可以花錢買一間房子，但無法買到真正的家。」上述說明何者是構成一個家的主要因素？ (A) 裝潢富麗堂皇 (B) 祖傳萬貫家財 (C) 個人獨善其身 (D) 家人相互扶持。
57. () 人權觀察組織 HRW 推出《2021 世界人權報告》，針對世界各國的人權狀況進行年度回顧：在中國的部分，主要聚焦過去一年香港、新疆等地的人權問題，以及新冠肺炎(COVID-19)疫情期間中國各地發生的各類噤聲和打壓事件，認為中國人權狀況「惡化」；在美國的部分，關注黑人命也是命運動引發的抗議示威，顯示對少數族裔權利的保護不力，以及政府對新冠肺炎疫情的處置不當等問題進行分析，認為美國人權有「重大缺失」；報告中也列出亞、非、拉美、歐、澳等世界更多國家不同的人權事件，並有相關的綜述評估。針對上述此份報告，可做出下列何項結論？ (A) 各國均積極改善人性尊嚴的維護 (B) 人權的保障仍有賴世界付出行動 (C) 中美現況即等同於其他國家問題 (D) 各國人性尊嚴已獲得充分的維護。
58. () 達悟族漁團組織是因傳統捕魚文化而發展出來的部落組織，每年飛魚汛期間，由於個人或家族捕魚相當費力而且漁獲量較少，所以由部落中的族人結合成若干小組，一起出海捕魚，並將漁獲均分。這些漁團組織是任務性質，飛魚汛期結束就解散，彼此間並無從屬關係，只有尊敬長者的觀念。下列關於達悟族漁團組織的敘述，何者錯誤？ (A) 讓族人間可以各司其職相互合作 (B) 並非經常性設立，故不屬於部落文化的一部分 (C) 延續了部落共工、共享的精神 (D) 拉近了部落間的情感。
59. () 下列何者對社會中破除「性別刻板印象」有正確的認知？ (A) 男性的智商在統計上高於女性許多 (B) 男性比女性較適合擔任公司高階主管的職位 (C) 女性相較於男性，較適合擔任家中幼兒的主要照顧者 (D) 男性與女性僅僅在生理條件上有所差異，其餘並無不同。
60. () 瑞成參加學校校外教學到「十三行博物館」參觀，他可能在博物館裡學到哪些知識？ (A) 十三行文化是臺灣北部重要的新石器文化遺址 (B) 十三行文化已具有煉鐵技術 (C) 十三行文化人類生活自給自足，未跟外界接觸 (D) 十三行文化住民以農業維生，已完全放棄漁獵。

答案: 1. C 2. B 3. B 4. C 5. A 6. A 7. A 8. A 9. A 10. C 11. A 12. A 13. D 14. C 15. D 16. D 17. D 18. D 19. A 20. B 21. C 22. C 23. A 24. C 25. C 26. A 27. B 28. A 29. B 30. A 31. C 32. D 33. C 34. B 35. C 36. B 37. D 38. A 39. D 40. B 41. B 42. A 43. B 44. A 45. C 46. A 47. B 48. B 49. B 50. B 51. B 52. A 53. D 54. D 55. D 56. D 57. B 58. B 59. D 60. B