

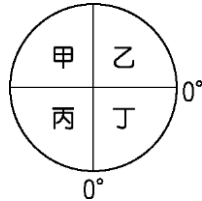
# 屏東縣立大同高中 112-1 國中部 9 年級社會科補考試題(題庫)

★請於電腦卡作答

\_\_年\_\_班 座號：\_\_ 姓名：\_\_

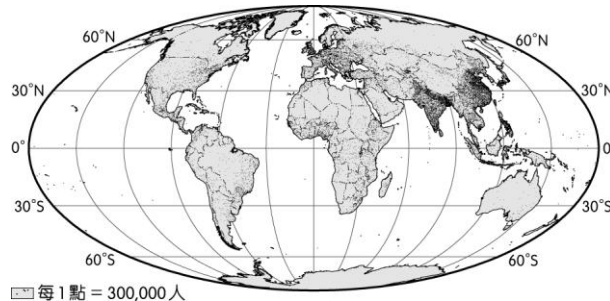
## 一、單題：

- ( ) 來自臺灣的長跑選手在智利參加越野馬拉松賽，面對熱帶沙漠這種艱困的環境卻毫不氣餒，奮勇前進，果然取得了優異的成績，也為臺灣爭光。請問：這名選手參加比賽的地點最可能位於智利何處？ (A)北部 (B)中部 (C)南部 (D)無法判斷。
- ( ) 下列哪一個地區的海冰因地球升溫而融化，該區蘊藏的石油、礦產，以及重要航線經過，成為許多國家爭相競逐的新戰場？ (A)南極洲 (B)北極海 (C)大洋洲 (D)大西洋。
- ( ) 全球化的過程中，世界各地的交通往來愈趨頻繁，反映出地理位置的重要性。下列哪一條航線的最短距離為飛越北極上空，因此周邊國家的經濟與戰略地位愈趨重要？ (A)北美洲—澳洲 (B)南美洲—亞洲 (C)澳洲—南極洲 (D)北美洲—亞洲。
- ( ) 美國太空總署所發射的太空梭預計於明日清晨降落於美國本土亞利桑那州的沙漠，在太空梭上的全球定位圖中，該地區的地理位置應位於附圖中何處？



(A)甲 (B)乙 (C)丙 (D)丁。

- ( ) 大洋洲分散於世界三分之一面積的海洋中，兩萬多的島嶼如珍珠般散落各地，共分為三大島群，這些島群主要的分界線中不包括下列何者？ (A)本初經線 (B)國際換日線 (C)赤道 (D)回歸線。
- ( ) 附圖為世界人口分布圖，歐洲為全世界人口分布最為平均的地區。請問：這種特色和下列何者的關係最大？



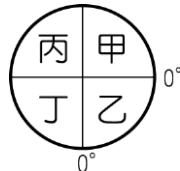
(A)經濟較為發達 (B)工業革命發源地 (C)自然環境優越 (D)海外殖民地多。

- ( ) 近年來，中國與俄羅斯共同合作「泰納線」的管線工程，如附圖，希望透過運送某種資源，以提供中國的工業發展。上述的「某種資源」最可能為下列何者？



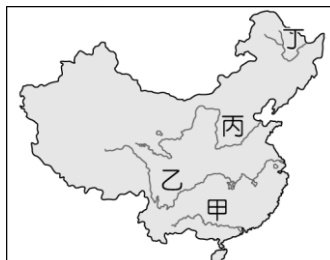
(A)煤礦 (B)鐵礦 (C)石油 (D)電力。

- ( ) 澳洲為可愛的無尾熊故鄉，紐西蘭則有「活的地形教室」之稱，這兩個地區主要位於附圖中的何處？



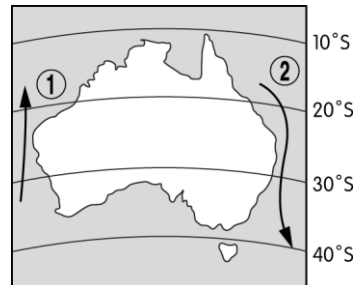
(A)甲 (B)乙 (C)丙 (D)丁。

- ( ) 東歐各國在共產制度解體後，紛紛加入歐盟，而這些國家的何項區位條件較西歐國家具有優勢，因此吸引廠商前往投資？ (A)技術進步 (B)勞工優秀 (C)原料豐富 (D)工資低廉。
- ( ) 中南美洲的天然資源豐富，因此近年來經濟發展頗快。請問：下列哪一國以南的地區皆為中南美洲？ (A)加拿大 (B)美國 (C)巴西 (D)巴拿馬。
- ( ) 2016年中國因為極端氣候的暴雨肆虐，導致境內經濟最發達的河川沿岸地區出現嚴重的水患，近五千萬人受到影響，經濟損失約臺幣五千億。請問：上述造成災害的河川最可能位於附圖中何處？



(A)甲 (B)乙 (C)丙 (D)丁。

12. ( ) 水果報報：「111年10月安地斯山脈動物保護區90%的範圍受到森林野火蔓延影響，造成至少15頭動物死亡。」秘魯在今年已經發生333起森林野火，嚴重破壞當地生態環境，也威脅生活在安地斯山脈高海拔草原上的何種動物？  
 (A)駱駝 (B)犛牛 (C)駱馬 (D)北極熊。
13. ( ) 俄羅斯是世界面積最大的國家，國土跨越11個時區，依據地理位置判斷，下列哪個地形區的民眾較快見到2023年的第一道曙光？ (A)歐俄平原 (B)西伯利亞高原 (C)西伯利亞山地 (D)西伯利亞平原。
14. ( ) 臺灣探險隊在歷經千辛萬苦抵達南極點後，欲在南極點上面向臺灣，向國人證明他們做到了。此時應該朝哪一個方向前進才會找到臺灣？ (A)東北方 (B)正北方 (C)西北方 (D)正南方。
15. ( ) 美國提升與大洋洲的經濟及外交合作，加強軍事演習，巡邏艦在太平洋與盟國進行演練，結束後會抵達美國哪一個軍事島嶼？ (A)帛琉 (B)斐濟 (C)關島 (D)大溪地。
16. ( ) 洋流的性質對於沿海地區的氣候影響相當大，由附圖澳洲的洋流分布判斷其性質，附表中何項最為正確？



	甲	乙	丙	丁
①洋流	暖流	涼流	涼流	暖流
②洋流	寒流	寒流	暖流	涼流

- (A)甲 (B)乙 (C)丙 (D)丁。
17. ( ) 烏克蘭過去作為共產國家，受俄羅斯影響深遠，並擁有全世界第二大的東正教人口，東正教一般都將聖誕節訂在1月7日慶祝，但在烏俄戰爭爆發之後，烏克蘭人急於與俄羅斯在政治、宗教、文化等方面脫鉤，選擇改在12月25日度過聖誕節。下列國家何者最有可能同原先的烏克蘭在1月7日過聖誕節？ (A)荷蘭 (B)挪威 (C)西班牙 (D)羅馬尼亞。
18. ( ) 大洋洲中的薩摩亞2011年12月30日不見了，因為該國為了和鄰近的貿易夥伴國家更密切合作，於是決定在2011年12月29日更換時區，直接跳到2011年12月31日。上述「鄰近的貿易夥伴國家」是指下列何者？ (A)中國、日本 (B)英國、法國 (C)美國、加拿大 (D)澳洲、紐西蘭。
19. ( ) 歐洲人對飲酒相當講究，不同酒品各有特殊的飲用方式。其中高酒精濃度「伏特加帶」多與氣候寒冷居民喜好，用以暖身；「葡萄酒帶」以溫帶地中海型氣候區為主；「啤酒帶」則以溫帶氣候的大麥、啤酒花適種區有關。根據歐洲氣候類型分布判斷，附圖中的甲、乙、丙依序為何？



- (A)甲為葡萄酒帶、乙為伏特加帶、丙為啤酒帶 (B)甲為葡萄酒帶、乙為啤酒帶、丙為伏特加帶 (C)甲為伏特加帶、乙為啤酒帶、丙為葡萄酒帶 (D)甲為伏特加帶、乙為葡萄酒帶、丙為啤酒帶。
20. ( ) 美國境內各級產業的發展相當均衡，形成強大的經濟實力。請問：該國境內最早發展工業的地區為下列何者？  
 (A)中部大平原 (B)西部山區 (C)東北地區 (D)墨西哥灣。
21. ( ) 附圖是世界人口分布圖，歐洲人口分布有何特色？



- (A)平均 (B)稀疏 (C)西多東少 (D)北多南少。
22. ( ) 北美洲的西部濱臨太平洋，若沿著西岸由南向北前進，所經過的氣候類型不包括下列何者？ (A)溫帶大陸性氣候 (B)溫帶海洋性氣候 (C)溫帶地中海型氣候 (D)寒帶氣候。
23. ( ) 這群人居住在地中海東岸，自認是上帝的選民。請問：關於上述「這群人」的敘述，下列何者錯誤？ (A)是猶太人 (B)信奉伊斯蘭教 (C)宗教為一神信仰 (D)居住在巴勒斯坦地區。
24. ( ) 亞歷山大在其轄地之內以政治及軍事的力量推行希臘文化，使得此後地中海東岸一帶呈現了何種風格？ (A)希臘城邦高高在上，地位凌駕其他各邦之上 (B)種族制度趨於嚴密，加深民族之間的對立 (C)各文明之間首次出現共同的文化基礎與文字 (D)各地區競相學習希臘人的城邦政治型態，不再出現領土跨洲的帝國。
25. ( ) 西班牙和葡萄牙在大航海時代是競爭對手，請問：這兩個國家最大的差別在何處？ (A)信仰的宗教不同 (B)探險

活動有無獲得王室資助 (C)前往探險的航行方向不同 (D)探險的目的不同。

26. ( ) 舉世聞名的「泰姬瑪哈陵」，是蒙兀兒帝國第五代皇帝為了紀念其妻所建的陵墓，聯合國教科文組織在 1983 年將這棟雍容華麗的建築列為世界遺產。如果想要參觀此世界遺產應前往何處？ (A)印度 (B)越南 (C)印尼 (D)菲律賓。
27. ( ) 珍妮是 19 世紀的工廠女工，她受僱於一家紡紗廠，平常需要三班輪班，在工廠裡可以看到許多年紀尚小的孩童用較低薪資當童工，工廠宿舍擁擠不堪、通風不良，導致許多女工都生病了，工廠伙食也少的可憐，沒過多久珍妮也病倒了。請問：為改善上述這些問題出現何種思想？ (A)社會主義 (B)啟蒙思想 (C)科學革命 (D)專制王權。
28. ( ) 關於下列兩段歷史資料，何者解讀正確？

資料一：上帝在《聖經》中所想啟示人類的是如何上天堂，而不是天體如何運行。

資料二：主張「太陽為宇宙中心」乃是信仰上的錯誤、異端的觀點，因為它與《聖經》所示相悖。

- (A)資料一、二均主張「太陽為宇宙中心」是正確的信仰 (B)資料一、二均否定「太陽中心說」的主張 (C)這兩段資料的時代背景應是 16~17 世紀的科學革命 (D)資料二中的「太陽為宇宙中心」的論點最先是伽利略提出的。
29. ( ) 澳洲被英國國家占為殖民地後，當地原住民面對的問題不包括下列何者？ (A)須以狩獵採集為生 (B)傳染病的威脅 (C)傳統文化無法保存 (D)土地被掠奪開墾。
30. ( ) 附圖是老師上課時提到的某教派特色，根據內容判斷，老師說明的是下列哪一教派？

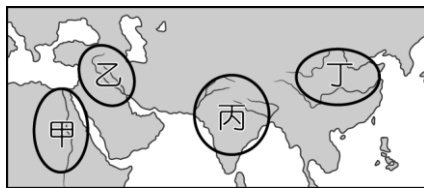


- (A)路德教派 (B)喀爾文教派 (C)英國國教派 (D)天主教耶穌會。
31. ( ) 下列是某經濟學家提出的經濟理論，這應該是何人所提出？

◎自由市場是由一隻「看不見的手」所操控，而將引導市場的價格機制進行調控，反對政府介入管制或壟斷。

◎政府只須維持一個良好的經濟環境，放任個人依理性自利去追求自己的利益，自然也會造成國家的富強。

- (A)洛克 (B)盧梭 (C)亞當斯密 (D)孟德斯鳩。
32. ( ) 美美對埃及歷史特別有興趣，她研究發現古埃及國王具有哪些特色？(甲)稱為「法老」(乙)是尼羅河神之子(丙)金字塔為其陵墓(丁)代表循環不息的再生力量 (A)甲丁 (B)甲丙 (C)甲乙 (D)乙丙。
33. ( ) 從摩亨佐達羅出土的遺跡可知，其城市規畫完善。請問：這座遺跡位於附圖中何處？




- (A)甲 (B)乙 (C)丙 (D)丁。
34. ( ) 2022 年卡達世足賽時，某國球員的球衣設計，是為致敬古老的阿茲提克文明，融入當時的民族藝術，球衣以白色為底，搭配暗紅色的圖騰，球衣的後內領還綴有羽蛇神的蛇身圖案。上述國家最可能是下列何者？ (A)巴西 (B)古巴 (C)秘魯 (D)墨西哥。
35. ( ) 《後漢書·西域傳》有一段對大秦政治的敘述如下：「其王日游一宮，聽事五日而後遍。常使一人持囊隨王車，人有言事者，即以書投囊中，……。各有官曹文書。置三十六將，皆會議國事。其王無有常人，皆簡立賢者。」(翻譯：國王一日到一座宮殿，五日就可以輪完一遍。身旁有一個使者手持袋子，有意見可以投書。國王的人選並沒有固定，會選擇有賢能的人擔任。另外有其他的官員，會一起討論國事。)請問：上文描述的應該是羅馬政治上的哪一個時期？ (A)城邦時期 (B)王政時期 (C)共和時期 (D)帝國時期。
36. ( ) 附圖中的城市為 15 世紀文藝復興重鎮。請問：這些城市的興起和下列何者最有關係？



- (A)周遭大量考古遺址挖掘帶動城市興起 (B)大量藝術家聚集於此 (C)位於東西貿易要道 (D)為印刷品製造中心帶動經濟成長。
37. ( ) 小丸子把東羅馬帝國的歷史作了一番整理，記錄在筆記簿上，下列哪一段記錯了？ (A)建都於君士坦丁堡 (B)信奉希臘正教 (C)被日耳曼民族所消滅 (D)實施「政教合一」。
38. ( ) 現在的西班牙人大部分信仰天主教，但在西元 8、9 世紀時當地曾受何種宗教的信仰者所統治？ (A)希臘正教 (B)猶太教 (C)伊斯蘭教 (D)東正教。

39. ( ) 附圖為某家廠商召開年度會議時的情境，根據內容判斷，下列何者與經營階層的策略最為相符？



(A) 消費者因商品價格上漲而減少購買量 (B) 消費者因商品價格調降而減少購買量 (C) 生產者因產品價格上漲而減少生產量 (D) 生產者因產品價格降低而減少生產量。

40. ( ) 堂宇在期刊上看到以下關於波音客機生產模式的介紹，根據內容判斷，下列說明何者正確？

**飛遍世界——波音客機的生產過程**

中央機身及水平尾翼由義大利製造，前後機身由美國製造，主機翼則由日本負責。分別來自歐、亞、美各地的零件最終在美國被組裝成一臺完整的客機。

(A) 在日本生產主機翼的機會成本最高 (B) 全部零件改由美國製造可降低成本 (C) 波音客機的製造是國際分工的體現 (D) 此生產模式會減緩國際貿易的發展。

41. ( ) 在國際村的時代，許多民眾會選擇至國外求職，佑茵應徵了四份國外的工作，如附表所示，在不考慮其他因素的情況下，單以每個月扣除交通費後可獲得的生活費來衡量，佑茵選擇至乙國就職的機會成本應為下列何者？

	甲國	乙國	丙國	丁國
薪水(美元)	1,700	1,900	1,800	2,200
交通費用(美元)	400	500	200	700

(A) 1,300 美元 (B) 1,400 美元 (C) 1,500 美元 (D) 1,600 美元。

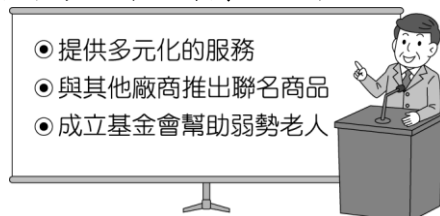
42. ( ) 隨著交通運輸革新及各國經濟合作關係愈加緊密，國際貿易已成為現代社會不可缺少的一環，近年來，我國也開放他國商品輸入市場，此舉對我國消費者之主要利益應為下列何者？ (A) 價格降低並滿足多元需求 (B) 增加各類產品之生產成本 (C) 促使產業轉型以拓展客源 (D) 能以高價買到低品質產品。

43. ( ) 珮岑在路上巧遇許久不見的國中同學芳嫻，根據附圖中兩人的對話判斷，下列敘述何者有誤？



(A) 芳嫻為失業者 (B) 珮岑為受僱者 (C) 兩人皆為勞動力 (D) 兩人皆從事有酬勞動。

44. ( ) 阿沁參加某成功商家老闆舉辦的座談會，附圖為老闆演講簡報的部分內容。請問：此頁簡報的標題應為下列何者？



(A) 市場競爭程度 (B) 市場競爭方式 (C) 政府保護消費者的做法 (D) 廠商從事生產的目的。

45. ( ) 玉彥以下面的新聞報導說明誘因如何影響人的選擇行為，下列何者正確？

**社會焦點**

詐騙集團利用高薪誘騙國內民眾前往柬埔寨工作，許多人因急需用錢而輕易上當，到當地後遭到毆打、拘禁、限制人身自由，甚至最後不幸客死異鄉。

(A) 民眾前往柬埔寨工作是受到正向誘因影響 (B) 非金錢誘因是此類詐騙事件發生的主因 (C) 看到新聞增加警覺心是正向誘因的引導 (D) 高薪通常是詐騙事件中重要的負向誘因。

46. ( ) 學校規定學生上國中後，每學期必須在校內或校外擔任志工，達到一定的志工服務時數。身為國中生的我們應如何看待「志工服務時數」？ (A) 可親身體會受僱者的感受 (B) 可獲得實質的報酬 (C) 對升學有幫助才做 (D) 可讓社會生活更多元。

47. ( ) 以下為俊珣與外國友人聊天的內容，請由內容判斷，下列何者可以解釋我國防疫措施的目的？

**聊天室**

歐文：我國疫情突然爆發，口罩、快篩劑和止痛藥比之前貴了 20 倍，我們一般人根本買不起。

俊珣：我國政府是以公權力管制，每個國民都能以低價買到防疫物品，不用擔心被商家囤貨或者炒高價錢。

(A) 破壞市場價格 (B) 增加國庫收入 (C) 降低生產成本 (D) 公平分配資源。

48. ( ) 公民課本週的主題為「認識貨幣」，回家作業是蒐集與貨幣相關的新聞，依橙透過網路找到以下的資料。根據內容判斷，下列敘述何者正確？

50 元偽幣竄市面，小吃攤受害！小吃攤生意繁忙，業者無暇分辨 50 元硬幣真假，時常到收攤盤點時才發現收到偽幣

。若不慎將偽幣找給客人，恐讓更多人受害。偽造、變造新臺幣將依《妨害國幣懲治條例》第3條規定，處5年以上有期徒刑，得併科新臺幣5百萬元以下罰金；因而擾亂金融，情節重大者，處無期徒刑或10年以上有期徒刑，得併科新臺幣1,000萬元以下罰金。

(A)偽幣是商品貨幣 (B)新臺幣由臺灣銀行發行 (C)偽造新臺幣會遭刑罰處罰 (D)偽幣可在市面上流通。

49. ( ) 公民老師利用以下新聞時事，請同學討論相關議題，以增加同學的判斷能力。文中[甲]應為下列哪一部法律？

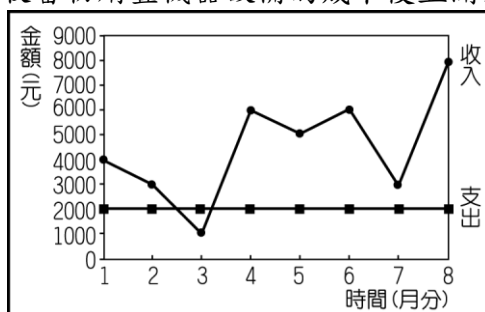
**員工遲到 10 分鐘扣 100 元，合理嗎？**

依照[甲]規定：「工資應全額直接給付勞工。」、「雇主不得預扣勞工工資作為違約金或賠償費用。」老闆不可以因為員工遲到早退就扣薪水，但老闆可以針對員工遲到早退「未提供勞務」的時段「不計薪」，但不能「扣薪」。假設員工月薪是3萬元，日薪是1千元，除以每日8小時工時，時薪為125元，若員工遲到1小時，老闆只能不付1小時時薪。

(A)《勞動基準法》 (B)《勞工職業災害保險及保護法》 (C)《性別工作平等法》 (D)《就業保險法》。

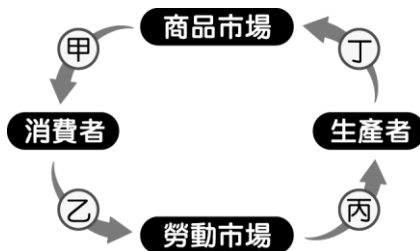
50. ( ) 分工生產的模式已逐漸成為現代社會的主流，下列何者為其主要優點？ (A)群居的生活形態變得日趨簡單安定 (B)頻繁交易有助於促進個人自給自足 (C)可用較低成本換取較高品質的產品 (D)個人所需的日常物品隨之逐漸減少。

51. ( ) 林媽媽年初準備經營小吃店時，以1萬元購買機器設備，附圖是她營業8個月來（每月底結算當月）收入與支出的情形。請問：若不考慮其他因素，林媽媽回收當初購置機器設備的成本後並開始有盈餘，應是從幾月分開始？



(A)5月 (B)6月 (C)7月 (D)8月。

52. ( ) 郁雄上臺報告時，使用附圖解說商品市場與勞動市場，他舉了一家運動廠商生產背包的例子，下列敘述何者完全正確？



(A)甲：消費者向廠商應徵工作，提供勞力 (B)乙：廠商生產背包上架，賺取銷貨收入 (C)丙：廠商需要人力，僱用員工生產背包 (D)丁：消費者依照喜好，購買喜歡的背包。

53. ( ) 建宏從事科技業，因受到新冠病毒疫情的影響被公司裁員。面試好幾家公司都未獲錄取，為了維持基本生活，他去申請失業給付，希望能暫時度過難關。根據上述內容判斷，下列何者正確？ (A)失業給付是依據《勞動基準法》發放 (B)勞工自願離職可申請失業給付 (C)失業給付一般可請領最長6個月 (D)建宏不屬於政府定義的勞動者。

54. ( ) 妙瑤在商業週刊上閱讀到下文，文中的行銷手法是運用何種因素以增加消費者的消費行為？

**商業行銷新知**

網路使用者可能會發現一件事，當利用電腦或是手機搜尋過某樣商品後，之後瀏覽網頁時，頁面就會出現類似的商品廣告，這是因為許多網站利用追蹤技術，蒐集使用者的資訊，分析得知使用者感興趣的品項，因而投放相關的廣告，以提高被購買的機會。

(A)提升額外收入 (B)培養預期心理 (C)降低商品價格 (D)迎合個人偏好。

55. ( ) 乃倫看到以下的網路報導，針對畫雙線處推斷，下列何者正確？

**國際新聞**

為避免疫情擴散，上海大規模封城，糧食、生活物資嚴重短缺。一名被外派到當地工作的臺灣人表示，(甲)1小包衛生紙換算成新臺幣要價100元，(乙)蔬菜和肉類漲了數十倍，很多家庭一天只吃一餐，其他時間只好吸(丙)空氣填飽肚子，而之前常喝的(丁)1瓶600 c.c.的礦泉水，更是有錢也買不到。

(A)甲屬於自由財 (B)乙屬於自由財 (C)丙屬於經濟財 (D)丁具有稀少性。

56. ( ) 紫紫在社群媒體上分享最近的生活經驗，關於以下內容中的消費爭議事件，下列敘述何者正確？

我上次在夜市玩遊戲，被攤商用話術誘騙，多花了3,000多元，朋友說這屬於消費者和廠商間的爭議，建議我打電話去地方上的主管單位申訴，結果發現不只有我受害，還有很多人發生同樣情形，那位攤商最後被依法重罰。

(A)攤商間惡性競爭損及消費者權益 (B)文中主管單位是指消費者保護處 (C)適用法律應為《消費者保護法》 (D)顧客在消費後可享有7天猶豫期。

57. ( ) 國豪的媽媽在旅行社上班，她在替旅客規畫國外旅遊時會遇到如下的情況。請問：R1至R4的變化應為下列何者？

匯率會影響用新臺幣訂價的遊程成本，估價與訂價時匯率為R1、旅客購買遊程時的匯率為R2、旅行社出團結匯時匯率為R3、結匯支付國外團費時匯率為R4。

(A)規律下降 (B)固定不變 (C)規律上升 (D)隨時變動。

58. ( ) 阿萬使用信用卡透支消費，收入無法全額還款，遭發卡銀行收取高額利息而背負卡債，朋友們稱他為卡奴。根據上述，下列何者並非造成阿萬成為「卡奴」的原因？ (A)還款能力不夠 (B)信用額度太低 (C)遭收取高額的利息 (D)過度的消費。

59. ( ) 由附圖可知，老公所考量的是下列哪一種生產課題？



(A) 生產什麼 (B) 如何生產 (C) 為誰生產 (D) 生產地點。

60. ( ) 根據以下報導內容判斷，下列何者與該國社會現狀相符？

國際新聞

政府放任疫情爆發，民眾大量染病，且紛紛搶購醫療物資與民生日用品，而不肖商家囤貨坐地起價，價格飆漲，使藥品和防疫物資全集中在少數人手上，多數民眾無法獲得，而經濟弱勢者更是連日常溫飽都難以滿足，苦不堪言。

(A) 自由買賣有助於維持物價穩定 (B) 廠商選擇生產價格較低的產品 (C) 政府運用公權力管制市場交易 (D) 該國面臨資源分配不均的問題。

題組：

1. 吐瓦魯外長柯飛 2021 年曾在聯合國氣候峰會 COP26 發表一支影片，引起熱議。他穿著西裝站在海中演講，水深及膝，表達海平面上升對國土造成威脅（如附圖）。

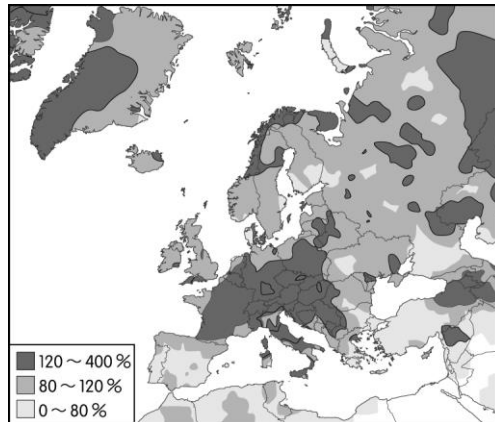


( ) (61) 吐瓦魯屬於何種地形的島嶼？ (A) 火山島 (B) 大陸島 (C) 珊瑚礁島 (D) 冰蝕島。

( ) (62) 此畫面傳達出該國在哪一重要議題上首當其衝？ (A) 地層下陷 (B) 氣候變遷 (C) 酸雨侵襲 (D) 龍捲風肆虐。

2. 2021 年 7 月中旬西歐出現破百年紀錄的降水量，萊因河、默茲河、阿爾河等河川決堤，造成比利時、德國、荷蘭與盧森堡等地區災情四起，其中以德國西部受損最為嚴重。

該極端災害的發生是由於地球南北兩極溫度上升的速度，是赤道的兩到三倍，這削弱中緯度地區的高速氣流（Jet Stream），基本上這些氣流都在歐洲上空。尤其在夏、秋兩季，高速氣流的減弱會產生連鎖反應，導致移動速度較慢的暴風雨於西歐上空滯留數日。附圖為歐洲 7 月 11 日至 17 日累積雨量與該周長期平均雨量的百分比，請問：



( ) (63) 根據上文，可以推測伴隨這波強降水，衍生出的下列各種災害，何者錯誤？ (A) 淹水 (B) 土石流 (C) 森林大火 (D) 通訊中斷。

( ) (64) 根據圖中內容判斷，下列敘述何者正確？ (A) 降水集中在南歐 (B) 降水集中丘陵地形 (C) 降水集中歐盟成員國 (D) 降水集中北緯 23.5 度。

3. 下列為某個時期的背景。請問：

\* 文藝復興時期引發對古希臘羅馬科技的興趣。

\* 西歐寬鬆的社會氛圍使工匠和學者的聯繫加強。

\* 新航路、海外地區的開闢使商業和工業對技術提出更高的需求，技術進步又促進了科學的發展，科學的發展同時亦促進了技術的進步。

( ) (65) 該時期的代表人物不包括下列何者？ (A) 牛頓 (B) 達文西 (C) 笛卡兒 (D) 培根。

( ) (66) 該時期的創舉包括下列何者？ (A) 顯微鏡 (B) 指南針 (C) 印刷術 (D) 造紙術。

4. 幾位同學報名學校開辦的職業試探課程，並聚在一起討論未來想從事的職業。媛瓊想開設一家網路商店賣蔬菜，因為她發覺很多上班族都沒空去市場買菜；弘杰喜歡音樂，以後想當老師教學生唱歌和跳舞；瑋駿選擇機械工程的課程，對未來的期許是製造醫療機器人照顧病患；而巧玲想和奶奶一樣養殖虱目魚，從小在魚塢長大的她，相信自己一定可以駕輕就熟。請問：

( ) (67) 關於媛瓊打算開設的商店型態，下列敘述何者正確？ (A) 販售商品皆為無形勞務 (B) 透過網路與客人進行交易

(C)必須擁有具體的買賣場所 (D)已經取代其他型態的市場。

- ( ) (68)根據幾位同學對未來工作的規畫，站在市場交易的角度觀察，下列敘述何者正確？ (A)個人自給自足的生產模式比從事交易有利 (B)每個人發展所長，再與他人交易獲得所需 (C)成為生產者後，將不需要在商品市場中消費 (D)每位同學都選擇進入勞動市場，受僱於他人。

5.大學畢業 30 年後的同學會，同學們分享自己的職業，如附表。請問：

同學	職業	內容
雅雯	擺地攤	我工作時間與所得收入不穩定，希望能早點買房子。
淑娟	股票族	我在家從事股票買賣賺了一些錢，但政府不把我視為勞動力。
冠廷	有尋職行動之退休人員	我退休後沒事做，目前正在找工作，但一直找不到。
文雄	家管	在家照顧我的三個小孩和生病的爸爸，每天都焦頭爛額。

- ( ) (69)根據表中內容判斷，哪些人屬於勞動力？ (A)雅雯、文雄 (B)雅雯、冠廷 (C)雅雯、淑娟 (D)淑娟、文雄。

- ( ) (70)根據表中內容判斷，何人從事「非市場勞動」？ (A)文雄 (B)淑娟 (C)冠廷 (D)雅雯。

**答案:**1.A 2.B 3.D 4.A 5.A 6.C 7.C 8.B 9.D 10.B 11.B 12.C 13.C 14.B 15.B 16.C 17.D 18.D 19.C 20.C 21.A 22.A 23.B 24.C 25.C 26.A 27.A 28.C 29.A 30.B 31.C 32.B 33.C 34.D 35.C 36.C 37.C 38.C 39.D 40.C 41.D 42.A 43.D 44.B 45.A 46.D 47.D 48.C 49.A 50.C 51.B 52.C 53.C 54.D 55.D 56.C 57.D 58.B 59.B 60.D 61.C 62.B 63.C 64.C 65.B 66.A 67.B 68.B 69.B 70.A