

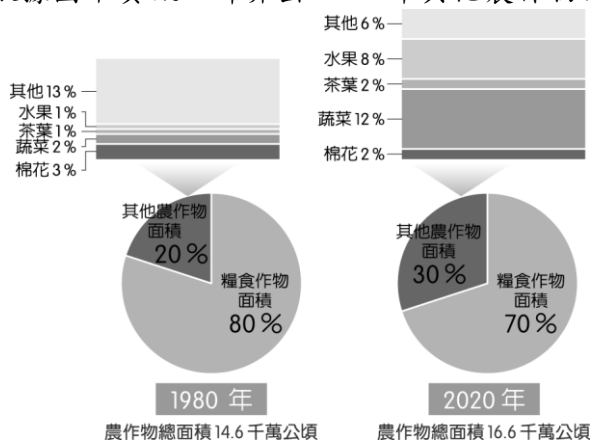
屏東縣立大同高中 112-1 國中社會 8 年級補考試題(題庫)

★請於電腦卡作答：

___年___班 座號：___ 姓名：___

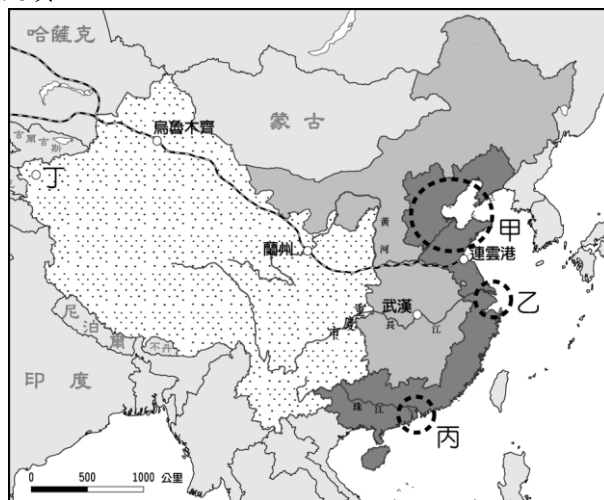
一、單題

1. () 附圖是中國糧食作栽種面積比例圖，依據圖中資訊，計算出 2020 年其他農作物面積是多少千萬公頃？



- (A) 2.92 (B) 4.98 (C) 11.62 (D) 11.68。

2. () 地形為氣候主要的影響條件，下列哪兩個板塊所造成的山脈，會影響夏季季風無法深入中國內陸？ (A) 歐亞板塊、菲律賓海板塊 (B) 歐亞板塊、太平洋板塊 (C) 歐亞板塊、印澳板塊 (D) 歐亞板塊、非洲板塊。
3. () 1980 年代，臺灣因勞力短缺、工資上漲等因素，造成產業大出走，其中部分轉往中國投資設廠。請問：上述出走的臺灣產業主要前往附圖中的哪一個地區投資？



- (A) 甲 (B) 乙 (C) 丙 (D) 丁。

4. () 位在東北平原上的哈爾濱，夏季氣溫平均為 25℃ 左右，然而緯度低的拉薩氣溫卻僅約 15.7℃。其主要的影響因素為何？ (A) 盛行風向 (B) 距海遠近 (C) 地勢高低 (D) 經度位置。
5. () 人口的分布可用夜間時燈光的分布疏密來加以判斷，下列為中國四個夜間燈光密集的地形區，其中哪一地形區的緯度位置最高？ (A) 長江三角洲 (B) 珠江三角洲 (C) 華北平原 (D) 東北平原。
6. () 中國流傳的順口溜：「雖然大權不在手，可誰都得跟他走。他讓往東去，你不敢往西扭。他說要騎馬，爸爸忙趴下。半夜想吃冰淇淋，爺爺提起褲子滿街走。」雖然夾帶著幾分戲謔，卻也道盡了今日中國的人口問題。請問：上述順口溜描述了中國哪一人口問題？ (A) 人口分布不均 (B) 出生率大幅降低 (C) 老年人口增加 (D) 男女性別比漸高。
7. () 中國的疆域廣大，各地氣候特色皆不相同。附圖中何處由於地理位置的影響，最冷月均溫多高於 0℃，因此少見降雪？



- (A) ① (B) ② (C) ③ (D) ④。

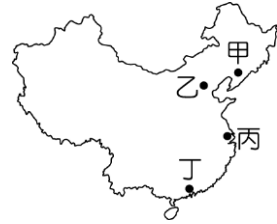
8. () 2013 年中國繼經濟改革開放的政策後，推出「一帶一路」的經濟計畫，希望能藉由交通發展串聯沿線國家，強化沿線參與國家在哪一方面的發展，以消耗中國過剩的產能？ (A) 基礎建設 (B) 科技產業 (C) 加工出口 (D) 國土擴張。
9. () 華人的遷移對中國周圍國家的文化影響深遠，若相關學者欲前往這些國家進行早期華人文化擴散的研究，則選擇到下列哪一國家較為適合？ (A) 馬來西亞 (B) 美國 (C) 印度 (D) 沙烏地阿拉伯。
10. () 中國自實施新的勞工法規後，企業的勞力成本大幅增加。此時中國境內哪一個經濟區因為工資相對低廉，又處於東西交通的中樞位置，且資源豐富，成為今日外資積極投資的新興地區？ (A) 東北地區 (B) 東部地區 (C) 中部地區 (D) 西部地區。
11. () 中國各地的地理環境不同，影響其農牧業活動的發展。請問：老王到附圖中的丁處旅遊，見到其農業活動的進行，這

和當地具備何種條件有關？



(A)年降水量豐富 (B)沖積土壤肥沃 (C)綠洲水源豐富 (D)農業勞力充足。

12. () 人口數量受到自然增加及社會增加的因素影響，如中國南部地區在農業時期，大量民眾遷移至此，成為人口最集中的地區。上述現象是因為何項人口拉力的因素影響？ (A)面積廣大 (B)礦產豐富 (C)氣候優良 (D)首都所在。
13. () 根據「2020 中國商業地產投資意向調查報告」顯示，雖然受到新型冠狀病毒的疫情影響，大部分投資人仍對市場有信心，其中尤以外資為甚，外資受訪者均表示未來 12 個月內都有在中國最大工、商、金融中心進行投資的計畫。上述消息一出，附圖中何地的前景大為看好？



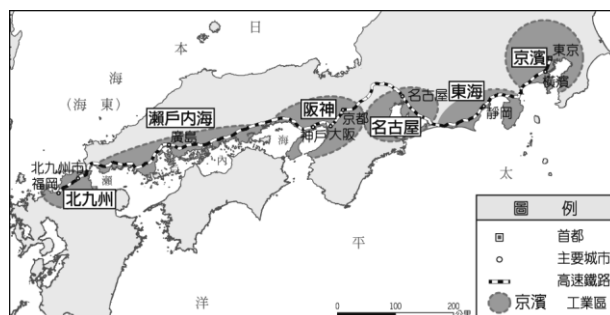
(A)甲 (B)乙 (C)丙 (D)丁。

14. () 附圖為中國境內傳統的農業分布區，受到氣候條件及用水量的因素影響，目前該國以哪一個農業分布區的缺水情況最為嚴重？



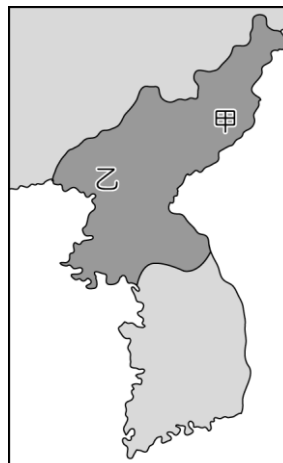
(A)甲 (B)乙 (C)丙 (D)丁。

15. () 北韓近年來遇到嚴重的饑荒問題，這和下列哪一個因素的關係較小？ (A)耕地較少 (B)冬季寒長 (C)生產技術落後 (D)勞力不足。
16. () 日本境內的工業活動相當發達，附圖為該國主要的工業區分布圖。請根據圖中資料加以判斷，其工業區主要分布於哪兩個大島上？



(A)北海道、本州 (B)本州、四國 (C)四國、九州 (D)九州、本州。

17. () 全球各大都市常會興建高塔作為地標，吸引許多觀光客前來。南韓首爾也不例外，首爾塔常出現在許多韓劇中，聽說在天氣好的時候，利用望遠鏡向西方可遠眺哪一個海洋？ (A)太平洋 (B)黃海 (C)日本海 (D)南海。
18. () 日本自古即非常重視海上的相關活動。請問：下列何者和海上活動頻繁的關係最小？ (A)山多田少 (B)沿岸港灣眾多 (C)西岸冬季多雪 (D)寒暖流交會。
19. () 南韓的影視產品在亞洲掀起一陣韓流熱潮，相關的娛樂產品在亞洲國家大賣。請問：對於下列何項產業的助益最大？ (A)電子業 (B)資訊業 (C)農牧業 (D)觀光業。
20. () 北韓有多礦產分布，首都平壤附近的順川和博川礦山即為鈾礦分布區，因此有利於發展核武。近年來北韓進行多次的核爆試驗，並且試射洲際飛彈，對周邊國家造成威脅，附圖中為北韓兩大核武實驗中心的位置。請問：下列敘述中何者最為正確？



(A)甲實驗室的地形較為低平，利於核廢料掩埋 (B)乙實驗室較接近北韓首都，便於官員巡視 (C)甲實驗室氣候較為溫暖溼潤，利於核武儲存 (D)乙實驗室鄰近日本海，核武試爆易引起日方抗議。

21. () 清末中國在西方觀念影響下出現很大的改變，傳統男主外女主內在此時受到挑戰。請問：下列何種情形是針對該傳統

觀念的改變？ (A)放足成為普遍觀念 (B)工廠開始雇用女工 (C)新知識分子接受基督教信仰 (D)拋棄傳統服裝，選擇旗袍。

22. () 明清之際，中國西洋傳教士將哪些文物傳入歐洲？(甲)儒家經典(乙)造紙術(丙)園林建築(丁)地理學 (A)甲乙 (B)丙丁 (C)甲丙 (D)乙丙。
23. () 臺北國立故宮博物院珍藏許多古物，其中毛公鼎、肉形石、翠玉白菜被喻為民間版的故宮三寶。毛公鼎銘文全文長499字，內容敘述周天子冊封毛公，毛公為紀念此事件，下令鑄鼎的經過。請問：周天子在冊封毛公的儀式中，除了給予爵位封號以外，還一併給予毛公下列何者，為封建體制中的典型例子？ (A)土地 (B)美女 (C)禮器 (D)樂器。
24. () 滿清入關後，統治中國二百六十八年之久，統治成功的關鍵在於何者？ (A)以法治國 (B)高壓政策的成功使漢人不敢反抗 (C)能放棄高壓採取懷柔政策，對滿漢採平等待遇 (D)高壓與懷柔並行的策略。
25. () 附圖為北宋時的某項朝野決策，最後導致何種結果？



- (A)蒙古崛起 (B)遼國崛起 (C)北宋壯大 (D)金國崛起。
26. () 下列關於明清時期商業發展的敘述，何者錯誤？ (A)專業市鎮興起 (B)出現地域性商幫 (C)以山西、徽州商人最著名 (D)景德鎮以絲綢聞名。
27. () 唐代的酪漿是當時長安城很受歡迎的飲料，是新鮮牛奶或酸奶加入糖及糖漬水果再冰鎮而成。這種乳製飲料最可能以何種形式出現在長安，再被商人加以改良成為符合大眾口味的飲料？ (A)農業民族飼養家畜時發現 (B)經由絲路傳入胡人飲食習慣 (C)由日本僧侶傳入 (D)和東南亞民族貿易時帶入。
28. () 西方傳教士、外國商人曾在中國通商口岸創辦多項報刊雜誌，像是《萬國公報》、《申報》，有助於西方新思潮的引進，也增進中國一般民眾對公眾事務的關心。請問：下列何者較不可能是當時報導的內容？ (A)仕女在西餐廳用餐 (B)鴉片戰爭的照片 (C)介紹科學新知 (D)《辛丑和約》內容。
29. () 暑假期間，小華前往引爆甲午戰爭導火線的某個國家旅行。請問：小華前往何國？ (A)韓國 (B)日本 (C)菲律賓 (D)俄國。
30. () 鴉片戰爭使中國陷入百年悲運，清帝國也因此喪失哪些權益？(甲)賠款(乙)割地(丙)開放臺灣通商口岸(丁)協定關稅 (A)甲乙丙 (B)乙丙丁 (C)甲丙丁 (D)甲乙丁。
31. () 最繁榮的江南地區形成五大手工業區，即松江的棉紡織業、蘇杭的絲染業、蕪湖的漿染業、鉛山的造紙業和景德鎮的製瓷業，促進了市場經濟化和城市化。請問：這是哪一朝代的經濟景象？ (A)漢代 (B)唐代 (C)宋代 (D)明代。
32. () 附圖為元世祖《出獵圖》的一部分，圖中身穿白衣者的男女為元世祖和他的皇后，身邊的侍衛膚色深淺不一，代表元代種族多元的情況。請問：元代為了有效率管理人民而實行的政策，下列敘述何者正確？



- (A)綠眼珠的中亞人掌管政府財政 (B)在長江流域的漢人透過科舉成為政府高官 (C)在黃河流域的契丹人被分派到重要的政府職位 (D)蒙古人和其他人的地位並無分別。
33. () 清代的首都北京，首次被其他國家以武力入侵是在何時？ (A)甲午戰爭 (B)鴉片戰爭 (C)英法聯軍 (D)八國聯軍。
34. () 日本第一座路燈在東京銀座設立後，引來市民聚集參觀。請問：這最可能發生在下列哪個年代？ (A)1790年代 (B)1820年代 (C)1880年代 (D)1930年代。
35. () 立芳參加一場研討會，流程表如下。她參加的研討會主題為何？

9:00 ~ 9:30 報到
9:30 ~ 10:30 漢化不漢化？北魏孝文帝的抉擇
10:30 ~ 11:30 長城的修築史
11:30 ~ 12:00 綜合座談
12:00 ~ 13:00 休息時間
13:00 ~ 14:00 張騫出使這條路不平靜
14:00 ~ 15:00 文成公主的心情
15:00 ~ 16:00 綜合座談

- (A) 農業民族和草原民族的關係 (B) 漢人胡化過程 (C) 絲路貿易的發展史 (D) 唐代的外交策略。
36. () 新羅朴權浩在十二歲的時候，奉其父之命到唐朝留學，而且希望考上唐朝的科舉。臨行的時候，父親告誡說：「十年不第，即非吾子也，行矣勉之。」結果來到唐朝的六年後，不負其父的期望，考上了進士科。請問：上文中的新羅與唐代的關係如何？ (A) 曾與唐代交戰於恒羅斯，結果唐軍戰敗 (B) 迎娶唐朝公主 (C) 以唐代制度為藍本，展開大化革新 (D) 全力模仿中國文化，有「君子國」之稱。
37. () 莊安生活在東周時代，他希望有朝一日自己能獲得朝廷冊封，衣錦返鄉。下列何者不應該是他努力的方式？ (A) 鼓吹國君加強貴族勢力 (B) 參加軍隊建立軍功 (C) 接受教育以學說打動國君 (D) 追隨商鞅變法成為推動者。
38. () 秦一統天下之後，實行一系列加強中央集權、鞏固國家統一的措施，下列哪一敘述是秦代實行中央集權的措施？ (A) 分封宗室駐守各地 (B) 地方的首長由朝廷直接任免 (C) 重用外戚在朝為官 (D) 賦予地方長官軍政大權。
39. () 下列政權，其亡國的先後順序為何？(甲)北宋(乙)金(丙)遼(丁)西夏(戊)南宋 (A) 丙甲丁乙戊 (B) 丙甲乙丁戊 (C) 甲丙丁乙戊 (D) 甲乙丙戊丁。
40. () 「在過去一千年中，大部分時間中國的糧食狀況要比歐洲好得多。這正是因為有更充足的糧食供給，使得中國的人口從 11 世紀開始增長較快，而西歐人口則是到了 18 世紀以後才得到迅速增長。」促使 11 世紀中國人口的開始增長，基本的原因是由於當時引進哪一種外來作物？ (A) 番薯 (B) 占城稻 (C) 玉米 (D) 馬鈴薯。
41. () 儒林是一個生長在宋代的男子，他對伊斯蘭商人與生活充滿好奇，如果儒林的父母想要滿足他的好奇心，應該帶他到何地旅遊較為合適？ (A) 建康 (B) 汴京 (C) 中都 (D) 泉州。
42. () 東晉時代建康青年劉籍「託父祖餘蔭，年方雙十，已居朝中要職」，顯示當時人才進用方式的哪一特徵？ (A) 政府官職被少數世家大族所獨占 (B) 飽讀經書的青年才俊受朝廷特別重視 (C) 政府派任官職的根據是個人的才能 (D) 「孝廉」的薦舉多偏重世族階級。
43. () 如果你是南宋時期的商人，下列何者符合當時的時代情況？ (A) 北方傳來消息，因為澶淵之盟而平息戰亂 (B) 聽說政府自占城引進早熟稻，稻米產量大增 (C) 在大街開店，店裡住家，清晨就開業，直到深夜才打烊 (D) 經歷靖康之禍，嘗到南宋滅亡之痛苦。
44. () 佛教是現今世界三大信仰人口最多的宗教之一，佛教起源於印度，大約於何時傳入中國？ (A) 秦代 (B) 漢代 (C) 曹魏時期 (D) 西晉。
45. () 下列有關番薯、玉米、馬鈴薯等三種外來作物的敘述，何者正確？ (A) 原產於歐洲 (B) 隨中外接觸日趨頻繁，約於漢朝中期傳入中國 (C) 番薯、玉米、馬鈴薯的傳入，使中國許多不宜種稻的地區得以開發 (D) 魏晉南北朝時因戰爭頻仍，番薯已成為重要的糧食作物。
46. () 附圖為清末實施某項改革時，多數知識分子的反應。請問：該項改革發生於何時？



- (A) 19 世紀初期 (B) 19 世紀中期 (C) 19 世紀後期 (D) 20 世紀初期。
47. () 根據附圖中阿仁的日記所述，他所採取的政治參與方式為何？

2019/11/21	天氣：晴
每個候選人都很優秀，看一下政見發表會好了，把日期記在下面就不會忘了，期待候選人們的表現！	
2020 年中華民國總統 選舉政見發表會時程表	
總統 (一)	2019 年 12 月 18 日 (三)
副總統	2019 年 12 月 20 日 (五)
總統 (二)	2019 年 12 月 25 日 (三)
總統 (三)	2019 年 12 月 27 日 (五)

- (A) 參與投票 (B) 投入政黨活動 (C) 關心時事 (D) 打電話至政論節目表達意見。
48. () 教育部公告新型冠狀病毒 (COVID-19) 停課標準：「高中以下班級有一名師生確診，該班停課十四天；一校有兩名師生確診，全校停課十四天。」對此，各縣市教育單位積極針對停課補課、輔導及評量方式等，研擬應對措施。請問：教育部和各縣市教育單位的分權方式屬於下列何者？ (A) 有限政府 (B) 權力分立 (C) 均權制度 (D) 水平分權。
49. () 根據《警察勤務條例》第 11 條規定：「臨檢：於公共場所或指定處所、路段，由服勤人員擔任臨場檢查或路檢，執行取締、盤查及有關法令賦予之勤務。」但警察執法時亦不能逾越必要程度，以免侵害《憲法》保障人民的人身自由權。由上述判斷，下列說明何者最為正確？ (A) 法規落實警察對人民的臨檢權利 (B) 法律保障人民身上的自由權力 (C) 執法單位與人民均受到法律約束 (D) 警察機關執行勤務不受法律規範。
50. () 附表為區域立委與全國不分區立委的比較表，其中何者正確？

	區域立委	全國不分區立委
(甲)	地方公職人員	中央公職人員
(乙)	選民投票給候選人產生	選民投票給政黨產生
(丙)	得票 5% 以上當選	最高票當選

(丁)	總額 34 人	總額 73 人
-----	---------	---------

(A)甲 (B)乙 (C)丙 (D)丁。

51. () 在我國，只要年滿 20 歲的國民，且未受監護宣告者，皆享有選舉權。上述符合選舉的哪一項原則？ (A)無記名 (B)直接 (C)平等 (D)普通。
52. () 友邦吐瓦魯總理在聯合國氣候變遷會議演講中，肯定我國的努力與貢獻，呼籲聯合國相關會議應讓我方加入，與國際上其他國家共同商討如何對抗氣候變遷帶來的影響，並於接受採訪時明確表示，聯合國應承認中華民國是獨立國家。依照上述，下列哪一項說明正確？ (A)專業素養不足導致我國無法參與國際會議 (B)我國無法順利加入聯合國是由於友邦太少 (C)與吐瓦魯建立平等國際關係為主權的展現 (D)政局不穩一直是我國外交碰壁的主要原因。
53. () 政府政策的制定與推動必須交付中央政府官員執行，依照我國《憲法》規定，附圖新聞中所述即將異動的官員，其產生的方式為何？



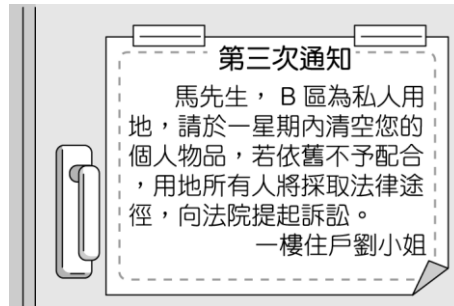
(A)由總統提名，經立法院同意後由總統任命 (B)由總統任命 (C)由行政院院長提請總統任命 (D)由立法委員互選產生。

54. () 根據附圖中小露的提問，大楓應回答下列哪一機關？



(A)立法院 (B)市政府 (C)鎮公所 (D)縣議會。

55. () 附圖通知單中，劉小姐所欲採取的行動屬於《憲法》所保障的何種權利？



(A)參政權 (B)受益權 (C)平等權 (D)自由權。

56. () 在民主國家，中央政府分權方式大多採取權力分立原則，鈺嘉必須從文件檔案的敘述中找出對司法權功能的說明。請問：下列何者符合他的需求？

(A) 為國公正舉才

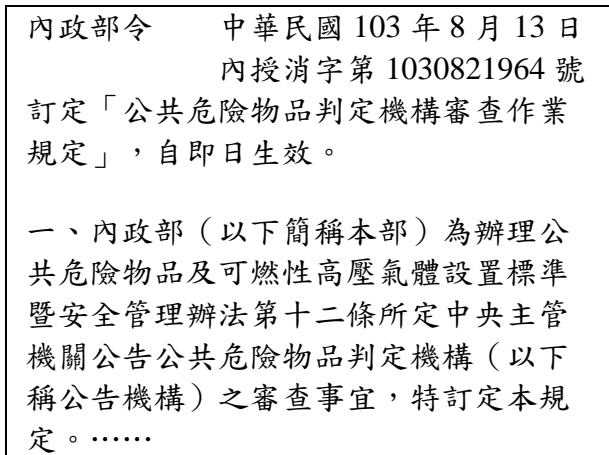
(B) 監督行政與立法機關是否濫權

(C) 堅持黨派立場

(D) 杜絕國會專制

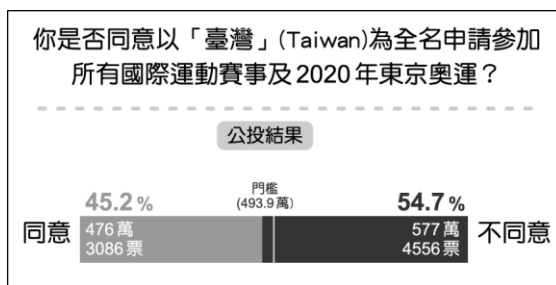
57. () 為促進臺北市與新北市整體發展，於互利合作之基礎上推動各項重大發展計畫及跨區建設，期透過雙方經驗交流與資源分享，共同攜手創造最大效益，並提供市民優質生活環境，成立「雙北合作交流平臺」。請問：「雙北合作交流平臺」的成立與下列何者敘述相關？ (A)中央政府與地方政府合作的重要性 (B)地方政府需要中央的統籌規畫與資源挹注 (C)地方政府協力推動中央政府的政策和法律 (D)公共事務龐雜，並非單一地方政府所能獨立應付。

58. () 曹先生收到一則公文如下，關於此份公文中法令制定方式的說明，下列何者正確？



(A)由行政機關訂定 (B)由立法院制定 (C)由投票制定 (D)由總統制定。

59. () 2018 年舉辦的全國性公民投票案數量為 10 案，附圖為其中某一主題與投票結果，根據內容判斷，下列敘述何者正確？



(A)未來將以「臺灣」之名參加國際運動賽事 (B)此結果由地方選舉委員會公告 (C)此投票展現間接民主的理念
(D)此議題2年內不得再提出。

60. () 俐芬在這次的假期安排了以下的旅遊行程。請問：關於這些景點所在的縣市，何者敘述正確？

基隆廟口夜市→新竹市十八尖山公園→嘉義市嘉大昆蟲館

(A)立法機關為市政府 (B)行政機關為市議會 (C)地方首長為政府指派 (D)在行政層級上屬於縣(市)。

答案:1.B 2.B 3.C 4.C 5.D 6.B 7.D 8.A 9.A 10.C 11.C 12.C 13.C 14.A 15.D 16.D 17.B
18.C 19.D 20.B 21.B 22.C 23.A 24.D 25.D 26.D 27.B 28.B 29.A 30.D 31.D 32.A
33.C 34.C 35.A 36.D 37.A 38.B 39.A 40.B 41.D 42.A 43.C 44.B 45.C 46.D 47.C
48.C 49.C 50.B 51.D 52.C 53.C 54.D 55.B 56.B 57.D 58.A 59.D 60.D