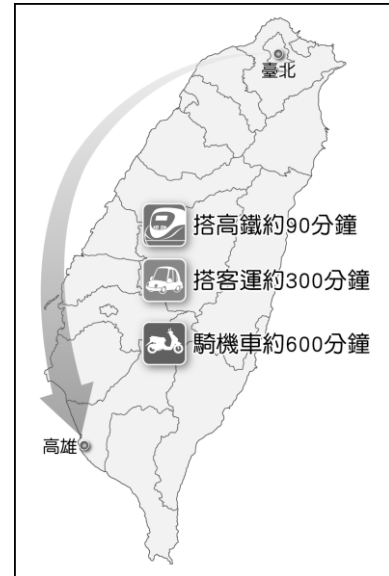


屏東縣立大同高級中學 112 學年度第 2 學期國中 7 年級地理科補考題庫

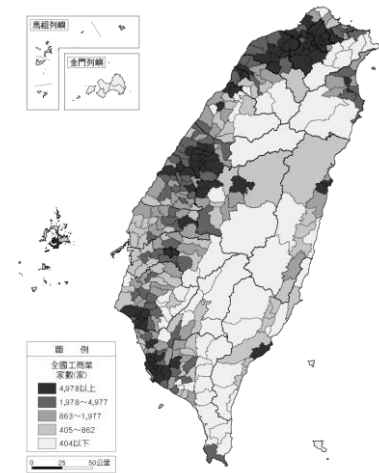
一、選擇

- () 由於位置上的鄰近性及語言文化相近，臺灣的外籍配偶以哪些國家的比例較高？ (A)日本、南韓 (B)中國、越南 (C)美國、加拿大 (D)新加坡、馬來西亞。
- () 下列選項為阿甲一天中會使用到的工業產品，何者屬於高科技工業的產品？ (A)制服外套 (B)品牌球鞋 (C)智慧型手機 (D)捷安特腳踏車。
- () 「曾有人以山脈為界，將臺灣分為『前山』、『後山』，而『後山』泛指東部區域。」上文中所提山脈最可能為下列何者？ (A)雪山山脈 (B)海岸山脈 (C)中央山脈 (D)玉山山脈。
- () 在電腦程式設計的領域中，有「全球三班制」的作法，設計師阿惠在下班後，將工作交給另一地開始上班的同事阿文，阿文之後又交給另一地的人員小胖，到隔天阿惠上班時，已收到完成的成果了！此過程主要是透過下列何項技術達成？ (A)噴射客機 (B)人造衛星 (C)網際網路 (D)貨櫃船隊。
- () 下列人口金字塔圖的繪製步驟，哪一項是錯誤的？ (A)每 5 歲為一級距 (B)男生在左，女生在右 (C)將人口由老年至幼年向上逐級繪製 (D)將同一級距的人口數總計後換算成比例。
- () 根據聯合國的標準，一國的老年人口達到多少比例即為高齡化社會？ (A)5% (B)7% (C)14% (D)20%。
- () 臺北市身為臺灣的首善之都，具有下列何項特色？ (A)休閒農業的基地 (B)重工業的集中區 (C)臺灣最大的港口所在地 (D)第三級產業發達的經濟核心區。
- () 附圖所要表達的意涵，下列哪一個選項的文句敘述最貼切？ (A)都市和鄉村間彼此相輔相成 (B)臺灣陸運

交通的路線深受地形限制 (C)對外交通便利的地區較易形成都市聚落 (D)交通工具不斷的改善與創新縮短了各地的旅運時間。



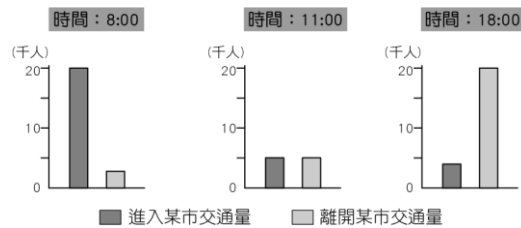
- () 附圖為民國 109 年全國各鄉鎮市區工商業家數圖。圖中工商業家數較多的地區具有下列何項共同特徵？



- (A)氣候四季分明 (B)地形崎嶇多山 (C)人口密度較高 (D)河運交通發達。
- () 據報載：「臺北市 30 年以上的老屋，已經超過 50 萬戶，占臺北市建築的六成以上。另外，很多地方建物密集，一旦發生地震、火災，逃生不易，有潛在危險。」採用下列何種措施，最可能從根本改善上述問題？ (A)都

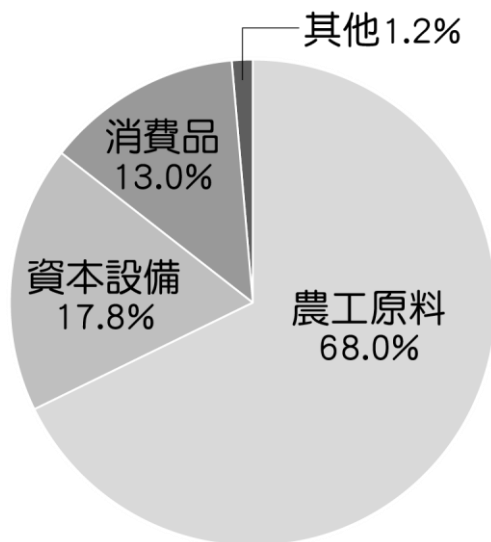
市更新 (B)罰款取締 (C)政策宣導 (D)安全演習。

11. () 附圖為一天中進出某都市的交通流量示意圖。該都市最可能已發生下列何種現象？



(A)郊區化 (B)都市化 (C)全球化 (D)都市更新。

12. () 附圖是民國 108 年臺灣的進口品項比例，其中農工原料占比最高，主要與臺灣的何項地理環境因素有關？



(A)國內市場規模小 (B)面積小，缺乏資源 (C)四面環海，海岸線綿長 (D)第一級產業勞力老化嚴重。

13. () 附表是臺灣四個年代的三級產業就業人口比例。請問：何者最可能是民國 109 年的數據？ (A)甲 (B)乙 (C)丙 (D)丁。

年代	第一級產業	第二級產業	第三級產業
甲	20.7	43.2	36.1
乙	4.8	35.4	59.8
丙	46.3	21.1	32.6
丁	18.7	41.1	40.2

(單位：%)

14. () 下列是大雄在假日前往臺灣某地旅行後，所寫下的日記。請依日記內容判斷，大雄最可能是到附圖中的何地旅行？ (A)甲 (B)乙 (C)丙 (D)丁。

這個行程太有趣了，我們先去箱網餵魚，體驗海上捕魚樂趣，不但認識箱網養殖，還了解海洋養殖技術。下午的潮間帶活動，不僅可以捉蝦、摸魚、撿海膽，還可以觀察珊瑚生態等；晚上的海鮮大餐為充實的一天畫下完美的句點。



15. () 職業籃球員戴維斯(Quincy Spencer Davis III)出生於美國加州洛杉磯，在西元 2013 年時歸化中華民國國籍並放棄美國國籍，成為臺灣史上第一位歸化的籃球選手。請問：外籍人士歸化對臺灣人口會造成什麼影響？ (A)外籍人士歸化屬於國內遷移 (B)自然增加率會因此產生變動 (C)外籍

人士歸化會提高移入率 (D)歸化會導致人口增加率下降。

地理題庫解答

1. B

詳解：因相對位置的鄰近性且語言文化相近，臺灣的外籍配偶比例以來自中國和越南最高。

2. C

詳解：(A)外套(成衣)、(B)球鞋、(D)腳踏車屬於輕工業產品。

3. C

詳解：後山指早期移民主要由臺灣海峽(及臺灣西部)移入，因此將中央山脈以東稱為後山。

4. C

詳解：網際網路可讓訊息跨越時空阻隔，在全球各地迅速交流，故選(C)。

5. C

詳解：(C)人口金字塔圖是將一地的人口由幼年、壯年、老年的順序，向上逐級繪製。

6. B

詳解：老年人口比例超過 7% 為高齡化社會，超過 14% 為高齡社會，超過 20% 則為超高齡社會。

7. D

詳解：臺北市為臺灣政治、經濟與文化中心。

8. D

詳解：雖然四個選項的說明都正確，但附圖要表達的概念為隨著交通工具的改進與革新，兩地間的旅運時間逐漸縮短，故選(D)。

9. C

詳解：圖中工商業家數較多之處多為都市地區，或屬於大都會區，人口密集。

10. A

詳解：都市更新可達到改善環境、美化市容、提升居住品質、促進土地開發等目的，故選(A)。

11. A

詳解：由附圖可知，8:00 上班時間進城的人多，代表住在郊區的人要進城上班；18:00 離開的人多，代表下班時間到了，大家往郊區移動，由此可知許多人住在郊區。因都市內部交通系統的改善，擁擠的人口逐漸向都市周邊遷移，形成郊區化現象。

12. B

詳解：臺灣因面積狹小，缺乏礦產等工業發展

資源，故原料大多仰賴國外進口。

13. B

詳解：民國七十年代中期後，第三級產業即已成為臺灣的生產主力，年代乙的第一級產業就業人口比例最低，僅 4.8%，第三級產業就業人口比例高達 59.8%，故為正解。

14. C

詳解：臺灣的箱網養殖主要集中在澎湖、屏東等縣。由日記中的「箱網養殖」、「潮間帶活動」、「觀察珊瑚生態」等，可判斷大雄是到丙：澎湖縣旅行。

15. C

1. 詳解：外籍人士歸化屬於國際遷移，社會增加率會因此產生變動，並提高移入率，使人口增加率上升。