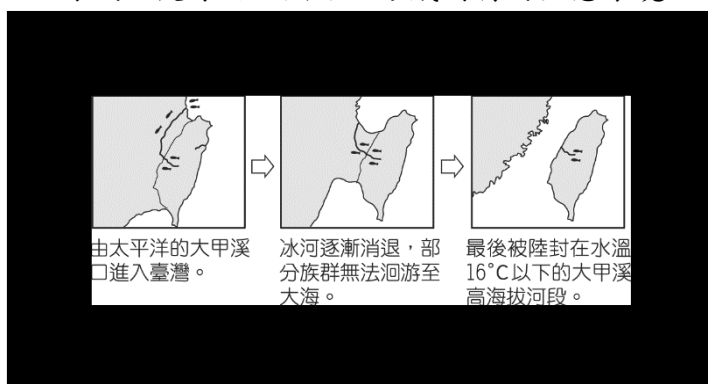


# 屏東縣大同高中 113-1(國中)7 年級社會科補考題庫

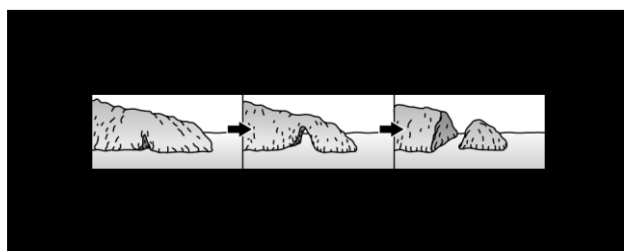
## 地理:

### 單題(地理 15 題)

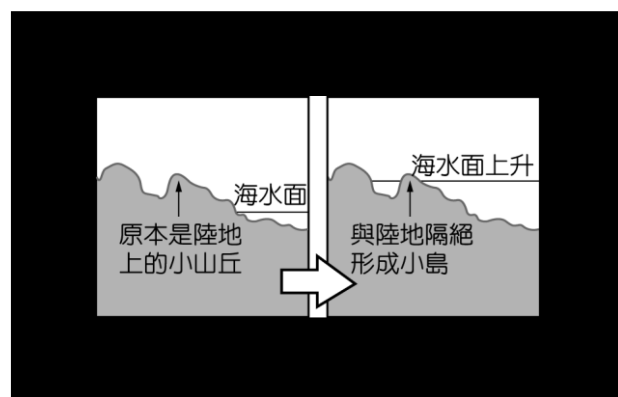
- ( ) 海岸地形依其特色而有不同，形成多采多姿的海邊風光。請問：通常成為著名觀光景點的海灘，其中沙岸地形的產生和下列哪一因素關係較大？  
(A)氣候炎熱 (B)降水量多 (C)河川淤沙 (D)斷層陷落。
- ( ) 附圖為學者對於臺灣櫻花鉤吻鮭的形成推論。請問：冰河時期後，隨著融冰的變化，臺灣和亞洲大陸之間出現哪一個海域，使得兩地隔離，形成獨特的生態環境？



- (A)太平洋 (B)東海 (C)巴士海峽 (D)臺灣海峽。
- ( ) 在分層設色圖中，是利用不同的顏色層次來代表何種地形要素？  
(A)距離 (B)高度 (C)地質 (D)作用力。
- ( ) 上地理課時，老師要同學舉例說明「天氣」的定義，下列哪一位同學的描述是正確的？  
(A)小美：「恆春四季如春。」 (B)大雄：「竹風蘭雨意指新竹多風，宜蘭多雨。」 (C)靜香：「高雄下午突然下了一場雷陣雨。」 (D)胖虎：「基隆向來多雨，所以被稱為『雨都』。」
- ( ) 連接臺北盆地和宜蘭平原的北宜高速公路，主要穿越的是哪一座山脈？  
(A)中央山脈 (B)海岸山脈 (C)大屯火山 (D)雪山山脈。
- ( ) 「滄海桑田」經常被用來形容世事無常，變化很快。附圖即為真實世界的地形變化示意圖，根據圖中資料判斷，此種海岸類型具有下列哪一項特色？



- (A)沿岸海水淺 (B)海岸線平直 (C)多泥沙分布 (D)海浪侵蝕盛。
- ( ) 附圖是地理老師在解釋臺灣某一離島成因時所繪製的示意圖。該圖想要呈現的應該是下列哪一離島？



- (A)馬祖 (B)綠島 (C)澎湖 (D)琉球嶼。
- ( ) 孫小美相當熱愛潛水運動，尤其在珊瑚礁海岸地區，更可同時欣賞到豐富多樣的海底生態。請問：珊瑚礁海岸的水域具有下列哪一種特性？  
(A)寒冷乾淨 (B)高溫混濁 (C)清澈溫暖 (D)嚴寒多沙。
- ( ) 地震發生時，一開始的地震波會在堅硬岩盤中傳播，距離震央愈遠的地方震度愈小，但當地震波傳到盆地時，因盆地內的土層鬆軟的沉積層，會造成盆地內地表震動時間拉長、震動強度放大等現象，稱為「盆地效應」，此效應更容易造成建築物倒塌、加重災情。下列何處地區最

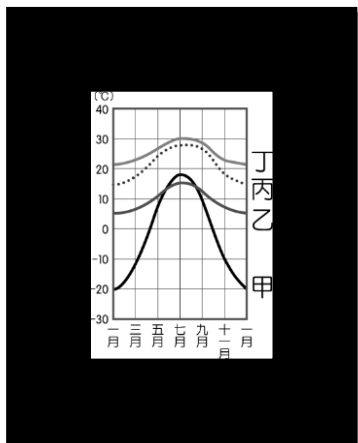
有可能出現盆地效應？

(A)林口 (B)宜蘭 (C)埔里 (D)阿里山。

10. ( ) 小琪的英國朋友馬丁，預定搭乘長榮航空的班機於桃園國際機場抵臺，當飛機飛抵桃園國際機場的上空時，透過飛機的小窗，馬丁將可以看到臺灣哪一種美麗的地形特色？

(A)丘陵梯田 (B)高大山脈 (C)廣大平原 (D)台地水塘。

11. ( ) 附圖為甲、乙、丙、丁四城市的月均溫變化曲線，其中哪一城市的年溫差最大？

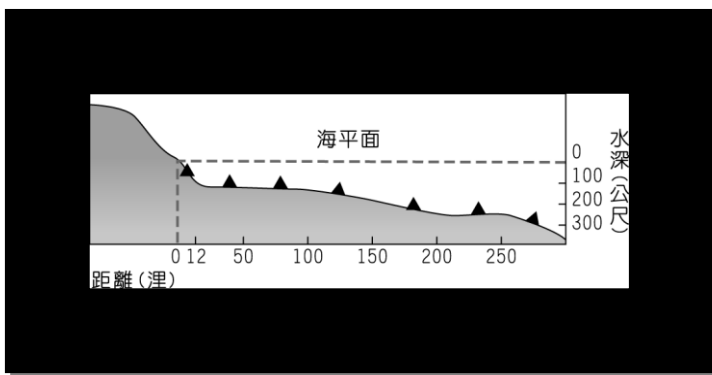


(A)甲 (B)乙 (C)丙 (D)丁。

12. ( ) 超人國的國土範圍，從東經30度向西跨到西經10度。請問：該國的經度範圍為何？

(A)10度 (B)20度 (C)30度 (D)40度。

13. ( ) 附圖為某一國家沿海地形剖面示意圖，▲記號為油氣蘊藏區的位置。若依「領海及經濟海域」範圍判斷，這個國家在圖中擁有幾個油氣蘊藏區的開採權？



(A)3個 (B)4個 (C)5個 (D)6個。

14. ( ) 地球表面的總面積約為5.1億平方公里，其中海洋與陸地的面積比例與下列何者最為接近？

(A)2:8 (B)4:6 (C)5:5 (D)7:3。

15. ( ) 以下是兩位同學的對話，依內容判斷，奇奇描述超商的位置時，是用何種位置的表示方式？

奇奇：我昨天發現一間評價很好的餐廳。

妙妙：快告訴我是哪一間？

奇奇：就在學校側門附近那間超商的斜對面。

(A)絕對位置 (B)相對位置 (C)海陸位置 (D)經緯度位置。

1. 答案：(C)

2. 答案：(D)

3. 答案：(B)

4. 答案：(C)

5. 答案：(D)

6. 答案：(D)

7. 答案：(A)

8. 答案：(C)

9. 答案：(C)

10. 答案：(D)

11. 答案：(A)

12. 答案：(D)

13. 答案：(C)

14. 答案：(D)

15. 答案：(B)

## 歷史：

- 人類早期有一段漫長的演化過程，稱為「史前時代」。請問：史前時代與歷史時代是以何者為劃分的依據？  
(A)陶器的使用 (B)部落的形成 (C)文字的發明 (D)農業的出現。
- 「人類不再只依賴大自然提供食物，農業與畜牧的同時經營，讓人類得以定居，節省下更多的時間和精力。此時已經能夠製作陶器，生活得以改善，文明加速進步。」請問：上文的敘述為史前時代哪一階段的特色？  
(A)舊石器時代早期 (B)舊石器時代晚期 (C)新石器時代 (D)金屬器時代。
- 16世紀起，歐洲人展開海外探險活動，陸續來到亞洲。請問歐洲人來到亞洲的最主要目的為何？  
(A)開拓戰略據點 (B)宣傳基督宗教 (C)發展貿易活動 (D)進行文化交流。
- 1620年代，臺灣今日雲林至嘉義一帶，成為哪些海商的根據地？  
(A)顏思齊、鄭芝龍 (B)顏思齊、鄭成功  
(C)鄭芝龍、鄭成功 (D)鄭成功、沈有容。
- 2022年基隆城市博覽會6月10日登場，和平島「諸聖教堂考古遺址」也是展場，基隆市長「開箱」介紹考古成果，邀請民眾來到和平島，見證基隆在大航海時代的重要角色。請問諸聖教堂可能是哪一國在台灣的宗教據點？  
(A)葡萄牙 (B)西班牙 (C)荷蘭 (D)英國。
- 清代有許多洋人在臺南、高雄一帶做生意。請問：從荷蘭人侵臺後，外國人的勢力和資金再度進入臺灣是在哪一事件發生後？  
(A)英法聯軍之役 (B)日軍犯臺 (C)清法戰爭 (D)甲午戰爭。
- 清領初期，頒布渡臺禁令的用意為何？  
(A)防範日本侵略 (B)保障臺灣原住民權益 (C)實施海禁政策 (D)擔心臺灣再次成為反清基地。
- 清帝國早期，由於漢人移民與原住民常有衝突發生，清廷為了避免此一情況，乃採何種方式來降低雙方的衝突？  
(A)派軍隊壓制原住民 (B)用利益引誘原住民 (C)鼓勵漢人與原住民通婚 (D)畫定番界，隔離雙方。
- 清領初期，官員們對臺灣「棄」、「留」問題發生極大的爭議。而到最後，讓皇帝下定決心保留臺灣，主要是因為下列哪一項理由？  
(A)就經濟的觀點，保留臺灣可擴充清朝的經濟海域 (B)就民族的情感，主張臺灣本來就是中國領土  
(C)就外交的立場，留住臺灣可籠絡荷蘭、日本 (D)就國防的考量，保留臺灣便能守住東南沿海安全
- 展賢研究清領前期臺灣的拓墾事業，發現在當時臺灣的移民拓墾有許多共通的特點。下列何者不包括在其中？  
(A)皆投入大量的人力與資金 (B)以獨資開墾為多 (C)需要擁有政府所開立的墾照 (D)向原住民租土地開墾。
- 心好對清代臺灣的對外貿易頗有研究，她受到知名導演的邀請，以臺灣開港後的國際貿易為主軸，撰寫劇本大綱。在她的大綱中，應不會出現下列何種內容？  
(A)臺灣開港通商後，由郊掌握臺灣進出口貿易 (B)臺灣茶的出口以烏龍茶為大宗，由北部出口  
(C)樟腦的產地在臺灣中、北部，多由淡水出口 (D)開港通商後使得臺灣的政經中心逐漸向北移。

12. 清帝國時期的分類械鬥，以閩、粵械鬥和漳、泉械鬥為多。由此可知臺灣早期的移民，多來自下列哪兩省？

(A)廣東、廣西 (B)廣東、福建 (C)福建、海南 (D)廣西、福建。

13. 清帝國時期，阿福從福建移民臺灣後，希望藉由開墾土地過生活，他必須採用下列何種方式，才能合法進行開墾？

(A)自行開墾無主地 (B)強占原住民的土地 (C)向官府申請墾照，進行開墾 (D)憑藉渡臺證照，就能進行開墾。

14. 「他是加拿大籍的長老教會宣教師，1870年代搭船至淡水，展開醫療、教育與傳道的活動。生前曾留下『寧願燒盡不願鏽壞』的名言，這位臺灣女婿最後也安葬在這個地方。」以上敘述可能出自哪一本著作？

(A)巴克禮在臺灣 (B)馬雅各與南臺灣 (C)甘為霖對臺灣的貢獻 (D)馬偕生平事蹟。

15. 關於清領前期與後期臺灣貿易發展的比較，下列敘述何者正確？

(A)清領前期出口藥材與日用品 (B)清領前後期均進口大量的軍需品 (C)自西元1878年以後，臺灣對外貿易的出口值大於進口值 (D)艋舺在清領前後期均為臺灣主要貿易港口。

1. 答案：(C)

2. 答案：(C)

3. 答案：(C)

4. 答案：(A)

5. 答案：(B)

6. 答案：(B)

7. 答案：(D)

8. 答案：(D)

9. 答案：(D)

10. 答案：(B)

11. 答案：(A)

12. 答案：(B)

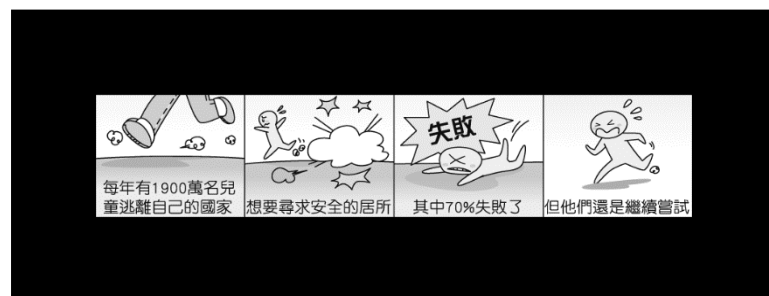
13. 答案：(C)

14. 答案：(D)

15. 答案：(A)

## 公民：

1. ( ) 公民老師在課堂上播放一段影片輔助教學，如附圖所示。請問：這段影片的主題應在說明下列何者？



(A)公民享有參政權利 (B)每個人都具有國籍 (C)父母沒有保護兒童 (D)難民所面臨的困境。

答案：(D)

2. ( ) 某一談話節目設定主題為虐童案件，依附圖內容判斷，下列敘述何者符合我國《民法》的相關規定？



(A) 孝順為傳統美德，應無條件奉養父母 (B) 法律上存在權利義務關係，必須遵守 (C) 子女可請求法院減輕或免除扶養義務 (D) 家暴為親子間的互動，屬於合理管教。

答案：(C)

3. ( ) 過去的好萊塢電影，拯救世界的英雄總是以男性為主，並且有著高大的身材及結實的肌肉，展現十足的男子氣概。而近幾年，許多女英雄慢慢出現，此現象表示何項觀念正在轉變？

(A) 生理性別 (B) 社會性別 (C) 性別刻板印象 (D) 性騷擾。

答案：(C)

4. ( ) 附表為小智所做的親屬稱謂及親屬關係的配對，其中何項錯誤？

| 選項        | 親屬稱謂 | 親屬關係 |
|-----------|------|------|
| (甲) 爸爸的姊姊 | 姑姑   | 旁系血親 |
| (乙) 叔叔的太太 | 嬸嬸   | 姻親   |
| (丙) 姑姑的丈夫 | 伯父   | 旁系血親 |
| (丁) 媽媽的丈夫 | 爸爸   | 直系血親 |

(A) 甲 (B) 乙 (C) 丙 (D) 丁。

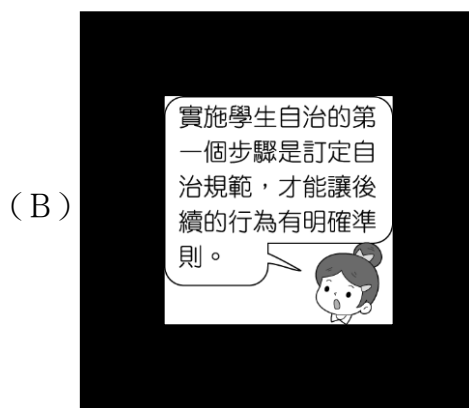
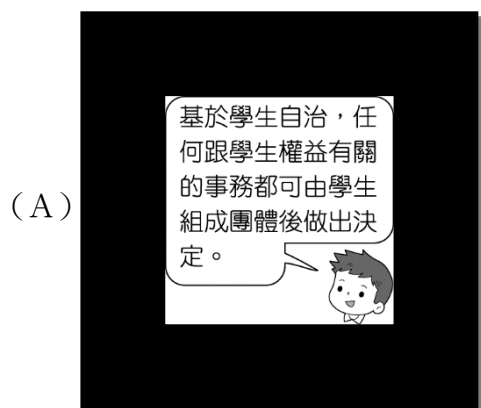
答案：(C)

5. ( ) 珍妮是法國人，今年和交往五年的臺灣籍男友大志登記結婚，兩人一起居住在臺北市。珍妮在家族聚會時和其他家人分享：「我是在大學時，到臺灣當交換學生，學習中文，因和大志有許多共同興趣，也很聊得來，很快就陷入熱戀，交往多年後，我決定定居臺灣，而且很幸運的在臺灣找到教師的工作，大志則和朋友一起經營餐廳。在經濟穩定的狀況下，我們也順利結婚，組成一個幸福的家庭。」公公婆婆緊接著問珍妮跟大志什麼時候要生小孩，讓她備感壓力。請問：珍妮現在屬於哪些家庭型態？(甲)單親家庭(乙)兩地家庭(丙)頂客家庭(丁)新住民家庭(戊)隔代教養家庭

(A) 甲戊 (B) 丙丁 (C) 甲乙 (D) 丙戊。

答案：(B)

6. ( ) 七年三班公民課正在進行學生自治的課程，老師請同學們探討學生自治的流程與注意事項，下列四位同學的說法何者正確？

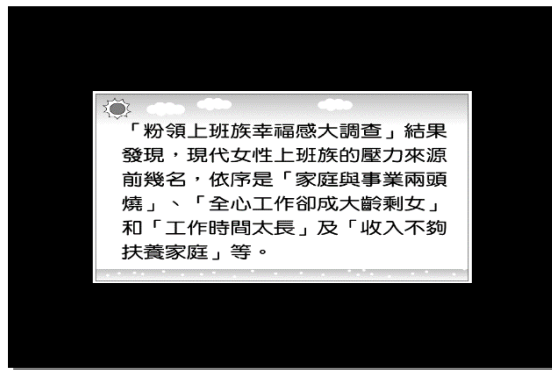


(C)



答案：(C)

7. ( ) 由附圖內容判斷，現代女性上班族擔心「收入不夠扶養家庭」，是怕無法發揮家庭的哪一項功能？



(A)生育功能 (B)教育功能 (C)經濟功能 (D)保護與照顧功能。

答案：(C)

8. ( ) 花蓮縣秀林鄉銅門部落太魯閣族人，因慕谷慕魚遊憩區過度觀光消費山林，造成塞車、空氣、噪音及垃圾汙染，原住民族文化遭邊緣化；銅門部落曾多次邀請相關單位開會協調，要求暫停核發入山證讓山林修養生息一年，但皆未獲得有效回應。根據上述的新聞判斷，下列敘述何者正確？

(A)觀光地區原住民不該介入 (B)部落應該召開部落會議三次以上才可提出抗議 (C)過度觀光的行為，嚴重破壞原住民生存的空間 (D)政府只需傾聽原住民的心聲即可。

答案：(C)

9. ( ) 屏東縣總人口數跌破 80 萬，面對 [A] 與 [B] 雙重壓力下，縣長未來的施政，希望能建構「以家庭為中心、社區為基礎」的照顧扶持系統，從嬰幼兒、兒童、青少壯年到長輩及弱勢族群，皆是未來縣府要守護、照顧的對象。請依據上文判斷，[A]、[B] 雙重壓力，應為下列哪些狀況？

(甲)家庭暴力問題頻繁(乙)老年人口逐年增加(丙)離婚率逐年上升(丁)生育率低迷

(A)甲乙 (B)乙丙 (C)乙丁 (D)丙丁。

答案：(C)

10. ( ) 2023 年適逢《世界人權宣言》第 75 週年，國家人權委員會與各國共同響應世界人權日，結合聯合國「人權 75」系列活動，推廣平等、自由、多元、正義、民主等普世價值，並與臺北 101 合作，在 12 月 10 日世界人權日當天晚上進行點燈活動，邀請所有生活在臺灣這塊土地上的人一同響應世界人權日，讓生而自由平等的理想，能夠落實到每一個角落。國家人權委員會舉辦上述活動，是希望達成何項目的？

(A)培養遵守法規的國民 (B)維護各國國民的參政權 (C)提倡人性尊嚴與落實人權保障 (D)訓練國人理性思考的能力。

答案：(C)

11. ( ) 依《國籍法》規定，外國人或無國籍者要取得我國國籍的途徑之一，是必須通過基本語言能力及國民權利義務基本常識測試。上述取得我國國籍的途徑是屬於何種方式？

(A)天生取得 (B)強迫取得 (C)歸化取得 (D)血緣取得。

答案：(C)

12. ( ) 「就算是貧窮人家，仍有身而為人的尊嚴，富人與窮人並無差異。」根據這段話的內容判斷，符合下列何者的內涵？

(A)制定法律落實人權保障 (B)人人有權過著有尊嚴的生活 (C)每個人先天條件不足，有賴國家提供資源 (D)尊重個人獨特性，排除偏見。

答案：(B)

13. ( ) 當全班正要對同學提出的議案進行表決時，正好學校的廣播器故障，發出刺耳的聲音，干擾了表決的進行，此時同學可以對主席提出下列何者？

(A)宣布散會 (B)臨時動議 (C)秩序問題 (D)權宜問題。

答案：(D)

14. ( ) 部落對原住民來說不僅是家的單位，更是管理自身原住民事務的地方。《原住民族基本法》明訂了部落的定義和相關權利。下列關於原住民部落的敘述，何者正確？

(A)原住民部落僅是政府給予的名稱，無法展現自治精神 (B)原住民能以部落為單位，進入立法院獲得席次 (C)都市的社區大樓也可以自稱為一個部落 (D)部落解決原住民生活的大小事，是共同生活的團體。

答案：(D)

15. ( ) 有名立法委員質詢時曾說道：「我們不是上帝，人權怎麼能公投？」若從人權的觀點出發，這位立法委員會這麼說的原因應是下列何者？

(A)對所有人都抱持尊重，不該對他人的人權加以限制 (B)每個人雖有普遍的人權，唯婚姻需靠他人的施捨 (C)人權具有普世的特徵，不值得我們為此努力 (D)人性尊嚴是普遍性的，亦即每個人有差等的尊重。

答案：(A)

