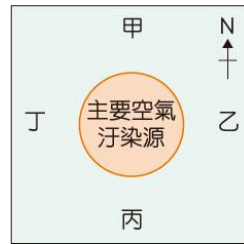


# 屏東縣大同高中 113-1(國中)九年級社會科補考題庫

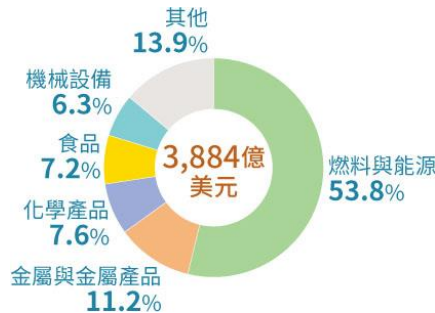
## 地理：

- ( B ) 1. 19 世紀時，英國部分都市居民居住的區域分布可差距。已知圖中某處為低技術勞動階級居住的區行風向的影響後，此處最可能位於圖中何處？  
 (A)甲 (B)乙 (C)丙 (D)丁
- ( C ) 2. 塑膠製品進入海洋後易隨著海流漂流，例如：有許隨著北大西洋暖流漂到北極圈以北的海域，冰封在得該區成為塑膠垃圾的儲存槽。下列何國沿海的垃圾隨著北大西洋暖流漂流到上述海域的機會最高？ (A)法國 (B)波蘭 (C)挪威 (D)義大利
- ( C ) 3. 2020 年 1 月 31 日某國正式退出歐盟，一向主張自由貿易的某國人要求脫歐的原因之一，便是為了更方便與其他國家建立直接的貿易關係。某國所指的是哪個國家？  
 (A)挪威 (B)法國 (C)英國 (D)德國
- ( B ) 4. 俄羅斯被譽為 21 世紀最具潛力體「金磚五國」之一。由附圖得出口品項以礦物及燃料為主，是什此項優勢？ (A)靠近北極圈豐富 (C)歐美國家的援助供資源
- ( A ) 5. 某回憶文章寫到：「我 10 歲時經歷幾次革命，迎來新政權與新我們的日子變得非常艱困。到了莫斯科的我們，沒有電燈、沒有水、沒有暖氣，因為寒冷，所有的水管都凍得爆裂，我們只得把書架和房間的夾板拆下燒火取暖。」文章中描述的莫斯科生活環境艱困，與下列何者關係最密切？ (A)位處較高緯度 (B)沿海寒流流經 (C)位居歐亞的交界 (D)地處高海拔地區
- ( A ) 6. 聯合國的世界幸福報告中，2022 年公布前三名的國家為芬蘭、丹麥、冰島，下列何者是這些國家的共同特色？ (A)社會福利佳 (B)實施計畫經濟 (C)納稅比重相較臺灣低 (D)國家普遍缺乏自然資源
- ( D ) 7. 美國具有多樣化的氣候類型，附圖是將美國界上其他國家的氣候特徵相比，把具有類似國家標示在該區域上。臺灣最可能標示在圖丁何處？ (A)甲 (B)乙 (C)丙 (D)丁



反映出貧富區域，考量盛

多塑膠垃圾冰層中，使



▲2021 年俄羅斯出口品項比例圖  
 (資料來源：Russia Briefing, 2022 年)

的新興經濟知俄羅斯出麼因素造就 (B)天然資源 (D)殖民地提

爆發戰爭，政策，之後冬天，住在



各區域與世氣候特徵的中甲、乙、丙、

( C ) 8. 附表為 2014 年中國、美國、印  
的棉花生產與消費資料。已知棉  
用在製造紡織產品，而棉紡織工  
較為低廉的地方。根據表中資料  
為美國？ (A)甲 (B)乙 (C)

( B ) 9. 「北美洲地廣人稀，因地形、氣  
發展出各具特色的大農業帶」，  
斷，北美洲的農業經營可能有哪

(A)游耕為主 (B)機械化為主 (C)自給自足為主 (D)觀光農業為主

( C ) 10. 智利首都聖地牙哥夏季乾燥、冬季多雨，主要是因夏、冬兩季分別受到哪個因素影  
響？

(A)東南信風、西風

(B)西風、東南信風

(C)副熱帶高氣壓、西風

(D)西風、副熱帶高氣壓

( A ) 11. 墨西哥是世界第四大汽車出口國，其國內投入汽車產業的員工眾多。由上述說明可  
以發現，墨西哥在工業發展中擁有何項區位優勢，讓美國願意與其發展經濟合作？

(A)勞工薪資低廉 (B)國土低平廣大 (C)技術先進優異 (D)政府運作穩定

( B ) 12. 美墨的邊境貿易占墨西哥國內生產毛額的 47%，卻僅占美國國內生產毛額約 3%。萬  
一關閉美墨邊界貿易，對哪國的經濟影響較大？為什麼？ (A)美國；與墨西哥貿易  
的比重較高 (B)墨西哥；與美國貿易的比重較高 (C)美國；仰賴墨西哥的勞工與技  
術 (D)墨西哥；仰賴美國的勞工與技術

( C ) 13. 阿翰在新聞報導中看到的內容如下：「2022 年 6 月美國、英國、日本、澳洲與紐西  
蘭成立『藍色○○○伙伴 (PBP)』，協助○○○上的島國發展及援助等議題。」新  
聞中描述的國家多位於哪個海洋沿岸？ (A)大西洋 (B)印度洋(C)太平洋 (D)北  
極海

( D ) 14. 阿翰利用暑假前往位於大洋洲的紐西蘭度假，某日中午到牛排店用餐，發現紐西蘭  
的牛肉口感緊緻且油花分布均勻。從店家得知，紐西蘭以放牧方式畜養，牛隻有足  
夠的活動空間與運動量，因此牛肉口感遠比其他國家欄牧飼養的牛肉更好。他回國  
後查詢資料發現，紐西蘭的畜牧業採放牧與機械化生產，造成此生產方式的原因為  
何？ (A)氣候乾燥 (B)技術受限(C)地形崎嶇 (D)勞力缺乏

( A ) 15. 澳洲除了有袋鼠和無尾熊外，還有鴨嘴獸、袋熊等獨特的野生動物，這與下列哪  
些原因最有關？

(A)四面環海、位置孤立 (B)地勢高聳、人口稀少

(C)氣候乾燥、沙漠廣布 (D)面積廣大、多棲息地

單位：萬噸

國 家	國內棉花生產 量	國內棉花消費 量
甲	713.1	751.2
乙	675.0	508.4
丙	281.1	77.3
丁	206.8	226.4

度和巴基斯坦  
花的消費主要  
廠多設在勞力  
判斷，何者應  
丙 (D)丁  
候及市場需求  
由上面敘述判  
項 特 色 ？

## 歷史：

1. 哪一個宗教不是一神信仰?(A)猶太教 (B)基督教 (C)伊斯蘭教 (D)祆教。

2. 埃及人相信死後有來生，虔誠信仰、繁複禮儀、妥善的屍體保存等，都是為了以備來世之

- 需。哪些埃及人的作為與其上述觀念有關？(甲)木乃伊 (乙)法老崇拜 (丙)陰曆 (丁)金字塔 (A)甲丙 (B)甲丁 (C)乙丙 (D)丙丁
3. 西元前 6 世紀，居住伊朗高原的哪一民族建立帝國橫跨歐、亞、非三洲？(A)腓尼基 (B)蘇美 (C)埃及 (D)波斯。
4. 釋聞開了家印度百寶店販賣印度歷史相關商品，但與實際情況有很大出入。請選出最符合印度歷史發展的商品？(A)阿育王石柱形的佛教吊飾 (B)種姓制度的眾生平等鞋(C)婆羅門教經典—心經樂曲 (D)漢摩拉比法典鑰匙圈。
5. 何者不是西亞古文化主要分布地區？(A)兩河流域 (B)小亞細亞 (C)伊朗高原 (D)地中海西岸。
6. 宗教改革的主因？(A)教會腐化 (B)伊斯蘭教入侵 (C)國家領導人之爭 (D)蒙古西征。
7. 哪個政權未曾統治過巴爾幹半島？(A)羅馬帝國 (B)拜占庭帝國 (C)阿拉伯帝國 (D)鄂圖曼帝國。
8. 明末清初，從西方來中國的傳教士多屬於那一教派？(A)天主教耶穌會 (B)英國國教派 (C)東正教 (D)路德教派。
9. 《天方夜譚》反映哪一城市風光，與當時中國唐朝首都遙望？  
(A)巴格達-長安 (B)羅馬-洛陽 (C)麥加-洛陽 (D)君士坦丁堡-長安。
10. 何者是文藝復興的背景？(A)地理大發現 (B)造紙術與活字印刷術造就知識傳播 (C)宗教改革 (D)蒙古西征。
11. 大航海時代，哪位航海家船隊最先到達印度？(A)哥倫布(B)達伽馬 (C)狄亞士 (D)麥哲倫。
12. 促成大航海時代的原因，何者有誤？(A)王室支持 (B)貿易與傳教 (C)航海技術進步 (D)工業革命。
13. 現今許多民主國家都設有總統、國會和各級法院，三者的權力相互制衡。這種體制源自何人的思想？(A)盧梭 (B)孟德斯鳩 (C)洛克 (D)亞當斯密。
14. 何者是伏爾泰的思想？(A)君權神授 (B)言論自由 (C)天賦人權 (D)三權分立。
15. 十五世紀後期，哪個國家最早從事海外探險，揭開大航海時代序幕？(A)英國 (B)荷蘭 (C)西班牙 (D)葡萄牙。

1. 答案：(D)

2. 答案：(B)

3. 答案：(D)

4. 答案：(A)

5. 答案：(A)

6. 答案：(A)

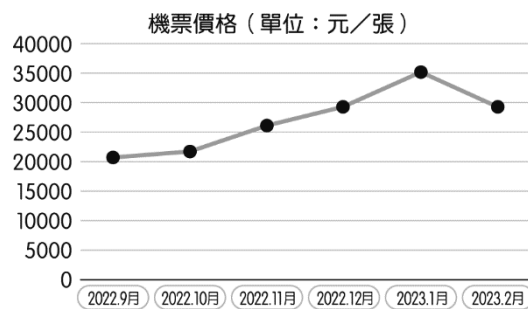
7. 答案：(C)

8. 答案：(A)

9. 答案：(A)  
 10. 答案：(A)  
 11. 答案：(B)  
 12. 答案：(D)  
 13. 答案：(B)  
 14. 答案：(B)  
 15. 答案：(D)

## 公民：

1. 「勞雇雙方協商減少工時」(俗稱無薪假)是指當事業單位受景氣因素影響，為避免資遣員工，造成更多社會問題，雇主與勞工先行協商減少工時。但事業單位實施無薪假並沒有強制通報機制，倘若企業實施無薪假卻未向地方勞政主管機關通報，並沒有違法，導致部分被放無薪假的勞工淪於黑數。勞動部幕僚表示，減班休息法制化目前正在研議中，規畫將修正《就業服務法》且加上罰則，細節尚待評估。請問：
- ( ) (1) 雇主做出減班休息的決策與下列何者無關? (A) 可以降低雇主的成本 (B) 會降低受僱者的工作時數 (C) 對職場的安全衛生有影響 (D) 會影響受僱者的工作收入。
- ( ) (2) 根據上文判斷，下列敘述何者正確? (A) 事業單位未通報實施減班休息會遭罰款 (B) 雇主可單方面決定讓受僱者減少工時 (C) 政府統計的減班休息人數可能有誤 (D) 政府將修改《勞動基準法》以改善問題。
- ( ) (3) 文末提及政府相關單位正在研議減班休息法制化，顯示政府扮演的角色應為下列何者? (A) 保障雇主利益 (B) 保障受僱者權益 (C) 公平顧及各方利益 (D) 維護政府自身利益。
2. 疫情過後，各國紛紛開放外國遊客入境，旅行社逐漸恢復開辦國外旅遊團的業務，航空公司的航班日益增加。假設附圖為6個月內前往日本來回機票的價格，請依據圖中內容判斷，回答下列問題。



- ( ) (1) 若只以價格考量，下列哪個時間點航空公司較願意增加前往日本的機位數量?  
 (A) 2022年9月 (B) 2022年10月 (C) 2022年11月 (D) 2023年2月。
- ( ) (2) 若只以價格考量，下列哪個時間點民眾願意購買日本機票的意願最低?  
 (A) 2022年9月 (B) 2022年11月 (C) 2023年1月 (D) 2023年2月。
- ( ) (3) 依照圖中訊息，在2023年1月時，旅行社開辦日本旅遊團這項產品與2022年10月相比，在所收費用和出團數量均沒有改變的情況下，下列推論何者正確?  
 (A) 銷貨收入減少 (B) 銷貨收入增加 (C) 生產成本降低 (D) 生產成本提高。

3. 2011 年歐債危機時，瑞郎（即瑞士貨幣）成了歐洲人的避險工具，當時瑞士政府為了穩定匯率，瑞士央行買進大量的歐元和美金等外幣，也因為如此，瑞士成為全球第 5 大的外匯存底國；此外，瑞士央行為了防止瑞郎走勢太強，宣布實施匯率底線，限制在 1.20 歐元，使瑞郎匯率和歐元綁一起。2015 年，瑞士央行突然宣布，瑞郎不再與外幣匯率掛勾，瑞士出口業者認為此舉恐怕會重創瑞士出口業。但是，專家對此表示：「為了振興歐洲經濟，歐洲央行將祭出量化寬鬆（即多發行歐元），屆時，瑞士若仍維持與歐元的匯率底線，所要付出的成本將更高，因此脫鉤是必要的決定。」請問：

( ) (1) 根據上文中畫雙線部分所述，瑞士央行此舉可直接達到哪一種目的？ (A) 有利提高該國薪資水準 (B) 有利該國進口業者 (C) 有利降低該國物價水準 (D) 有利該國出口業者。

( ) (2) 歐洲央行祭出量化寬鬆後，瑞士若仍維持與歐元的匯率底線，根據上文中專家的說法，為何瑞士所要付出的成本會更高？ (A) 會造成歐元貶值，連帶使瑞郎貶值 (B) 會造成歐元升值，相對瑞郎會貶值 (C) 會造成歐元貶值，相對瑞郎升值 (D) 會重創瑞士出口業。

4. 請閱讀以下文章，並回答問題：

2019 年底，新型冠狀病毒肆虐全球。我國除祭出口罩實名制的政策，快速增加生產線，以取代原本以中國生產為主的分工貿易體系，使口罩的供給從每週 3 片成長至兩週 10 片；還發行振興三倍券，以線上及實體票券限期消費的方式，期望刺激消費，振興經濟。

相較於我國的有效防疫，世界各國的情勢嚴峻許多，各國政府猶豫著該選擇防止疫情擴散而封城，或者開放以挽救即將崩潰的經濟。各國紛紛下達交通限制禁令，造成不少通商、返航的不便。一群荷蘭學生原定從古巴搭飛機回家，因遇到各國飛航限制，最後在船員與教師的協助下，一同駕船從加勒比海啟航，橫越大西洋返回家鄉。但民意與市場也帶來了許多紛擾，以美國為例，一方面因民眾搶購而有商人哄抬口罩價格的情形，另一方面也有大量民眾拒絕戴口罩，而以網路輿論或遊行的方式，抵抗政府的命令。

新型冠狀病毒的疫情仍未平復，各國期待透過接種疫苗，吹響人類對抗病毒的勝利號角。

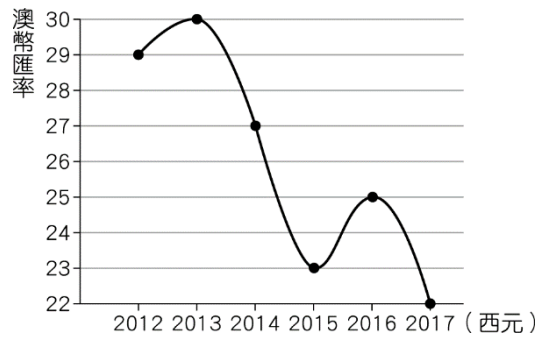
( ) (1) 我國過去曾經與中國一樣，擔任加工初級產品的分工角色，後來轉變的原因為何？ (A) 石油危機帶來的改變 (B) 受到中國的惡意削價競爭 (C) 退出聯合國後，被歐美國家排擠 (D) 薪資逐步成長後，產業隨之轉型。

( ) (2) 各國政府要採取何種措施以避免疫情擴散，其涉及的概念，與下列何者相同？ (A) 看不見的手 (B) 我思故我在 (C) 魚與熊掌不可兼得 (D) 一日之所需，百工斯為備。

( ) (3) 針對荷蘭學生駕船橫越大西洋返回家鄉的行為，網友紛紛表示「某時期再臨」，請問：某時期最有可能是下列何者？ (A) 宗教改革 (B) 科學革命 (C) 啟蒙運動 (D) 大航海時代。

( ) (4) 部分美國民眾拒絕戴口罩的理由，與敏蒙運動哪位思想家的想法最有關？ (A) 洛克 (B) 盧梭 (C) 伏爾泰 (D) 孟德斯鳩。

5. 大學剛畢業的小米認為臺灣的薪水過低、工時長，為了賺錢而申請到澳洲度假打工兩年，工作內容為果園採果。附圖為 2012~2017 年澳幣匯率的走勢圖。請問：



- ( ) (1) 2012 年與 2013 年小米於澳洲度假工作的兩年間，澳幣的走勢為何？ (A) 升值 (B) 貶值 (C) 不變 (D) 無法判斷。
- ( ) (2) 小米於 2014 年初回到臺灣，欲將兩年工作的存款兌換成新臺幣，根據附圖判斷，他應選擇在下列哪一年兌換？ (A) 2014 年 (B) 2015 年 (C) 2016 年 (D) 2017 年。
- ( ) (3) 回臺後，小米透過在澳洲時建立的人脈，進口當地商品在臺灣販售。若不考慮其他因素，只根據匯率判斷，則小米在哪一年的獲利最多？ (A) 2014 年 (B) 2015 年 (C) 2016 年 (D) 2017 年。

### 一、題組 (每格 6.5 分，共 97.5 分)

1. 答案：(1)(C)；(2)(C)；(3)(C)

**解析**：(1)(C) 安全衛生與受僱者的健康較相關。

(2) 文中提及企業實施無薪假未通報並無違法，導致部分被放無薪假的勞工淪於黑數。

(3) 政府擬修法促進公平的市場勞動參與。

2. 答案：(1)(D)；(2)(C)；(3)(D)

**解析**：(1) 機票價格高，航空公司願意增加航班。

(2) 機票價格變高，民眾消費意願會降低。

(3) 2023 年 1 月分機票價格比 2022 年 10 月分高，開團的成本因此提高。

3. 答案：(1)(D)；(2)(A)

**解析**：(1)(D) 使瑞郎限制在 1.20 歐元，壓制瑞郎的漲幅，相對外國貨幣購買力增強，有利瑞士出口業者。

(2)(A) 瑞士若仍維持與歐元的匯率底線，代表維持在 1.20 歐元，而歐洲央行祭出量化寬鬆 (即多發行歐元)，會造成歐元貶值，連帶使瑞郎貶值。

4. 答案：(1)(D)；(2)(C)；(3)(D)；(4)(A)

5. 答案：(1)(A)；(2)(A)；(3)(D)

**解析**：(1) 2012 年至 2013 年澳幣從 29 上升到 30，為升值。

(2) 選項中 2014 年的澳幣匯率最高，可兌換成最多新臺幣。

(3) 澳幣貶值時，小米進口商品的成本降低，故選(D)。