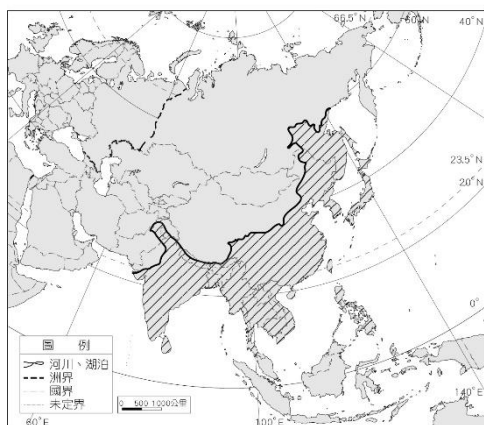


屏東縣大同高中 113-1(國中)8 年級社會科補考題庫

地理：

單題(地理 15 題)

1. () 中國東部海岸像是一張弓，長江流域就是一支箭。下列哪一個都市剛好位於這副弓和箭的「T」字支點上？ (A)廣州 (B)上海 (C)武漢 (D)天津。
2. () 近年來，中國已從「世界工廠」逐漸成為「世界市場」，下列何者是中國成為世界市場的主因？ (A)消費能力提升 (B)全球出口額排名第一 (C)和各國簽訂自由貿易協定 (D)人口眾多。
3. () 中國對外投資的資金快速增加，投資範圍遍及全球，請問：中國的對外投資金額，以下列哪一個地區最高？ (A)亞洲 (B)美洲 (C)歐洲 (D)非洲。
4. () 根據氣候型態可以將亞洲劃分為四大地區，請問：附圖中斜線部分所呈現的應該為哪一種氣候區？ (A)寒帶氣候區 (B)季風氣候區 (C)高地氣候區 (D)乾燥氣候區。



5. () 中國的地勢大致可分成三級階梯。請問：分成三級階梯的主要依據為何？ (A)平均海拔高度 (B)地形種類多寡 (C)地質岩層排列 (D)主要山脈走向
6. () 附圖深色處為中國的五個自治區。請問：代號甲~丁中，何者所在的地勢階梯及主要氣候類型，與其他三者最不相同？ (A)甲 (B)乙 (C)丙 (D)丁。

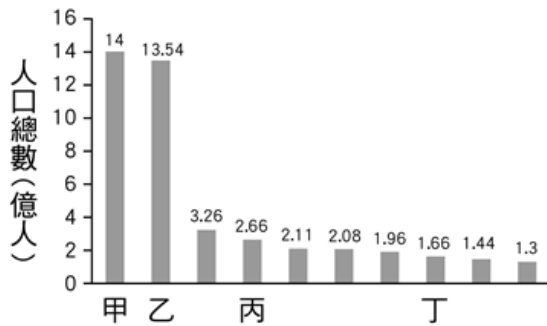


7. () 中國考量族群與文化的完整性，設置自治區。依照附圖的分區來說，自治區分

布面積最廣的區域位在哪兩區？ (A)甲乙 (B)甲丁 (C)乙丙 (D)丙丁。



8. ()中國西部區域居民的飲食多為「紅食白食」，紅食為肉品，白食則是各種乳製品。這種飲食習慣的形成，受下列何項因素影響最大？ (A)宗教規定 (B)地形崎嶇 (C)畜牧業為主 (D)冬季嚴寒。
9. ()中國西半部居民多從事畜牧活動，但少數地區則有農業活動。下列何者最可能是該地區有無農業活動的關鍵因素？ (A)地形 (B)氣溫 (C)灌溉 (D)交通。
10. ()哈瑪是新疆天山地區的牧民，每年固定趕著細毛羊，過著順應季節更替驅趕牲口的生活。請問：上述哈瑪的維生方式應為下列何者？ (A)攔牧 (B)放牧 (C)逐水草而居的水平式游牧 (D)垂直移動的山牧季移。
11. ()附圖為西元 2018 年全球人口數量排行前十名的國家，其中甲國雖於西元 2023 年人口數量被乙國超越，但甲國是全球最早達到 14 億人口數的國家。請問：圖中的甲國為何？ (A)中國 (B)印度 (C)日本 (D)巴西。



12. ()附圖為中國主要礦產分布。下列中國的地理現象中，何者與此空間分布的關係最密切？ (A)長江流域開發較早、人口密集 (B)北部交通運輸以陸運為主 (C)北部的重工業較南部發達 (D)經濟特區皆設於南部沿海地區。



13. () 中國西部經濟帶與中部及東部經濟帶相較，具備下列哪一種發展的優勢條件？
(A) 人口素質高 (B) 陸運交通便捷 (C) 天然資源豐富 (D) 引進外資方便。
14. () 由於區域發展不均，故中國提出「西部大開發」政策，下列有關該政策的敘述何者正確？ (A) 將長江流域的天然氣送往黃河流域 (B) 將淮河水調往珠江 (C) 將環渤海地區的石油輸至西部內陸 (D) 青藏鐵路開通帶動觀光業發展。
15. () 水力發電是利用水位高低落差，使水流帶動渦輪機轉動，日本的自然環境有利於水力發電，此一特徵形成的主要原因為何？ (A) 洋流經過 (B) 位居高緯 (C) 板塊擠壓 (D) 季風吹拂。

解答：BAABA DACCD ACCDC

歷史：

- (A)1. 自強運動時，清廷設立哪一機構統籌外交事務？(A)總理各國事務衙門 (B)輪船招商局 (C)北洋艦隊 (D)西學堂。
- (A)2. 北京大學的成立可追溯到哪個歷史事件？(A)戊戌變法 (B)庚子後新政 (C)戊戌政變 (D)立憲運動。
- (C)3. 日俄戰爭的主因？(A)爭奪山東 (B)租界衝突 (C)東北權益 (D)國界糾紛。
- (B)4. 哪項建設是自強運動的成果？(A)廢除科舉 (B)鐵路建設 (C)大臣出國考察 (D)君主立憲。
- (D)5. 哪一個戰爭的原因與宗教有關？(A)鴉片戰爭 (B)英法聯軍 (C)日俄戰爭 (D)八國聯軍。
- (D)6. 徐光啟著作農政全書記載何種作物可「救飢」？(A)洋蔥 (B)在來米 (C)蕃茄 (D)蕃薯。
- (B)7. 關於宋代人的生活，何者正確？(A)市坊分設 (B)夜市 (C)使用寶鈔 (D)種植花生、玉米、馬鈴薯。
- (B)8. 何者並非明末的內憂外患？(A)蒙古 (B)歐洲人 (C)女真 (D)流寇。
- (D)9. 火藥到何時開始運用於戰爭？(A)秦 (B)漢 (C)唐 (D)宋。
- (C)10. 市舶司設立原因？(A)維護治安 (B)配合驛站 (C)海外貿易 (D)集中檢疫。
- (D)11. 魏晉南北朝社會特色何者正確？(A)經學傳家 (B)用人唯才 (C)布衣卿相 (D)世族鼎盛。

(D)12. 何者不是北魏孝文帝的漢化措施？(A)禁胡服 (B)禁胡語 (C)鼓勵胡漢通婚 (D)鼓勵傳統姓名登記。

(A)13. 西周如何規範周人活動及生活，以穩定周代政治秩序？(A)禮樂措施 (B)郡縣制度 (C)皇帝制度 (D)編列戶籍。

(C)14. 關於秦國編列戶籍措施，何者錯誤？(A)掌握人口 (B)徵集租稅、兵員和勞役 (C)區別尊卑等級 (D)家戶為單位。

(D)15. 有一個學派，主張國君應實施仁政，該學派的代表人物為何者？(A)商鞅 (B)韓非 (C)老子 (D)孔子。

公民：

1.()下列新聞報導內容引發小禾的關注，根據報導內容與國家組成要素判斷，文中的阿布哈茲是否為國家的爭議，與下列何種國家組成要素最直接相關？(A)領土 (B)主權 (C)政府 (D)人民。

阿布哈茲(Abkhazia)地處黑海東岸，位於黑海和大高加索山之間，是一片狹長的低地。其雖然存在於地圖之上，也有政府管理公共事務，人民正常的生活與依法納稅，但聯合國及其他絕大部分國家認為其只是喬治亞的一部分，也不是國際組織的成員。

2.()下列是小禾和小東討論國家和政府關係的部分對話內容。若小禾要進一步回答小東的提問，則下列何項回答才正確？(A)國家不會因為選舉結果而被取代 (B)政府的更替不會影響國家的存在 (C)國家的功能有賴政府去具體實現 (D)國家是具永久性與持續性的整體。

國家的存在可以提供人民眾多的服務。



小禾

既然如此，有國家就好了，為何還需要政府呢？



小東

3.()法治與人治是相對的概念，下列有關「人治」的說明，何者是正確的？(A)人治是指統治者可以依據自己的想法修改法律 (B)人治國家政策的制訂必須遵循多數人民

的意見 (C)統治者依循一致的標準執行法律是人治的特點 (D)人治是指人民可以自行解釋法律保障個人權利。

4. ()下列四位同學在下課時間討論公民與社會課中有關「法治」的內容，哪一位同學的說法是正確的？

(A)

法治是指由統治者制定法律，而且所有人都必須守法。



昊文

(B)

法治國家的法律由民意代表制定，約束統治者及人民。



允喬

(C)

在法治國家一切事務都交由法律治理，並沒有統治者。



吉力

(D)

法治能夠有效限制人民的權力，以避免多數民眾濫權。

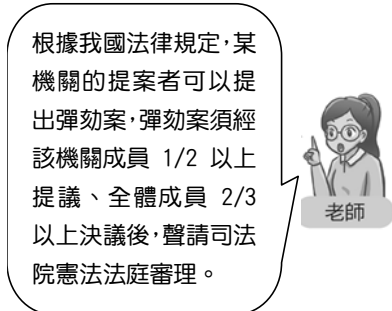



可青

5. ()英國學者阿克頓爵士(Lord Acton)曾指出：「權力使人腐化；絕對的權力使人絕對腐化。」為了避免政府濫權，必須建立一個權力受到人民監督與約束的「有限政府」。

下列何者並非「有限政府」的精神？ (A)權力分立 (B)相互制衡 (C)依法行政 (D)政黨政治。

6. () 公民課剛下課時，有學生詢問老師關於今天上課內容的一些疑惑……




上述老師所說的「提案者」應該為下列何者？ (A)法官 (B)大法官 (C)監察委員 (D)立法委員。

7. () 下列是兩個朋友間的對話，從對話內容可知，小莉參加的考試最可能是由下列何者所舉辦？ (A)教育部 (B)銓敘部 (C)考選部 (D)內政部。

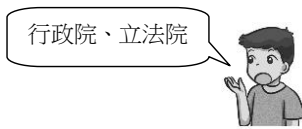


8. () 近年來，每到颱風季常會帶來超大豪雨，有些低窪地方時常發生水患。我國中央政府提供各項治水經費給予地方政府使用，希望能從根本解決水患問題。若依我國相關法令，針對此筆經費的預算與決算審查機關，下列何人的說明是正確的？

(A)

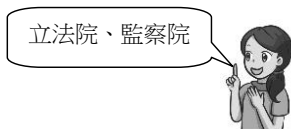


(B)



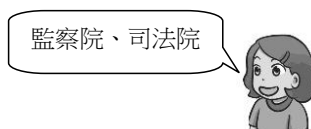
小安

(C)



阿彩

(D)



小薇

9. () 根據下列小禾與媽媽的談話內容判斷，如果小禾想對這件事情有更深入的了解，可在搜尋引擎查找下列哪一個關鍵字，最有可能找到相關內容？ (A) 行政院 (B) 立法院 (C) 司法院 (D) 監察院。



10. () 我國憲法規定軍備採購、外交事務等由中央政府籌謀，而都市計畫擬定、垃圾處理方式等，則由地方政府規畫。當上述事務權限劃分發生爭議時，依我國相關法令判斷，應由下列何者處理此爭議？ (A) 總統 (B) 立法院 (C) 司法院 (D) 監察委員。

11. () 新北市政府啟用加強身心障礙者照顧及工作技能培訓的小型作業所「三重五華日間照顧服務中心」，市長表示多照顧一個身心障礙者就能多幫助一個家庭，減輕其家庭的經濟負擔。以上敘述屬於何種地方政府的自治事項？ (A) 教育文化 (B) 安全衛生 (C) 社會服務 (D) 經濟發展。

12. () 在民主國家中，民眾會組成利益團體向政府反映意見，藉此影響政府的政策，使其較符合該團體的訴求。下列何者最可能是利益團體為實現其訴求而採取的行動？ (A) 對有關單位的官員進行遊說，以直接表達訴求 (B) 規畫具體的政策後，送交立法機關審議並表決 (C) 質詢有關單位的官員，並要求修正政策或法案 (D) 糾正推動政策不力的

政府部門，要求限期改善。

13. () 西元 2018 年地方九合一大選時，設籍於臺北市的家恩首次參與選舉，並將他手中神聖的一票投給他心目中理想的候選人。依據我國法律規定，家恩應於臺北市設籍滿幾個月才有選舉的資格？ (A)3 個月 (B)4 個月 (C)5 個月 (D)6 個月。

14. () 不分性別、收入、教育程度、宗教信仰、階級、黨派為何，只要符合投票資格的人民，人人都有投票權。此為選舉的何項原則？ (A)普通原則 (B)平等原則 (C)直接原則 (D)無記名原則。

15. () 小芳是設籍於高雄市首次投票的選民，迫不及待想參與投票關心臺灣的未來。小芳在投票時應該注意下列哪一事項？ (A)要帶投票通知單，印章及身分證不一定要帶 (B)一定要在選票的圈選欄蓋上自己的私人印章 (C)選票投入票匭前，要先將選票內容公開亮票 (D)在投票所中不可以使用手機或數位相機拍照。

解答

壹、選擇-：(每題 0 分。共 0.0 分)：

1. 《答案》B

2. 《答案》C

3. 《答案》A

4. 《答案》B

5. 《答案》D

6. 《答案》D

7. 《答案》C

8. 《答案》C

9. 《答案》C

10. 《答案》B

11. 《答案》C

12. 《答案》A

13. 《答案》B

14. 《答案》A

15. 《答案》D