

# 113-2 八年級社會科補考題庫


## 八年級社會領域歷史科補考題庫

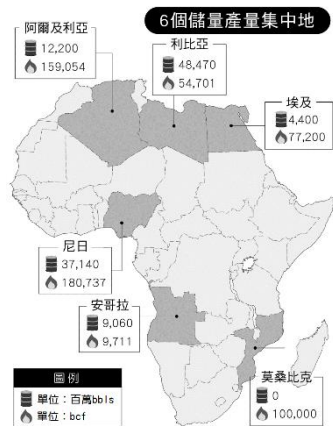
- (C)1 中國首座佛寺白馬寺在★的「破四舊」被損毀，★為何？(A)大躍進 (B)五四運動 (C)文化大革命 (D)新文化運動。
- (B)2. 新文化運動時期的德先生和賽先生指的是何者？(A)民族、科學 (B)民主、科學 (C)民主、社會 (D)民族、共產。
- (A)3. 以擴充軍備、發動侵略戰爭為國家發展的宗旨，政府施政和國民生活都須以此為目標，此稱為？(A)軍國主義 (B)民主政治 (C)以黨領政 (D)以軍領政。
- (B)4. 第二次世界大戰後，不依附美蘇兩大強權的亞洲、非洲與中南美洲國家稱為？(A)世界工廠 (B)第三世界 (C)特別行政區 (D)新南向國家。
- (A)5. 六四事件的背景不包括？(A)退出聯合國 (B)貧富差距大 (C)官員貪汙 (D)言論受限。
- (A)6. 袁世凱死後的政局發展，何者正確？(A)軍閥割據 (B)軍隊國家化 (C)君主立憲 (D)東西分裂。
- (C)7. 那篇文章是白話文創作的典範？(A)美國的婦人 (B)真正摩登女子 (C)狂人日記 (D)時事畫報。
- (B)8. 「蘇聯完了，…中國向何處去？」此段話出自何人？(A)習近平 (B)鄧小平 (C)毛澤東 (D)胡耀邦。
- (A)9. 第二次世界大戰後，美國為首的民主國家和蘇聯為首的共產國家形成相對峙又抑制，避免全面衝突的情勢稱為？(A)冷戰 (B)零和 (C)雙贏 (D)共好。
- (B)10. 鄧小平推動的「改革開放」政策，主要是針對哪方面？(A)法律 (B)教育 (C)經濟 (D)政治。
- (B)11. 何者是日本鼓吹「大東亞共榮圈」的實際行動？(A)追求東亞和平繁榮 (B)掠奪石油橡膠戰爭資源 (C)統合東亞成為一個經濟區域 (D)協助東亞各國獨立自主。
- (A)12. 國民政府於國共內戰失敗的原因？(A)中日戰爭時，中共在統治區改革獲支持 (B)未處理中共官員貪汙問題 (C)美國調停具成效 (D)中共獲日本協助。
- (D)13. 何事使中共局勢轉危為安？(A)滿洲國 (B)訓政 (C)清黨 (D)西安事變。
- (A)14. 「五九國恥」與「五四運動」共同點？(A)與日本有關 (B)袁世凱造成 (C)地點在南京 (D)第一次世界大戰期間發生。
- (D)15. 何地不是中華人民共和國在1980年起設立的經濟特區？(A)深圳 (B)珠海 (C)廈門 (D)上海。

## 八年級社會領域地理科補考題庫

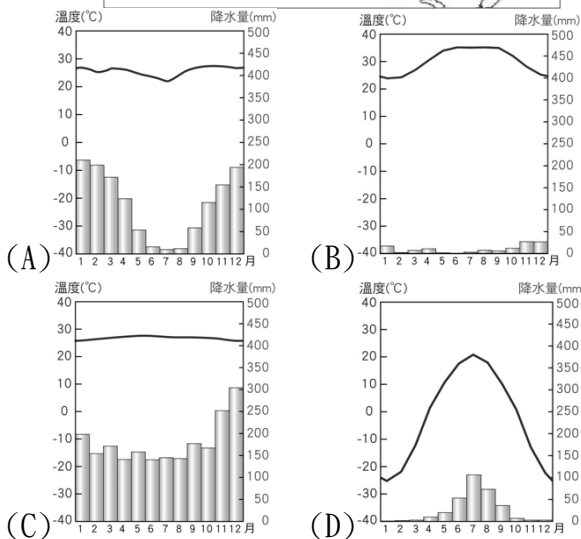
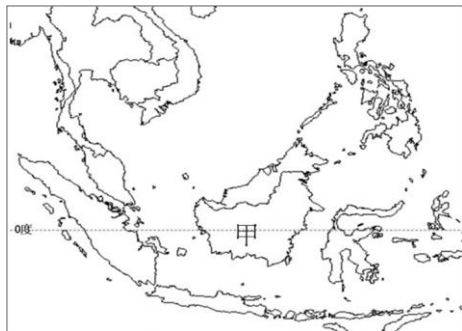
1. ( ) 西元2020年，圖坦卡門法老王的黃金寶藏特展在埃及政府准許下於臺灣展出，展場海報說明了埃及迷人的神話與信仰。海報中有一標題寫著：「埃及古文明的孕育受到□□□影響最大」，上述空格中的文字應為下列何者？(A)尼日河 (B)約旦河 (C)幼發拉底河

(D)尼羅河。

2. ( ) 非洲不少國家經濟發展落後，長期陷入內戰、人民流離失所。請問：造成非洲許多國家政局動盪的最主要原因為何？ (A)種族衝突 (B)經貿衝突 (C)宗教衝突 (D)世代衝突。
3. ( ) 中國推動一帶一路政策，主要透過海運連結中南半島。請問：當地哪一國家因地處內陸，較難成為該政策拉攏的對象？ (A)越南 (B)寮國 (C)柬埔寨 (D)泰國。
4. ( ) 非洲陸塊上分布著許多盆地，這些盆地由北而南依序排列，正確順序應為何？(甲)撒哈拉盆地 (乙)剛果盆地 (丙)喀拉哈里盆地 (A)甲乙丙 (B)甲丙乙 (C)乙甲丙 (D)丙乙甲。
5. ( ) 「這是東南亞地區的一個區域經濟組織，目前會員國有十國，成立的目的主要是促進經濟、社會、文化合作及增進人民福祉，並維持地區政治局勢穩定以抵抗外來強權。」引文所指的組織為何？ (A)A S E A N (B)A P E C (C)E U (D)W H O。
6. ( ) 附圖是非洲某資源的分布狀況，依據圖中資訊判斷，其所指的資源最可能是下列何者？ (A)可可 (B)石油 (C)鐵礦 (D)橡膠。

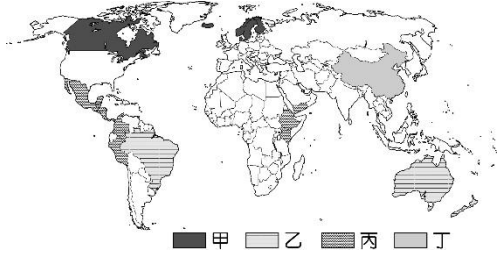


7. ( ) 附圖是東南亞氣候分布圖，下列選項中哪一張氣候圖可能出現在甲區？



8. ( ) 「公平交易咖啡」倡議消費者購買經由公平貿易認證組織核准的咖啡，透過合理價格向經濟弱勢國家的生產者購買，幫助這些農民提高收入和生活品質。依據咖啡的生產地及世界各國的經濟發展情形判斷，附圖中哪一類型的國家最可能是「公平交易咖啡」的產地？

(A)甲 (B)乙 (C)丙 (D)丁。



9. ( ) 好利節(Holi)是印度重要的節慶，通常在每年2、3月之間舉辦，主要是為了慶祝春天的到來，並祈求穀物順利豐收。該節慶舉辦時，大致是哪兩種季節的轉換期？ (A)雨季轉換為涼季 (B)涼季轉換為熱季 (C)熱季轉換為雨季 (D)涼季轉換為雨季。
10. ( ) 根據十六世紀來往商旅撰寫的日記寫道，在遠處就已嗅到島上瀰漫的香料肉桂氣息，還可以看到山上留下多道黑色的疤痕，荷蘭人曾記錄他們眼前見到「只有灰燼、火焰和煙霧」的景象。請問：上文中所述的地區最有可能位於下列哪一個國家境內？ (A)日本 (B)臺灣 (C)印尼 (D)印度。
11. ( ) 附圖漫畫是描述西亞地區兩個民族自古以來的糾紛。造成兩個民族紛爭的原因不包括下列何者？ (A)宗教 (B)水源 (C)石油 (D)領土。
12. ( ) 西元2010年，位於阿拉伯聯合大公國的杜拜哈里發塔在全世界的關注之下風光啟用。這座高828公尺的哈里發塔，繼帆船飯店之後，成為該國的重要地標。上述國家最可能曾因下列哪一個事件，上過國際新聞？ (A)與以色列爭奪約旦河西岸，爆發戰爭 (B)遭伊拉克入侵，引發波斯灣戰爭 (C)世界前十大石油蘊藏量國家，申請加入OPEC (D)世界三大宗教的聖城，吸引信徒前來朝聖。
13. ( ) 印度半島和臺灣一樣都有北回歸線經過，但臺灣冬季較為寒冷，而印度半島冬季卻較溫暖。請問：造成印度半島這種氣候現象的主要因素為何？ (A)陸塊面積廣大 (B)沿海暖流調劑 (C)北有高山屏障 (D)人口數量較多。
14. ( ) 大同國中的四位學生正在討論尼羅河沿岸的特色，何者的看法錯誤？ (A)丁丁：「河川注入幾內亞灣，沖積成三角洲。」 (B)拉拉：「下游沿岸成帶狀綠洲，農業發達。」 (C)迪西：「在這些肥沃的土壤上，孕育了人類重要的古文明。」 (D)曉波：「埃及在該河興建一座高壩，具有灌溉、防洪、發電功能。」
15. ( ) 百年前，附圖中的甲河會在夏季定期氾濫。請問：甲河定期氾濫的原因，可能與其上游流經哪一個氣候區有關？ (A)熱帶雨林氣候區 (B)熱帶莽原氣候區 (C)熱帶沙漠氣候區 (D)溫帶地中海型氣候區。

1.(D) 2.(A) 3.(B) 4.(A) 5.(A)  
6.(B) 7.(C) 8.(C) 9.(B) 10.(C)  
11.(C) 12.(C) 13.(C) 14.(A) 15.(B)

八年級社會領域公民科補考題庫

1. ( ) 下列哪一種生活中的紛爭，可以用調解的方式來解決？ (A)民事案件 (B)釋憲爭議 (C)所有刑事案件 (D)非告訴乃論的刑事案件。
2. ( ) 為增進出獄者順利就業的機會，臺灣更生保護會提供就業資訊，協助出獄者做好生涯規畫，儘速融入就業市場。請問：根據上述內容判斷，臺灣更生保護會的做法是為了達到下列何種目的？ (A)報復他人 (B)懲罰犯罪 (C)嚇阻犯罪 (D)幫助犯罪行為人回歸社會。
3. ( ) 人們如果違反《民法》規定應遵守的義務，就須負起下列何種責任？ (A)憲法責任 (B)刑事責任 (C)民事責任 (D)行政責任。
4. ( ) 對一個人科以刑罰的前提，是行為人必須能為自己的行為負責；沒有識別能力，無法為自己行為負責的人，會面臨下列何種情況？ (A)負起行政責任 (B)須加倍賠償 (C)被處以罰鍰 (D)不處以刑罰。
5. ( ) 下列何種行為符合《民法》的「誠實信用」原則？ (A)泡麵廠商將快到期的食品擺放在惜食區，並以海報清楚提醒 (B)為擴建高速公路，政府強制徵收私人土地 (C)《菸害防制法》上路前，在公共場所吸菸者不罰 (D)購買電器，使用前應詳細閱讀說明書。
6. ( ) 針對狹義法律的說明，下列何者正確？ (A)是國家的根本大法 (B)由立法委員公布 (C)由司法院大法官表決通過 (D)為立法機關依立法程序制定。
7. ( ) 宗霖認為自己無故被學校退學，便提出訴願。對訴願決定不服的他，可以再採取下列何種方式尋求救濟？ (A)申訴 (B)釋憲 (C)請願 (D)行政訴訟。
8. ( ) 在未獲得法定代理人同意的情況下，10歲的威力和舞林大道公司簽下演藝經紀契約，不過這份合約卻缺乏法律效力，這是因為威力在《民法》上屬於下列哪一種行為能力人？ (A)無行為能力人 (B)限制行為能力人 (C)完全行為能力人 (D)受監護宣告之人。
9. ( ) 民事訴訟的審理過程中，下列何者必須負責提出證據？ (A)法官 (B)律師 (C)書記官 (D)雙方當事人。
10. ( ) 現年16歲的小唐觸犯「強盜罪」而被捕，移送至少年法院。小唐可能會受到何種處罰？ (A)當庭訓誡 (B)未滿18歲，不受《刑法》處罰 (C)處以假日生活輔導 (D)受刑罰處罰。
11. ( ) 下列哪項行為已經違反《刑法》規定，必須負起刑事上的法律責任？ (A)開車時持用手機通話 (B)未依約定償還借款 (C)將他人打成重傷後致死 (D)未依規定完成出生登記。
12. ( ) 保障兒童及少年是全世界的趨勢，以下哪一部法律是由我國所制定，能接軌國際兒少權益保障的精神，也使《兒童權利公約》具有國內法律效力？ (A)《勞動基準法》 (B)《兒童權利宣言》 (C)《兒童權利公約施行法》 (D)《兒童及少年福利與權益保障法》。
13. ( ) 下列是公民老師發給學生的學習單。根據內容判斷，何人的作答最正確？

(A)

姓名：王大同

下列哪些屬於《憲法》保障人民的受益權？

請勾選出來。

出國旅遊

受國民教育

向總統請願

申請災害救助

參加集會遊行

參與公民投票



(B)

姓名： 李小明

下列哪些屬於《憲法》  
保障人民的受益權？  
請勾選出來。

- 出國旅遊
- 受國民教育
- 向總統請願
- 申請災害救助
- 參加集會遊行
- 參與公民投票

(C)

姓名： 趙玲玲

下列哪些屬於《憲法》  
保障人民的受益權？  
請勾選出來。

- 出國旅遊
- 受國民教育
- 向總統請願
- 申請災害救助
- 參加集會遊行
- 參與公民投票

(D)

姓名： 孫中慧

下列哪些屬於《憲法》  
保障人民的受益權？  
請勾選出來。

- 出國旅遊
- 受國民教育
- 向總統請願
- 申請災害救助
- 參加集會遊行
- 參與公民投票

14. ( ) 《民法》是規範私人間權利義務關係的法律。請問：下列關於《民法》的敘述，何者正確？ (A)主要規範內容為各種私人間的犯罪行為和身分關係 (B)必須符合《憲法》對於基本權利的規定 (C)《民法》的法律位階高於《憲法》 (D)結婚只要雙方意思一致、口頭答應即有效。
15. ( ) 一切訴訟之成立，以有下列哪三個主體之存在為必要？(甲)法官 (乙)原告 (丙)被告 (丁)檢察官 (A)甲乙丙 (B)甲乙丁 (C)甲丙丁 (D)乙丙丁。
1. (A) 2. (D) 3. (C) 4. (D) 5. (A)  
6. (D) 7. (D) 8. (B) 9. (D) 10. (D)  
11. (C) 12. (C) 13. (B) 14. (B) 15. (A)