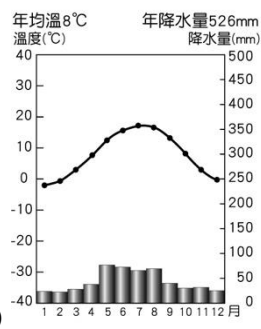
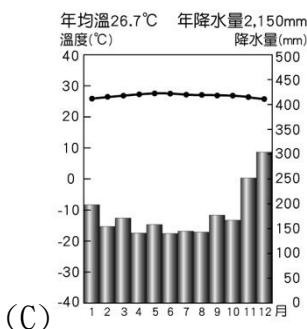
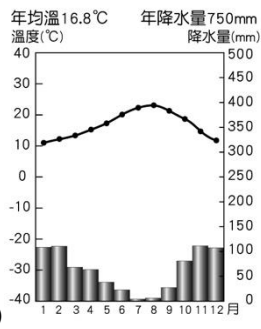
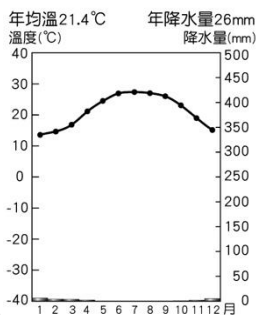
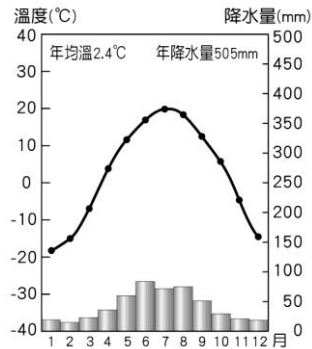


一、選擇

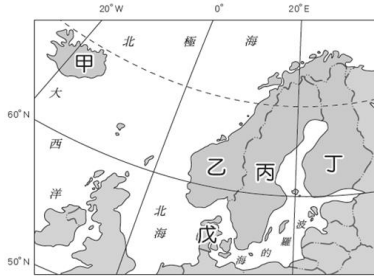
- () 隨著北極浮冰面積逐漸縮小，以往航行於紐約及東京間的貨輪已不再行經巴拿馬運河，而是取道於西北航道，達成更有效率的航行。請問：紐約及東京間的貨輪取道於西北航道的主因為何？ (A)航行距離較短 (B)補給據點較多 (C)航行安全性較高 (D)氣候較溫暖。
- () 位於大西洋沿岸的西歐，其氣候類型以溫帶海洋性氣候為主。請問：溫帶海洋性氣候的降水分布情況主要為下列何者？ (A)四季有雨 (B)夏乾冬雨 (C)夏雨冬乾 (D)四季乾燥。
- () 中南美洲各國在脫離統治後，雖然在政治上取得獨立的地位，但仍有國家仰賴大量出口單一農產品及礦產獲利，這樣的經濟發展結構並不理想的主要原因為何？ (A)容易受市場價格波動而影響經濟 (B)無法取得充足的勞力 (C)礦產蘊藏量不足 (D)族群複雜易引起政局動盪。
- () 英國的首都橫跨於泰晤士河上，金融服務業興盛，為世界三大金融中心之一。請問：英國首都為下列何者？ (A)巴黎 (B)布魯塞爾 (C)倫敦 (D)鹿特丹。
- () 下列哪一張氣候圖所代表的區域內生態資源最為豐富，並提供了動物所需的氧氣，被稱為「地球之肺」？



- () 麻衣由日本東京搭乘前往紐約的長距離航班，因為太無聊而玩起飛機上的小螢幕，她發現飛行軌跡經過北極地區，使得飛行路線看起來是曲線。請問：該航線之所以要選擇飛行經過北極地區的主要原因為何？ (A)可以減少飛行距離 (B)可以增加運載容量 (C)可以減少空氣汙染 (D)可以減少過境費用。
- () 附圖為北美洲某地的氣候圖。關於此氣候類型的描述，下列何者錯誤？ (A)位在美國西北部沿海 (B)夏季為主要雨季 (C)冬季常有暴風雪 (D)年溫差較大。



- () 附圖中的代號丁為芬蘭，芬蘭境內湖泊廣布，因而有「千湖國」之稱。請問：其湖泊廣布的形成主要原因為何？ (A)斷層陷落 (B)冰河侵蝕 (C)風力堆積 (D)火山作用。



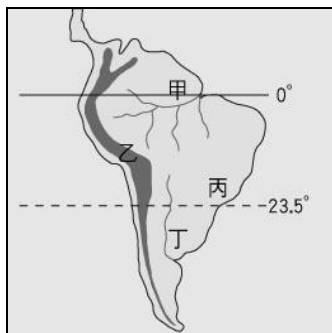
- () 附圖是一則國際新聞。若欲進一步獲得烏克蘭的相關資料，應到歐洲哪一個地區查詢？ (A)東歐 (B)西歐 (C)南歐 (D)北歐。

南臨黑海的烏克蘭位於歐洲與俄羅斯之間，國內向來有「親歐」與「親俄」兩大陣營。西元 2013 年底，烏克蘭親俄羅斯的總統中止和歐盟簽署政治和自由貿易協議，導致民眾群起抗議，總統因處置失當已經下臺，歐、美多國則對烏克蘭發出旅遊警訊。

10. () 塞內加爾、馬利、查德和迦納等非洲國家人民，為擺脫戰爭和貧困而逃往歐洲，多數移民乘坐不適合海上航行的橡皮艇冒險偷渡前往。根據國際移民組織於西元 2020 年 3 月初發布有關「○○海域」失蹤移民的統計顯示，自西元 2014 年以來，因渡越該海域而死亡的移民人數突破 2 萬大關。請問：文中提及的「○○海域」應為附圖中何者？ (A)甲 (B)乙 (C)丙 (D)丁。

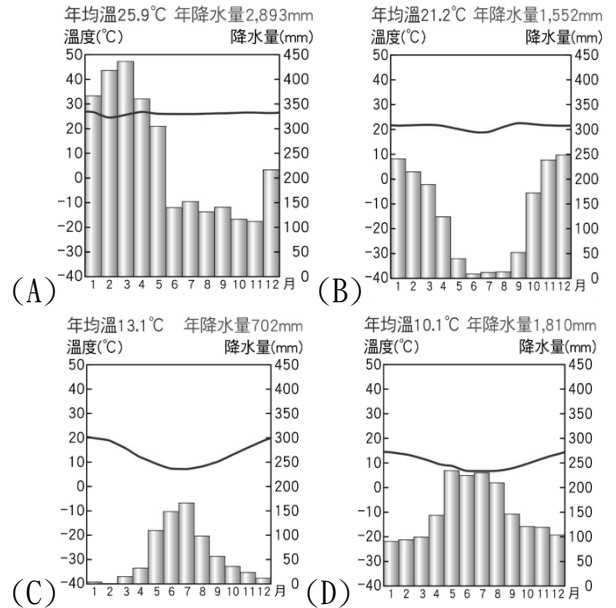


11. () 「這裡原是一片茂密的森林，樹種繁多，高低成層，為全球最豐富的生物基因庫。近年來，巴西為求經濟發展，森林被大量剷平或焚毀，可能導致環境浩劫，而引起全球關切。」請問：上文描述的森林區應分布在附圖中何處？ (A)甲 (B)乙 (C)丙 (D)丁。



12. () 「聖地牙哥位於智利國土中部、南緯 30~40 度之間的大陸西海岸，由西班牙征服者佩德羅·德·巴爾迪維亞於西

元 1541 年建立，選擇在該地建城的原因，與當地的氣候環境及易守的地理形勢有關。」請問：下列氣候圖中，何者最接近聖地牙哥的氣候類型？



13. () 電影《阿波羅 13 號》敘述在登陸月球的太空任務中，出了意外狀況，在危急的情形下，地勤中心如何將太空人救回地球。電影中有一幕太空人大叫：「□□，我們有麻煩了！」□□是指美國的太空梭發射基地 NASA 所在的城市，即是下列何地？ (A)紐約 (B)底特律 (C)舊金山 (D)休士頓。
14. () 歐洲是世界所有洲別中，氣候最溫和的一洲，沒有沙漠氣候的分布，其主要是受到下列哪些因素的影響？(甲)西風吹拂 (乙)東西走向的山脈不阻擋水氣 (丙)河川多由南向北流 (丁)位居板塊接觸帶的位置 (A)甲乙 (B)甲丙 (C)乙丙 (D)丙丁。
15. () 附圖為歐洲知名的觀光景點——龐貝城遺址，因受非洲板塊與歐亞板塊推擠影響，當地多火山地形分布。請問：該景點最可能位於下列哪一個地區？ (A)西歐 (B)南歐 (C)東歐 (D)北歐。

