

座號：\_\_\_ 姓名：\_\_\_\_\_

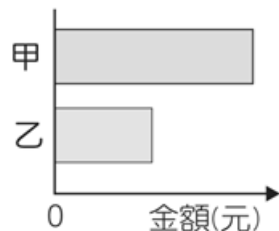
一、選擇-

1. ( )小功和阿平一起在速食店打工，根據附圖兩人的對話內容，關於阿平為了去拿演唱會門票所付出的機會成本，下列敘述何者正確？ (A)阿平所付出的機會成本總共為 500 元 (B)阿平坐火車的花費須算入機會成本中 (C)阿平少賺的 500 元無須算入機會成本 (D)無關機會成本，因門票價值高於工資。



《答案》B

2. ( )附圖為某班在園遊會擺設炸雞排攤位的營收結果，其中甲代表銷貨收入，乙代表利潤。若後來發現生產成本中少列入「兩桶食用油」的費用，在此筆費用列入計算後，圖中甲、乙最可能出現的情況為下列何者？ (A)甲上升，乙不變 (B)甲不變，乙上升 (C)甲不變，乙下降 (D)甲下降，乙不變。



《答案》C

3. ( )不同的資源分配方法各有其優缺點，以圖書館閱覽室的使用分配而言，下列敘述何者正確？ (A)「先占先贏」可能產生資源長期被占用的缺點 (B)「輪流使用」不會使資源閒置未能被充分利用 (C)「抽籤」是最公平也最符合個人的需求的方式 (D)「相互協調」能尊重每個人的需求且最有效率。

《答案》A

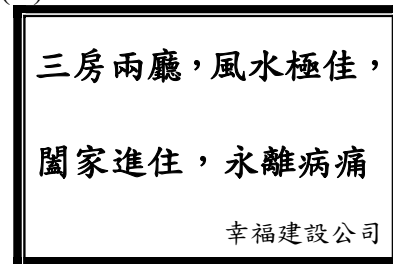
4. ( )小禾對於生活中廠商間的競爭方式感到很有興趣，因此她將觀察到的現象整理如附表。請根據表中內容判斷，何組的兩個觀察皆屬於非價格競爭的方式？

選項	觀察一	觀察二
A	火鍋店推出消費滿 10 鍋送 1 鍋的活動。	量販店推出冰品折扣活動。
B	超市祭出限時搶購，晚上 8 點全館商品 9 折。	早餐店推出漢堡配飲料折 5 元活動。
C	速食店與知名動畫合作，推出限量紀念杯。	超商推出咖啡買一送一優惠。
D	飲料店為響應環保，推出消費滿 300 元送環保吸管的活動。	比薩店要挑戰消費者的味蕾，推出榴槤口味披薩。

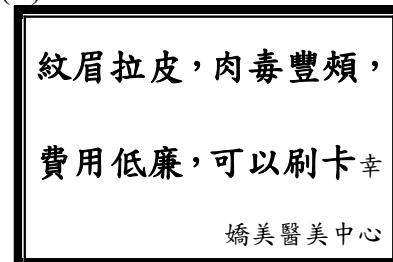
《答案》D

5. ( )根據調查發現，許多消費爭議肇因於「不實廣告」。下列哪一則廣告文案最有可能涉及廣告不實而違反《公平交易法》？

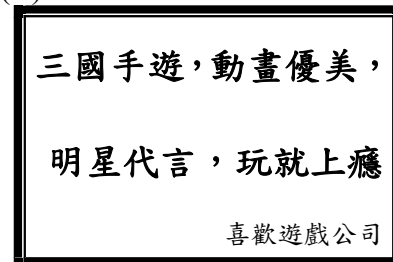
(A)



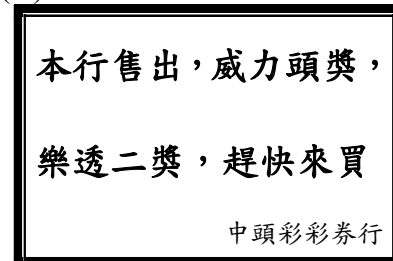
(B)



(C)



(D)



《答案》A

6. ( )關於《公平交易法》的相關敘述，下列何者正

確？ (A)針對消費者網路購物訂有相關的保障規定 (B)民眾可撥打全國消費者服務專線尋求協助 (C)各地方政府依據此法設立消費者服務中心 (D)旨在維護交易秩序，確保廠商間公平競爭。

《答案》D

7. ( )若某國同時具備從事多項產業的能力，基於資源有限且為了使資源做最有效的發揮，應將生產資源應用在「相對較具效率」的產品上。上述內容中有關「相對較具效率」的說明，下列何者正確？ (A)該國應從事銷貨收入高的產業 (B)該國應選擇生產單價高的產業 (C)該國應選擇生產產量高的產業 (D)該國應從事機會成本低的產業。

《答案》D

8. ( )身在臺灣的我們，可以嚐到法國巧克力、美國牛肉、紐西蘭奇異果和南韓泡菜，主要原因為何？ (A)生產力有所提高 (B)開放進出口貿易 (C)保護本國的產業 (D)人民的收入過高。

《答案》B

9. ( )貨幣的出現使得市場交易更加便利，但其出現是經過一連串的演進過程。關於貨幣演進的敘述，下列何者最為適切？ (A)法定貨幣有數量不足、攜帶不便等缺點 (B)硬幣與紙鈔的使用，有耗時費力的缺點 (C)政府發行商品貨幣，並強制規定其價值 (D)以物易物的交易方式缺乏價值衡量標準。

《答案》D

10. ( )老師在課堂中舉辦「多元消費我最神」辯論比賽，下列哪位同學的論點正確？

(A)

儲值卡和信用卡是交易媒介，但皆不是法定貨幣。



阿凱

(B)

信用卡由政府發行，並以法令強制規定其價值。



大香

(C)

儲值卡用於大額開銷，信用卡則用於小額付費。



阿餘

(D)

儲值卡由民間發行，但政府以法令強制規定其價值。



小利

《答案》A

11. ( )小香和阿凱兩人正在討論最近新買的衣服，從附圖兩人的對話中，可以看出貨幣的何種功能？ (A)價值儲存 (B)交易媒介 (C)價值衡量 (D)債務清償。

我新買的這件衣服才650元。

我買的這件衣服和你的看起來差不多，但才450元耶，比你的便宜。



小香



阿凱

《答案》C

12. ( )幾位大學同學畢業後舉辦同學會，聊了各自的工作近況。下列四人的對話中，哪一個勞動者的勞動權利，受到雇主侵害？

(A)

我的公司規定員工，上下班必須按時打卡。



可心

(B)

我的主管承諾，我的薪資會高於基本工資。



恩賢

(C)

公司最近很多事，要求員工天天都要加班。



小瑜

(D)

我取得會計師執照，才獲得公司優先錄取。



士廷

《答案》C

13. ( ) 臺北市設置志工管理整合平臺，讓有志成為志工作者、想招募志工的公私機構，都可以透過這個平臺進行媒合，並從平臺上獲取相關法令等資訊。從勞動的類型來檢視，志工的勞動類型與下列何者最相似？ (A) 幫忙家務勞動的家庭主婦 (B) 大賣場展期的賣場工讀生 (C) 工地裡搬運雜物的臨時工 (D) 大醫院的排班計程車司機。

《答案》A

14. ( ) 全球經濟從新冠肺炎(COVID-19)疫情影響中慢慢復甦，一些企業開始增加職缺。有些跨國企業以提高報酬方式，準備爭奪時薪勞工，希望透過加薪或增加補貼，從其他工作崗位招募勞工，或吸引觀望者重新投身就業市場。關於前述跨國企業提高時薪徵才的過程，下列敘述何者正確？ (A) 這些跨國企業是屬於市場勞動的雇用者 (B) 企業招募時薪勞工會造成人力資源浪費 (C) 招募時薪勞工是因為疫情造成經濟衰退 (D) 企業加薪是因為勞動契約無法自由決定。

《答案》A

15. ( ) 小紅剛應徵上某間公司，到職時發現自己懷孕了，卻遭到該公司以「面試時蓄意隱瞞懷孕且提供不實資訊」為由，予以解雇。小紅進而在網路留言，並揭露該公司的惡行。底下有許多勞工網友的回覆及討論如附圖。對文中各個勞工網友面臨的困境加以剖析，下列何者敘述正確？ (A) 小紅的案例顯示，我國法律沒有保障懷孕婦女的工作權益 (B) 小藍的回覆顯示，生理假、育嬰假是女性專有的勞動權益 (C) 小綠的說法顯示，重要工作不給女性來擔任符合公平原則 (D) 小黃的困境顯示，勞資雙方存在著權力之間的不對等現象。

人物	對話
小藍	很多公司不喜歡員工請假，不論是生理假、育嬰假，甚至於病假和年假都要刁難。
小綠	不僅請假，有些公司甚至覺得女性隨時可能因為家庭請辭，也不交付重要工作給女性。
小黃	我們公司更誇張，常常要求員工先打卡下班，再繼續加班。為了保住工作，也只能忍著。

《答案》D