

一、單題 (每題 6.5 分, 共 97.5 分)

1. () 權力分立是民主國家政府運作的原則, 以防止政府濫權。下列有關我國各機關制衡之說明, 何者正確?

(A) 立法院通過總統、副總統罷免案後, 需經司法院憲法法庭審理 (B) 行政院院長是由總統提名, 經立法院同意後由總統任命 (C) 五院內的公務人員均須通過考試院考選部辦理之公務人員考試及格始得任用 (D) 行政院彙編各院之年度預算需經監察院審查後始得執行, 執行結果須作成決算經立法院審核。

2. () 電子媒體舉辦一項公共議題的民意調查, 參與者的票數比例如附表, 對於題目中該項權利的行使, 下列何者解讀完全正確?

題目：你是否贊成將選舉權下修到 18 歲？	
贊成，18 歲已經心智成熟	88%
反對，18 歲尚不適合做重大決定	9%
沒意見	3%

(A) 《憲法》中保障人民充分參與政治的權利 (B) 人民採取投票方式對政策表達同意或反對 (C) 人民可要求國家有所作為以享受特定利益 (D) 由人民主動提出立法原則, 或者制定政策。

3. () 我國總統自直接民選以來, 歷屆總統、副總統的選舉資料概況, 如右圖所示。根據表中資料判斷, 可對近年的社會現象做出何項推論?

屆數	總人數 (萬人)	具投票權人數 (萬人)	具投票權人數比例 (%)	投票率 (%)
9	2,131	1,431	67.16	76.04
10	2,213	1,546	69.86	82.69
11	2,257	1,650	73.12	80.28
12	2,292	1,732	75.56	76.33
13	2,322	1,808	77.88	74.38
14	2,348	1,878	79.98	66.27

(A) 人口結構顯示出少子化現象 (B) 民眾政治參與意願逐年上升 (C) 自然增加率大於社會增加率 (D) 投票率增加會加速政黨輪替。

4. () 下列我國的行政區中, 何者的層級和其他三者不同?

(A) 基隆市政府 (B) 花蓮市政府 (C) 新竹市政府 (D) 屏東縣政府。

5. () 根據附圖中的新聞報導, 此事務應屬於地方政府的哪一項職權?



(A) 社會福利 (B) 教育文化 (C) 經濟發展 (D) 安全衛生。

6. () 「2015 年桃園市復興區區長民選, 由曾志湘當選第一屆補選區長。」由上述內容判斷, 下列針對「復興區」的敘述, 何者有誤?

(A) 為地方自治團體之一 (B) 上級機關為桃園市政府 (C) 區長可以審查此區的預算 (D) 區長要處理造橋鋪路等地方事務。

7. () 附表是我國某一項公職人員選舉的開票結果。根據表中內容判斷, 此項選舉所選出的公職人員應具有下列何項職權? [110.會考]

○○市第二選區第 59 號投開票所開票結果				
候選人得票數				
候選人	①王大銘	②趙小虹	③康自強	
得票數	203 票	1046 票	344 票	
政黨得票數				
政黨	甲黨	乙黨	丙黨	丁黨
得票數	1039 票	89 票	326 票	159 票

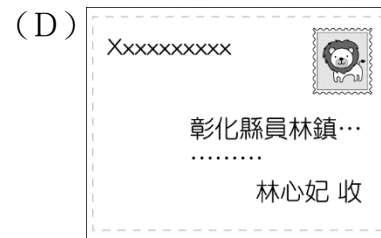
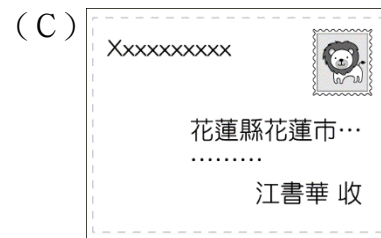
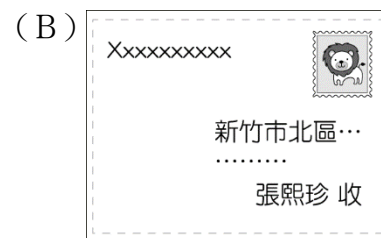
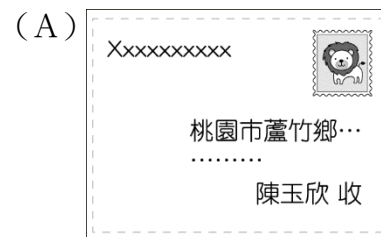
(A) 依法公布法律、命令 (B) 編列中央政府的預算 (C) 質詢地方政府的行政官員 (D) 提出總統、副總統彈劾案。

8. () 關於以下新聞中的地方行政區, 下列說明何者正確?

生活快報
地方政府擴大偏鄉地區的就醫補助對象, 增加三個山地原住民鄉鎮的交通補助範圍, 有助於提升偏遠地區孕、產婦做生產前後檢查的比例, 不僅可以提早發現高風險孕婦, 更能保護新生兒的健康。

(A) 原住民區民代表由選舉產生 (B) 地方行政首長由行政院指派 (C) 文中所提地區均屬於自治團體 (D) 最高政府層級為直轄市政府。

9. () 珍妮今年欲寄實體的聖誕賀卡給國小同學, 下列哪封信的地址寫錯了?



10. () 煒梅任職於某單位, 於職務上收到一封當地居民的請願書, 內容與轄區內鎮民代表會的決議相關。依照請願人的請求, 只揭露部分資訊, 下列何者較可能是他收到的該封請願書?

(A) 請願人:
新竹市 ○○ 社區發展協會

(B) 發起單位:
基隆 ○○ 社區發展協會

(C) 受文對象：
宜蘭縣政府 建設處

(D) 說明內容：
本山地原住民區依法應享
有自治權限……

11. () 臺北市大安區新生南路與和平東路交叉口的陸橋已興建超過40年，承載老臺北人的共同記憶，四邊通行有頂蓋的設計，是市民跨越馬路時最安全的選擇，許多文化作品例如：電影、小說亦是取景於此。但由於馬路拓寬、行人行進路線重新規畫，陸橋的使用率大為降低，臺北市政府基於橋梁年限與結構安全決議拆除。有民眾發起守護天橋的活動，簽署聯署書表達意見，並至臺北市議會抗議，希望政府也應考量城市歷史景觀代表的文化價值。根據上述，下列說明何者正確？

- (A) 民眾集結抗議是《憲法》賦予的結社自由
- (B) 反對拆除的民眾可向臺北市政府提起訴願
- (C) 可以善用創制權要求臺北市政府修改決議
- (D) 透過連署書闡述意見，是表現自由的展現。


12. () 「本法第21條所稱基本工資係指勞工在正常工作時間內所得之報酬。但延長工作時間之工資及休假日、例假日工作加給之工資均不計入。」上述條文鉅細靡遺的說明「基本工資」的定義與規定，可知「本法」應屬哪一個法律位階？


- (A) 《憲法》 (B) 法律 (C) 命令 (D) 約法。


13. () 最新消息：「花蓮發生強震，於秀林鄉測得最大震度6強，縣內多棟建築物傾斜倒塌，餘震不斷，為維護民眾安全，全縣停班停課一天。行政院內政部火速成立中央災害應變中心，協助受困災區搜救及救災物資的運送補給。」根據上述新聞判斷，關於地方政府的運作和組成，下列何項敘述正確？


- (A) 發布即刻停班停課消息屬於中央政府的權限
- (B) 內政部與花蓮縣政府兩者權力彼此相互制衡
- (C) 最大震度地區與花蓮市屬相同地方政府層級
- (D) 花蓮縣政府可交付縣內區公所從事災後復原工作。

14. () 街坊鄰居正在討論選舉時要注意的事項，下列何人的說法正確？

(A) 

(B) 

(C) 

(D) 

15. () 禎涵翻閱期刊時看到一篇研究分析，根據以下內容判斷，關於此爭議的重點，下列說明何者最正確？

本次修法爭議在於政府機關因業務需要以簽約方式短期聘用專業技術人員，但未來若符合資格標準，該人員所擔任的職務應是透過考試院法定程序考取資格的正式職缺，因此質疑行政部門是否藉此廣開後門任用私人，違反我國《憲法》規範中央政府體制的職權設計。所幸最後相關規定並未納入正式條文之中。

- (A) 監察權無法確實監督政府機關 (B) 行政權未能遵守權力分立原則 (C) 考試權難以發揮公正舉

1. 答案：(C)

解析：(A)由選舉人投票複決(B)行政院院長由總統任命(D)行政院編列預算經立法院審查後執行，執行結果做成決算經監察院審計部審核。

2. 答案：(A)

解析：文中提到「題目中該項權利的行使」，由表中內容可知此項權利是指選舉權，屬於參政權，而《憲法》規定參政權是人民的基本權利，就是為保障人民有參與政治的權利，故選(A)。

3. 答案：(A)

4. 答案：(B)

解析：(A)(C)(D)縣(市)(B)縣轄市。

5. 答案：(C)

解析：造橋鋪路為經濟發展事務。

6. 答案：(C)

解析：(C)桃園市復興區為直轄市山地原住民區，由復興區民代表會負責審查預算。

7. 答案：(D)

解析：附表為立法委員選舉，採單一選區兩票制。(A)總統職權(B)行政院職權(C)地方民代職權(D)立法委員職權。

8. 答案：(C)

解析：鄉、鎮為縣所管轄。(A)縣並無區民代表的設置(B)地方行政首長由人民選出(D)應是縣政府。

9. 答案：(A)

解析：(A)桃園市蘆竹區。

10. 答案：(C)

解析：由題幹可知焯梅所在行政區有鎮民代表會的組織，故選(C)。(A)(B)市(與縣同級)(D)直轄市。

11. 答案：(D)

解析：(A)應是集會自由(B)民眾個人權益未因行政處分受損(C)創制權是人民提出立法原則或制定政策的權利。

12. 答案：(C)

解析：此條文為《勞動基準法施行細則》第11條(基本工資之意義)。

13. 答案：(C)

解析：(A)應為地方政府的權限(B)兩者並非同一層級的政府權力部門(D)花蓮縣並無區公所的組織。

14. 答案：(B)

解析：根據現行《公職人員選舉罷免法》規定，6歲以下幼兒可以和陪同家長進入投票所。(A)不可攜帶手機進入投票所(C)不可撕毀選票(D)投票當日禁止出現任何可能使候選人當選的行為。

15. 答案：(B)

解析：我國將考試權從行政權獨立出來，是為了避免產生濫用私人的缺點，因此若相關規定納入正式條文中，權力分立的目的可能遭到破壞。